



ODONTÓLOGO, ODONTÓLOGO PROTESISTA E ODONTÓLOGO ODONTOPEDIATRA

LEIA ATENTAMENTE AS INSTRUÇÕES ABAIXO.

01 - Você recebeu do fiscal o seguinte material:

a) este caderno, com as 50 questões das Provas Objetivas, sem repetição ou falha, assim distribuídas:

LÍNGUA PORTUGUESA III		CONHECIMENTOS GERAIS		NOÇÕES DE INFORMÁTICA		CONHECIMENTOS ESPECÍFICOS	
Questões	Pontos	Questões	Pontos	Questões	Pontos	Questões	Pontos
1 a 5	1,0	11 a 15	2,0	16 a 20	2,0	21 a 30	1,0
6 a 10	3,0					31 a 40	2,0
						41 a 50	3,0

b) 1 **Cartão-Resposta** destinado às respostas às questões objetivas formuladas nas provas.

02 - Verifique se este material está em ordem e se o seu nome e número de inscrição conferem com os que aparecem no **CARTÃO**. Caso contrário, notifique **IMEDIATAMENTE** o fiscal.

03 - Após a conferência, o candidato deverá assinar no espaço próprio do **CARTÃO**, preferivelmente a caneta esferográfica de tinta na cor preta.

04 - No **CARTÃO-RESPOSTA**, a marcação das letras correspondentes às respostas certas deve ser feita cobrindo a letra e preenchendo todo o espaço compreendido pelos círculos, a **caneta esferográfica de tinta na cor preta**, com um traço contínuo e denso. A LEITORA ÓTICA é sensível a marcas escuras; portanto, preencha os campos de marcação completamente, sem deixar claros.

Exemplo: A B C D E

05 - Tenha muito cuidado com o **CARTÃO**, para não o **DOBRAR**, **AMASSAR** ou **MANCHAR**. O **CARTÃO SOMENTE** poderá ser substituído caso esteja danificado em suas margens superior ou inferior - **BARRA DE RECONHECIMENTO PARA LEITURA ÓTICA**.

06 - Para cada uma das questões objetivas, são apresentadas 5 alternativas classificadas com as letras (A), (B), (C), (D) e (E); só uma responde adequadamente ao quesito proposto. Você só deve assinalar **UMA RESPOSTA**: a marcação em mais de uma alternativa anula a questão, **MESMO QUE UMA DAS RESPOSTAS ESTEJA CORRETA**.

07 - As questões objetivas são identificadas pelo número que se situa acima de seu enunciado.

08 - **SERÁ ELIMINADO** do Concurso Público o candidato que:

- se utilizar, durante a realização das provas, de máquinas e/ou relógios de calcular, bem como de rádios gravadores, *headphones*, telefones celulares ou fontes de consulta de qualquer espécie;
- se ausentar da sala em que se realizam as provas levando consigo o Caderno de Questões e/ou o **CARTÃO-RESPOSTA**.

09 - Reserve os 30 (trinta) minutos finais para marcar seu **CARTÃO-RESPOSTA**. Os rascunhos e as marcações assinaladas no Caderno de Questões **NÃO SERÃO LEVADOS EM CONTA**.

10 - Quando terminar, entregue ao fiscal **O CADERNO DE QUESTÕES E O CARTÃO-RESPOSTA E ASSINE A LISTA DE PRESENÇA**.

11 - **O TEMPO DISPONÍVEL PARA ESTAS PROVAS DE QUESTÕES OBJETIVAS É DE 3 (TRÊS) HORAS E 30 (TRINTA) MINUTOS**.



LÍNGUA PORTUGUESA III

Texto I

MEDIDAS PARA VIVER MELHOR

A evolução do conceito de qualidade total criou em diversos setores organizacionais um sistema de pontuação – ISO – que é usado na avaliação da qualidade de produtos, serviços, de meio ambiente e assim por diante. Os parâmetros a serem alcançados para obter o certificado ISO, que torna produtos mais competitivos e serviços mais eficientes, indicam o "caminho das pedras" que deve ser seguido para se alcançar a qualidade total.

Em praticamente todos os setores de atividades o ser humano é o elo importante desse sistema. Então por que não avaliar os parâmetros da qualidade de vida do ser humano? Por que não tentar buscar a qualidade total de vida?

É importante se promover o bem-estar total, pois o moderno conceito de saúde vai muito além da ausência de doenças e engloba o bem-estar físico, social, intelectual, emocional, espiritual e profissional, que devem ser avaliados periodicamente. Além desses fatores, outro segmento que muito influi na qualidade total de vida é a saúde familiar.

Com o objetivo de melhor administrar a saúde, deve-se procurar um equilíbrio entre o trabalho, o lazer e o repouso, valorizar as férias e os fins de semana, priorizar a auto-estima, preservar e aprimorar o equilíbrio emocional. Temos verificado que mesmo as pessoas que fazem exames médicos periódicos ou *check-ups*, muitas vezes, devido a dificuldades emocionais, não seguem as recomendações finais, o que representa um fator limitante na promoção da saúde.

Quem assimila o conceito de saúde total e adota medidas positivas de comportamento e hábitos saudáveis, consegue melhor pontuação e conseqüentemente mais se aproxima do almejado "ISO ser humano". Para isso cada pessoa deve estabelecer o seu programa de saúde. Todos podem conseguir um viver melhor desde que haja uma firme decisão de se cuidar.

Deve-se fazer um planejamento geral e escolher a primeira meta a ser alcançada. As prioridades variam de pessoa para pessoa.

JACQUES, Haroldo. **O Globo**. 16 maio 2004. (adaptado)

1

De acordo com o Texto I, ISO é um sistema de pontuação que avalia, nas empresas, a:

- (A) competitividade dos produtos e a eficiência dos serviços.
- (B) qualidade das matérias-primas e a evolução do conceito.
- (C) capacidade de produção e a qualificação do pessoal.
- (D) qualidade do produto e as condições de produção.
- (E) política empresarial e a estratégia organizacional.

2

Segundo o Texto I, a postura de vida que, por sua abrangência, mais se aproxima do "ISO ser humano" é:

- (A) ter uma alimentação variada e balanceada.
- (B) saber conjugar trabalho, lazer e férias.
- (C) adotar medidas positivas de comportamento e hábitos saudáveis.
- (D) fazer periodicamente visitas ao médico e ao dentista.
- (E) evitar estresse, pensamentos negativos e excesso de tarefas.

3

De acordo com o Texto I, é **INCORRETO** afirmar que:

- (A) os procedimentos para atingir o "ISO ser humano" variam de pessoa para pessoa.
- (B) o conceito de saúde ultrapassa os limites físicos.
- (C) o bem-estar total é um dos aspectos da saúde física.
- (D) a saúde familiar é um fator relevante no contexto de vida do ser humano.
- (E) a qualidade de vida do ser humano depende do programa de saúde por ele estabelecido.

4

Analise a ordem em que os tópicos abaixo estão abordados no Texto I.

- I - O papel desempenhado pelo ser humano no sistema.
- II - A relação entre saúde e bem-estar.
- III - O conceito de ISO.
- IV - A qualidade total de vida.

A seqüência correta é:

- (A) I – II – III – IV
- (B) I – III – IV – II
- (C) II – III – IV – I
- (D) III – I – II – IV
- (E) III – IV – I – II



Continua



5

"Todos podem conseguir um viver melhor desde que haja uma firme decisão de se cuidar." (l. 36-37)

A segunda oração do período acima estabelece com a anterior uma relação de:

- (A) causa.
- (B) tempo.
- (C) conclusão.
- (D) concessão.
- (E) condição.

6

Considerando-se a regra ortográfica de "auto-estima", qual dos vocábulos abaixo está corretamente grafado?

- (A) Auto-ajuda.
- (B) Auto-destruição.
- (C) Auto-biografia.
- (D) Auto-correção.
- (E) Auto-motriz.

Texto II

NUNCA DESCUIDANDO DO DEVER

Jamais permitiria que seu marido fosse para o trabalho com a roupa mal passada, não dissessem os colegas que era esposa descuidada. Debruçada sobre a tábua com olho vigilante, dava caça às dobras, desfazia pregas, aplainando punhos e peitos, afiando o vinco das calças. E a poder de ferro e goma, envolta em vapores, alcançava o ponto máximo da sua arte ao arrancar dos colarinhos liso brilho de celulóide.

Impecável, transitava o marido pelo tempo. Que, embora respeitando ternos e camisas, começou subrepticiamente a marcar seu avanço na pele do rosto. Um dia notou a mulher um leve afrouxar-se das pálpebras. Semanas depois percebeu que, no sorriso, franziam-se fundos os cantos dos olhos.

Mas foi só muitos meses mais tarde que a presença de duas fortes pregas descendo dos lados do nariz até a boca tornou-se inegável. Sem nada dizer, ela esperou a noite. Tendo finalmente certeza de que o homem dormia o mais pesado dos sonos, pegou um paninho úmido e, silenciosa, ligou o ferro.

COLASANTI, Marina. **Contos de amor rasgados.**

7

Nas passagens "Impecável, transitava o marido pelo tempo." (l. 9) e "... a presença de duas fortes pregas ..." (l. 15-16), as palavras destacadas podem ser substituídas, sem alterar o sentido do texto, respectivamente, por:

- (A) imaculado – marcas.
- (B) infalível – rugas.
- (C) incensurável – manchas.
- (D) indiferente – dobras.
- (E) indiscutível – carquilhas.

8

No Texto II, o substantivo que, semanticamente, define a ação da mulher é:

- (A) gratidão.
- (B) respeito.
- (C) insegurança.
- (D) vaidade.
- (E) obstinação.

9

A relação entre o vocábulo destacado e a categoria gramatical a ele atribuída está correta em:

- (A) "... com a roupa **mal** passada," (l. 2) – adjetivo.
- (B) "... **que** era esposa descuidada." (l. 3) – pronome relativo.
- (C) "começou subrepticiamente **a** marcar..." (l. 10-11) – preposição.
- (D) "... um leve **afrouxar-se** das pálpebras." (l. 12-13) – verbo.
- (E) "... só **muitos** meses ..." (l. 15) – advérbio.

10

Assinale a opção em que, ao transcrever a oração "embora respeitando ternos e camisas," (l. 10), o sentido permanece.

- (A) Como respeitava ternos e camisas.
- (B) Ainda que respeitasse ternos e camisas.
- (C) Por respeitar ternos e camisas.
- (D) Quando respeitou ternos e camisas.
- (E) Uma vez que respeitava ternos e camisas.



CONHECIMENTOS GERAIS

11

Das proibições feitas aos servidores públicos do Estado do Tocantins fazem parte:

- I - ausentar-se do serviço durante o expediente sem autorização;
- II - receber presente em razão de suas atribuições;
- III - recusar fé a documentos públicos;
- IV - utilizar recursos do Estado para fins particulares;
- V - recusar-se a atualizar seus dados cadastrais, quando solicitado.

Estão corretos os itens:

- (A) II e IV, apenas.
- (B) I, II e III, apenas.
- (C) II, III e IV, apenas.
- (D) I, II, III e IV, apenas.
- (E) I, II, III, IV e V.

12

A aposentadoria é um direito do servidor público. O principal documento que garante esse direito é o(a):

- (A) Estatuto Único dos Servidores Públicos.
- (B) Estatuto do Idoso.
- (C) Constituição Federal.
- (D) Lei de Seguridade Social.
- (E) Consolidação das Leis Trabalhistas.

13

A Secretaria de Saúde do Estado do Tocantins estabeleceu várias ações importantes, tais como criação de unidades de saúde, capacitação de profissionais, campanhas de vacinação, medidas de saneamento e criação de Agentes Comunitários. Isto significa que no Estado desenvolve-se uma política de saúde com caráter:

- (A) assistencial.
- (B) emergencial.
- (C) populista.
- (D) preventivo.
- (E) terapêutico.

14

Nos últimos anos, a economia tocantinense tem demonstrado um excelente desempenho. Em 2003, as exportações aumentaram cerca de 646% em relação a todo o ano de 2001, sendo esse crescimento do comércio exterior puxado especialmente pelas exportações de:

- (A) soja.
- (B) feijão.
- (C) milho.
- (D) arroz.
- (E) algodão.


15

O Aeroporto Internacional de Palmas é considerado estratégico pela Infraero para a movimentação de cargas e passageiros. Isto acontece porque o aeroporto:

- (A) é um dos mais modernos aeroportos de médio porte do País.
- (B) tem capacidade para mais de 350 000 passageiros/ano.
- (C) vem aumentando gradativamente seu movimento.
- (D) localiza-se próximo à Usina de Lajeado.
- (E) situa-se no ponto mais central do País.


NOÇÕES DE INFORMÁTICA

16

O botão  da barra de ferramentas Padrão do Word permite:

- (A) chamar o calendário.
- (B) exibir o mapa do documento.
- (C) inserir uma tabela.
- (D) inserir uma planilha do Excel.
- (E) remover objetos selecionados.






17

A célula A3 de uma planilha Excel contém e apresenta o valor 0,62. Se esta célula for selecionada e, em seguida, o botão  for pressionado, a célula A3 passará a conter o valor:



- (A) 0,62 e exibir 6,2%
- (B) 0,62 e exibir 62%
- (C) 6,2 e exibir 6,2%
- (D) 6,2 e exibir 62%
- (E) 62 e exibir 62%

18

No Outlook, o ícone que indica que uma mensagem possui algum documento anexo é:

- (A) 
- (B) 
- (C) 
- (D) 
- (E) 

19

Os ícones  e  ao lado de uma mensagem no Outlook indicam, respectivamente, que a mensagem apresenta prioridade:

- (A) baixa e ainda não foi lida.
- (B) baixa e já foi lida.
- (C) alta e ainda não foi lida.
- (D) alta e já foi respondida.
- (E) alta e já foi encaminhada.

20

No Windows 2000 a combinação padrão de teclas "Ctrl + Z" é utilizada para:

- (A) excluir o item selecionado.
- (B) exibir a caixa de diálogo executar.
- (C) exibir o menu iniciar.
- (D) desfazer o efeito do último comando.
- (E) minimizar todas as janelas abertas.



CONHECIMENTOS ESPECÍFICOS

21

De acordo com a Constituição Federal de 1988, assinale a afirmativa correta, a respeito do Sistema Único de Saúde (SUS).

- (A) O SUS deve colaborar com as ações de saúde do trabalhador.
- (B) O SUS deve ser centralizado, com direção do governo Federal.
- (C) As instituições privadas de saúde devem participar do SUS.
- (D) Compete ao SUS controlar a proteção do meio ambiente.
- (E) Compete ao SUS fiscalizar e inspecionar alimentos.

22

Em relação à saúde do trabalhador, é disposição da Lei 8.080/1990, que trata das condições para a promoção, proteção e recuperação da saúde e da organização e funcionamento dos serviços correspondentes:

- (A) a garantia ao sindicato dos trabalhadores de requerer a interdição de máquina, quando houver exposição a risco para a saúde dos trabalhadores.
- (B) a indicação da entidade sindical regional como responsável pelo acompanhamento e avaliação do impacto das novas tecnologias à saúde.
- (C) a promoção de atividades de educação para a saúde como a determinação do uso de equipamentos de proteção individual.
- (D) a responsabilidade da entidade sindical pela informação e o controle dos riscos de acidentes de trabalho e das doenças profissionais nas empresas.
- (E) as políticas de saúde do trabalhador com a responsabilidade da formação de recursos e promoção de cursos de reciclagem.

23

São princípios do Sistema Único de Saúde (SUS) que constam na Lei 8.080 de 19 de setembro de 1990:

- (A) centralização, utilização da epidemiologia e regionalização.
- (B) igualdade, universalidade e direito à informação.
- (C) igualdade, duplicidade de meios e hierarquização.
- (D) universalidade, integralidade e autonomia da comunidade.
- (E) regionalização, centralização e individualidade das ações.

24

Faz parte do SUS um subsistema de Atenção à Saúde Indígena que deve:

- (A) ser custeado exclusivamente pela União, com seus recursos próprios.
- (B) ser centralizado, hierarquizado e regionalizado, tal como o SUS.
- (C) adotar um modelo de atenção à saúde pautado por uma abordagem diferenciada e global.
- (D) selecionar as populações indígenas a serem atendidas.
- (E) servir de retaguarda e referência ao SUS nas regiões onde residem as populações indígenas.

25

Em relação aos recursos humanos que atuam no SUS são feitas as afirmações a seguir.

- I - Os cargos e funções de chefia, direção e assessoramento, só poderão ser exercidos em regime de tempo integral.
- II - Os servidores que legalmente acumulam dois cargos ou empregos somente poderão exercer suas atividades em um único estabelecimento do SUS.
- III - Somente poderão exercer suas atividades em mais de um estabelecimento do SUS os ocupantes de cargos ou funções de chefia, direção ou assessoramento.

Está(ão) correta(s) a(s) afirmação(ões):

- (A) I, apenas.
- (B) II, apenas.
- (C) I e III, apenas.
- (D) II e III, apenas.
- (E) I, II e III.

26

Em um exame clínico, a melhor maneira para testar a mobilidade lateral de um elemento dentário é:

- (A) a percussão vertical, através de forças verticais contínuas.
- (B) com radiografias periapicais e oclusais.
- (C) através de forças laterais alternadas com o cabo de dois espelhos.
- (D) através de testes térmicos quente e frio, alternando a temperatura.
- (E) através de teste elétrico, através de corrente alternada.

27

Em endodontia, a técnica do deslocamento do Cone ou Regra de Clark permite ao profissional:

- (A) determinar a odontometria correta de um elemento dentário.
- (B) diagnosticar lesão pulpar irreversível.
- (C) ancorar corretamente o cone de guta-percha para obturação.
- (D) avaliar a densidade óssea.
- (E) localizar canais ou raízes sobrepostas.

28

Com relação à anatomia pulpar, o primeiro molar inferior normalmente apresenta:

- (A) 1 canal radicular central.
- (B) 2 canais radiculares, um mesial e um distal.
- (C) 3 canais radiculares, um mesial e dois distais.
- (D) 3 canais radiculares, dois mesiais e um distal.
- (E) 5 canais radiculares, três mesiais e dois distais.



29

No preparo mecânico e químico de canais radiculares, um dos benefícios da irrigação com o hipoclorito de sódio é:

- (A) dissolver os resíduos pulpares de tecidos orgânicos.
- (B) vedar o ápice radicular.
- (C) permitir a presa do material obturador.
- (D) facilitar a localização dos canais radiculares.
- (E) manter a lama dentinária *smear layer*.

30

Na obtenção e determinação do comprimento do canal, o método mais comumente usado é o(a):

- (A) eletrônico.
- (B) radiográfico.
- (C) tátil.
- (D) avaliação com ponta de papel absorvente.
- (E) proporção de 1:3 com o comprimento da coroa clínica.

31

O antisséptico bucal cuja eficácia foi cientificamente comprovada como sendo a melhor no controle da placa bacteriana é o(a):

- (A) fenol.
- (B) peróxido de hidrogênio.
- (C) composto amônio quaternário.
- (D) fucsina.
- (E) clorexidina.

32

Um paciente do sexo feminino com 40 anos de idade apresenta há pelo menos 20 anos um aumento de volume em região de linha média palatina, duro, indolor e com coloração normal. Trata-se de um:

- (A) granuloma central de células gigantes.
- (B) adenoma pleomórfico.
- (C) adenoma monomórfico.
- (D) adenocarcinoma.
- (E) tórus palatino.

33

Qual dos tópicos faz parte da anamnese de um paciente?

- (A) Citologia esfoliativa.
- (B) História da doença atual.
- (C) Hemograma completo.
- (D) Exame radiográfico.
- (E) Exame clínico panorâmico.

34

Durante um exame radiográfico periapical da região do segundo molar superior, que estrutura anatômica pode ser evidenciada como uma imagem radiopaca digitiforme na borda póstero-inferior da radiografia?

- (A) Seio maxilar.
- (B) Forame incisivo.
- (C) Linha oblíqua externa.
- (D) Septo nasal.
- (E) Processo coronóide da mandíbula.

35

Qual a temperatura e tempo corretos para que se obtenha esterilização eficaz através do calor seco?

	Temperatura (°C)	Tempo (minutos)
(A)	130	30
(B)	130	90
(C)	130	120
(D)	160	90
(E)	160	120

36

Assinale a afirmativa correta com relação à técnica de pulpotomia em odontopediatria.

- (A) Se a polpa no local da exposição sangra excessivamente, após a completa remoção da cárie, este dente é um bom candidato à pulpotomia.
- (B) A técnica de pulpotomia com formocresol é indicada nos dentes decíduos.
- (C) A técnica de pulpotomia está indicada mesmo em casos de necrose pulpar.
- (D) Para o acesso à câmara pulpar e a pulpotomia não há necessidade de isolamento absoluto.
- (E) No caso de pulpotomia com formocresol, este deve ser deixado no interior da câmara pulpar por um ano.

37

Com relação à técnica de reimplante dentário em dentes permanentes avulsionados, é correto afirmar que:

- (A) dentes reimplantados em até 30 minutos apresentam maior chance de sucesso a longo prazo.
- (B) dentes reimplantados com o ápice fechado não necessitam de endodontia após o reimplante.
- (C) o ligamento periodontal do dente avulsionado por cerca de 20 minutos deve ser cuidadosamente raspado antes do reimplante.
- (D) solução salina, leite bovino pasteurizado e saliva não são indicados para o acondicionamento do dente antes do reimplante.
- (E) não é necessário nenhum tipo de imobilização do dente reimplantado, após o procedimento.

38

O neoplasma de tecido mole mais comum na cavidade oral é o:

- (A) carcinoma basocelular.
- (B) granuloma de células gigantes periférico.
- (C) odontoma.
- (D) fibroma.
- (E) mioblastoma.



39

Das soluções anestésicas locais abaixo, qual a que possui maior duração?

- (A) Lidocaína 2%.
- (B) Lidocaína 2% com adrenalina 1:50.000.
- (C) Lidocaína 2% com adrenalina 1:100.000.
- (D) Bupivacaína 0,5% com adrenalina 1:200.000.
- (E) Articaina 4% com adrenalina 1:20.000.

40

Com relação ao ácido etilenodiaminotetracético dissódico (EDTA), é correto afirmar-se que:

- (A) deve ser utilizado somente em canais largos e retos.
- (B) deve permanecer nos canais por longo período, inclusive entre as consultas.
- (C) é um material para obturação dos canais.
- (D) é uma solução para dissolver os resíduos pulpares de tecidos orgânicos.
- (E) é uma solução quelante, usada para amolecer a dentina.

41

Uma lesão caracterizada como uma pequena área de elevação superficial em mucosa oral, circunscrita e variando em forma e coloração, é classificada como:

- (A) equimose.
- (B) úlcera.
- (C) pápula.
- (D) escoriação.
- (E) hematoma.

42

A melhor tomada radiográfica para avaliação de lesões de cárie em dentes posteriores é:

- (A) oclusal oblíqua.
- (B) oclusal ortogonal.
- (C) panorâmica da arcada dentária.
- (D) periapical.
- (E) *bite-wing*.

43

Dentre os procedimentos de prevenção da cárie dentária listados abaixo, qual pode ser enquadrado no 2º nível de prevenção específica?

- (A) Nutrição adequada no período de formação dos dentes.
- (B) Dentisteria operatória.
- (C) Fluoretação da água.
- (D) Alimentação detergente.
- (E) Exodontias múltiplas.

44

Qual a indicação para utilizar o ultra-som no controle da infecção no consultório dentário?

- (A) Limpeza prévia de instrumentais odontológicos e cirúrgicos.
- (B) Limpeza prévia de campos e gaze cirúrgica.
- (C) Esterilização de materiais odontológicos de consumo.
- (D) Esterilização de instrumentais odontológicos e cirúrgicos.
- (E) Esterilização de campos e gaze cirúrgica.

45

A quantidade de flúor, em ppm, a ser adicionado a água que não contenha flúor para que se obtenha a redução de cerca de 50 a 60% na incidência de cárie, sem complicações (nível ótimo), é de:

- (A) 1
- (B) 10
- (C) 100
- (D) 1.000
- (E) 10.000

46

Na técnica de tratamento indireto da polpa (remoção superficial da cárie ou terapia pulpar indireta), após a forração da lesão cariada remanescente com material biocompatível radiopaco e selamento da cavidade com uma restauração temporária durável, quanto tempo o profissional deve aguardar para reabrir o dente?

- (A) 1 a 2 dias.
- (B) 1 a 2 semanas.
- (C) 3 semanas.
- (D) 6 a 8 semanas.
- (E) 6 meses.

47

Para radiografia de molares inferiores através da técnica de bisettriz intra-oral, a angulação vertical média do feixe de raios-x é de:

- (A) + 40° a + 60°.
- (B) + 20° a + 30°.
- (C) 0° a - 5°.
- (D) - 10° a - 20°.
- (E) - 30° a - 40°.

48

A dose máxima de lidocaína, em mg/Kg, sem vasoconstrictor é de:

- (A) 1,1 (B) 2,2 (C) 3,3 (D) 4,4 (E) 5,5



49

A metemoglobinemia é uma condição na qual há desenvolvimento de um estado semelhante à cianose na ausência de anormalidades cardíacas ou respiratórias, podendo em último grau, resultar em morte. O anestésico local usado em odontologia que, administrado em altas doses, pode causar metemoglobinemia é a:

- (A) procaína.
- (B) prilocaína.
- (C) bupivacaína.
- (D) lidocaína.
- (E) mepivacaína.

50

Na técnica de tuberosidade baixa ou bloqueio do nervo alveolar súpero-posterior em um adulto, a angulação vertical com o plano oclusal e a profundidade de penetração da agulha, em mm, respectivamente, devem ser:

- (A) 10° e 16
- (B) 45° e 16
- (C) 45° e 32
- (D) 90° e 8
- (E) 90° e 16