



ENFERMEIRO DO TRABALHO

LEIA ATENTAMENTE AS INSTRUÇÕES ABAIXO.

01 - Você recebeu do fiscal o seguinte material:

a) este caderno, com as 50 questões das Provas Objetivas, sem repetição ou falha, assim distribuídas:

LÍNGUA PORTUGUESA III		CONHECIMENTOS GERAIS		NOÇÕES DE INFORMÁTICA		CONHECIMENTOS ESPECÍFICOS	
Questões	Pontos	Questões	Pontos	Questões	Pontos	Questões	Pontos
1 a 5	1,0	11 a 15	2,0	16 a 20	2,0	21 a 30	1,0
6 a 10	3,0					31 a 40	2,0
						41 a 50	3,0

b) 1 **Cartão-Resposta** destinado às respostas às questões objetivas formuladas nas provas.

02 - Verifique se este material está em ordem e se o seu nome e número de inscrição conferem com os que aparecem no **CARTÃO**. Caso contrário, notifique **IMEDIATAMENTE** o fiscal.

03 - Após a conferência, o candidato deverá assinar no espaço próprio do **CARTÃO**, preferivelmente a caneta esferográfica de tinta na cor preta.

04 - No **CARTÃO-RESPOSTA**, a marcação das letras correspondentes às respostas certas deve ser feita cobrindo a letra e preenchendo todo o espaço compreendido pelos círculos, a **caneta esferográfica de tinta na cor preta**, com um traço contínuo e denso. A LEITORA ÓTICA é sensível a marcas escuras; portanto, preencha os campos de marcação completamente, sem deixar claros.

Exemplo: A B C D E

05 - Tenha muito cuidado com o **CARTÃO**, para não o **DOBRAR**, **AMASSAR** ou **MANCHAR**. O **CARTÃO SOMENTE** poderá ser substituído caso esteja danificado em suas margens superior ou inferior - **BARRA DE RECONHECIMENTO PARA LEITURA ÓTICA**.

06 - Para cada uma das questões objetivas, são apresentadas 5 alternativas classificadas com as letras (A), (B), (C), (D) e (E); só uma responde adequadamente ao quesito proposto. Você só deve assinalar **UMA RESPOSTA**: a marcação em mais de uma alternativa anula a questão, **MESMO QUE UMA DAS RESPOSTAS ESTEJA CORRETA**.

07 - As questões objetivas são identificadas pelo número que se situa acima de seu enunciado.

08 - **SERÁ ELIMINADO** do Concurso Público o candidato que:

a) se utilizar, durante a realização das provas, de máquinas e/ou relógios de calcular, bem como de rádios gravadores, *headphones*, telefones celulares ou fontes de consulta de qualquer espécie;

b) se ausentar da sala em que se realizam as provas levando consigo o Caderno de Questões e/ou o **CARTÃO-RESPOSTA**.

09 - Reserve os 30 (trinta) minutos finais para marcar seu **CARTÃO-RESPOSTA**. Os rascunhos e as marcações assinaladas no Caderno de Questões **NÃO SERÃO LEVADOS EM CONTA**.

10 - Quando terminar, entregue ao fiscal **O CADERNO DE QUESTÕES E O CARTÃO-RESPOSTA E ASSINE A LISTA DE PRESENÇA**.

11 - **O TEMPO DISPONÍVEL PARA ESTAS PROVAS DE QUESTÕES OBJETIVAS É DE 3 (TRÊS) HORAS E 30 (TRINTA) MINUTOS**.



LÍNGUA PORTUGUESA III

Texto I

MEDIDAS PARA VIVER MELHOR

A evolução do conceito de qualidade total criou em diversos setores organizacionais um sistema de pontuação – ISO – que é usado na avaliação da qualidade de produtos, serviços, de meio ambiente e assim por diante. Os parâmetros a serem alcançados para obter o certificado ISO, que torna produtos mais competitivos e serviços mais eficientes, indicam o "caminho das pedras" que deve ser seguido para se alcançar a qualidade total.

Em praticamente todos os setores de atividades o ser humano é o elo importante desse sistema. Então por que não avaliar os parâmetros da qualidade de vida do ser humano? Por que não tentar buscar a qualidade total de vida?

É importante se promover o bem-estar total, pois o moderno conceito de saúde vai muito além da ausência de doenças e engloba o bem-estar físico, social, intelectual, emocional, espiritual e profissional, que devem ser avaliados periodicamente. Além desses fatores, outro segmento que muito influi na qualidade total de vida é a saúde familiar.

Com o objetivo de melhor administrar a saúde, deve-se procurar um equilíbrio entre o trabalho, o lazer e o repouso, valorizar as férias e os fins de semana, priorizar a auto-estima, preservar e aprimorar o equilíbrio emocional. Temos verificado que mesmo as pessoas que fazem exames médicos periódicos ou *check-ups*, muitas vezes, devido a dificuldades emocionais, não seguem as recomendações finais, o que representa um fator limitante na promoção da saúde.

Quem assimila o conceito de saúde total e adota medidas positivas de comportamento e hábitos saudáveis, consegue melhor pontuação e conseqüentemente mais se aproxima do almejado "ISO ser humano". Para isso cada pessoa deve estabelecer o seu programa de saúde. Todos podem conseguir um viver melhor desde que haja uma firme decisão de se cuidar.

Deve-se fazer um planejamento geral e escolher a primeira meta a ser alcançada. As prioridades variam de pessoa para pessoa.

JACQUES, Haroldo. **O Globo**. 16 maio 2004. (adaptado)

1

De acordo com o Texto I, ISO é um sistema de pontuação que avalia, nas empresas, a:

- (A) competitividade dos produtos e a eficiência dos serviços.
- (B) qualidade das matérias-primas e a evolução do conceito.
- (C) capacidade de produção e a qualificação do pessoal.
- (D) qualidade do produto e as condições de produção.
- (E) política empresarial e a estratégia organizacional.

2

Segundo o Texto I, a postura de vida que, por sua abrangência, mais se aproxima do "ISO ser humano" é:

- (A) ter uma alimentação variada e balanceada.
- (B) saber conjugar trabalho, lazer e férias.
- (C) adotar medidas positivas de comportamento e hábitos saudáveis.
- (D) fazer periodicamente visitas ao médico e ao dentista.
- (E) evitar estresse, pensamentos negativos e excesso de tarefas.

3

De acordo com o Texto I, é **INCORRETO** afirmar que:

- (A) os procedimentos para atingir o "ISO ser humano" variam de pessoa para pessoa.
- (B) o conceito de saúde ultrapassa os limites físicos.
- (C) o bem-estar total é um dos aspectos da saúde física.
- (D) a saúde familiar é um fator relevante no contexto de vida do ser humano.
- (E) a qualidade de vida do ser humano depende do programa de saúde por ele estabelecido.

4

Analise a ordem em que os tópicos abaixo estão abordados no Texto I.

- I - O papel desempenhado pelo ser humano no sistema.
- II - A relação entre saúde e bem-estar.
- III - O conceito de ISO.
- IV - A qualidade total de vida.

A seqüência correta é:

- (A) I – II – III – IV
- (B) I – III – IV – II
- (C) II – III – IV – I
- (D) III – I – II – IV
- (E) III – IV – I – II



Continua



5

"Todos podem conseguir um viver melhor desde que haja uma firme decisão de se cuidar." (l. 36-37)

A segunda oração do período acima estabelece com a anterior uma relação de:

- (A) causa.
- (B) tempo.
- (C) conclusão.
- (D) concessão.
- (E) condição.

6

Considerando-se a regra ortográfica de "auto-estima", qual dos vocábulos abaixo está corretamente grafado?

- (A) Auto-ajuda.
- (B) Auto-destruição.
- (C) Auto-biografia.
- (D) Auto-correção.
- (E) Auto-motriz.

Texto II

NUNCA DESCUIDANDO DO DEVER

Jamais permitiria que seu marido fosse para o trabalho com a roupa mal passada, não dissessem os colegas que era esposa descuidada. Debruçada sobre a tábua com olho vigilante, dava caça às dobras, desfazia pregas, aplainando punhos e peitos, afiando o vinco das calças. E a poder de ferro e goma, envolta em vapores, alcançava o ponto máximo da sua arte ao arrancar dos colarinhos liso brilho de celulóide.

Impecável, transitava o marido pelo tempo. Que, embora respeitando ternos e camisas, começou subrepticiamente a marcar seu avanço na pele do rosto. Um dia notou a mulher um leve afrouxar-se das pálpebras. Semanas depois percebeu que, no sorriso, franziam-se fundos os cantos dos olhos.

Mas foi só muitos meses mais tarde que a presença de duas fortes pregas descendo dos lados do nariz até a boca tornou-se inegável. Sem nada dizer, ela esperou a noite. Tendo finalmente certeza de que o homem dormia o mais pesado dos sonos, pegou um paninho úmido e, silenciosa, ligou o ferro.

COLASANTI, Marina. **Contos de amor rasgados.**

7

Nas passagens "Impecável, transitava o marido pelo tempo." (l. 9) e "... a presença de duas fortes **pregas** ..." (l. 15-16), as palavras destacadas podem ser substituídas, sem alterar o sentido do texto, respectivamente, por:

- (A) imaculado – marcas.
- (B) infalível – rugas.
- (C) incensurável – manchas.
- (D) indiferente – dobras.
- (E) indiscutível – carquilhas.

8

No Texto II, o substantivo que, semanticamente, define a ação da mulher é:

- (A) gratidão.
- (B) respeito.
- (C) insegurança.
- (D) vaidade.
- (E) obstinação.

9

A relação entre o vocábulo destacado e a categoria gramatical a ele atribuída está correta em:

- (A) "... com a roupa **mal** passada," (l. 2) – adjetivo.
- (B) "... **que** era esposa descuidada." (l. 3) – pronome relativo.
- (C) "começou subrepticiamente **a** marcar..." (l. 10-11) – preposição.
- (D) "... um leve **afrouxar-se** das pálpebras." (l. 12-13) – verbo.
- (E) "... só **muitos** meses ..." (l. 15) – advérbio.

10

Assinale a opção em que, ao transcrever a oração "embora respeitando ternos e camisas," (l. 10), o sentido permanece.

- (A) Como respeitava ternos e camisas.
- (B) Ainda que respeitasse ternos e camisas.
- (C) Por respeitar ternos e camisas.
- (D) Quando respeitou ternos e camisas.
- (E) Uma vez que respeitava ternos e camisas.



CONHECIMENTOS GERAIS

11

Das proibições feitas aos servidores públicos do Estado do Tocantins fazem parte:

- I - ausentar-se do serviço durante o expediente sem autorização;
- II - receber presente em razão de suas atribuições;
- III - recusar fé a documentos públicos;
- IV - utilizar recursos do Estado para fins particulares;
- V - recusar-se a atualizar seus dados cadastrais, quando solicitado.

Estão corretos os itens:

- (A) II e IV, apenas.
- (B) I, II e III, apenas.
- (C) II, III e IV, apenas.
- (D) I, II, III e IV, apenas.
- (E) I, II, III, IV e V.

12

A aposentadoria é um direito do servidor público. O principal documento que garante esse direito é o(a):

- (A) Estatuto Único dos Servidores Públicos.
- (B) Estatuto do Idoso.
- (C) Constituição Federal.
- (D) Lei de Seguridade Social.
- (E) Consolidação das Leis Trabalhistas.

13

A Secretaria de Saúde do Estado do Tocantins estabeleceu várias ações importantes, tais como criação de unidades de saúde, capacitação de profissionais, campanhas de vacinação, medidas de saneamento e criação de Agentes Comunitários. Isto significa que no Estado desenvolve-se uma política de saúde com caráter:

- (A) assistencial.
- (B) emergencial.
- (C) populista.
- (D) preventivo.
- (E) terapêutico.

14

Nos últimos anos, a economia tocantinense tem demonstrado um excelente desempenho. Em 2003, as exportações aumentaram cerca de 646% em relação a todo o ano de 2001, sendo esse crescimento do comércio exterior puxado especialmente pelas exportações de:

- (A) soja.
- (B) feijão.
- (C) milho.
- (D) arroz.
- (E) algodão.


15

O Aeroporto Internacional de Palmas é considerado estratégico pela Infraero para a movimentação de cargas e passageiros. Isto acontece porque o aeroporto:

- (A) é um dos mais modernos aeroportos de médio porte do País.
- (B) tem capacidade para mais de 350 000 passageiros/ano.
- (C) vem aumentando gradativamente seu movimento.
- (D) localiza-se próximo à Usina de Lajeado.
- (E) situa-se no ponto mais central do País.


NOÇÕES DE INFORMÁTICA

16

O botão  da barra de ferramentas Padrão do Word permite:

- (A) chamar o calendário.
- (B) exibir o mapa do documento.
- (C) inserir uma tabela.
- (D) inserir uma planilha do Excel.
- (E) remover objetos selecionados.






17

A célula A3 de uma planilha Excel contém e apresenta o valor 0,62. Se esta célula for selecionada e, em seguida, o botão  for pressionado, a célula A3 passará a conter o valor:



- (A) 0,62 e exibir 6,2%
- (B) 0,62 e exibir 62%
- (C) 6,2 e exibir 6,2%
- (D) 6,2 e exibir 62%
- (E) 62 e exibir 62%

18

No Outlook, o ícone que indica que uma mensagem possui algum documento anexo é:

- (A) 
- (B) 
- (C) 
- (D) 
- (E) 

19

Os ícones  e  ao lado de uma mensagem no Outlook indicam, respectivamente, que a mensagem apresenta prioridade:

- (A) baixa e ainda não foi lida.
- (B) baixa e já foi lida.
- (C) alta e ainda não foi lida.
- (D) alta e já foi respondida.
- (E) alta e já foi encaminhada.

20

No Windows 2000 a combinação padrão de teclas "Ctrl + Z" é utilizada para:

- (A) excluir o item selecionado.
- (B) exibir a caixa de diálogo executar.
- (C) exibir o menu iniciar.
- (D) desfazer o efeito do último comando.
- (E) minimizar todas as janelas abertas.



CONHECIMENTOS ESPECÍFICOS

21

De acordo com a Constituição Federal de 1988, assinale a afirmativa **INCORRETA**, a respeito do Sistema Único de Saúde (SUS).

- (A) O SUS deve colaborar com as ações de saúde do trabalhador.
- (B) O SUS deve ser centralizado, com direção do governo Federal.
- (C) As instituições privadas de saúde devem participar do SUS.
- (D) Compete ao SUS controlar a proteção do meio ambiente.
- (E) Compete ao SUS fiscalizar e inspecionar alimentos.

22

Em relação à saúde do trabalhador, é disposição da lei 8.080/1990, que trata das condições para a promoção, proteção e recuperação da saúde e da organização e funcionamento dos serviços correspondentes:

- (A) a garantia ao sindicato dos trabalhadores de requerer a interdição de máquina, quando houver exposição a risco para a saúde dos trabalhadores.
- (B) a indicação da entidade sindical regional como responsável pelo acompanhamento e avaliação do impacto das novas tecnologias à saúde.
- (C) a promoção de atividades de educação para a saúde como a determinação do uso de equipamentos de proteção individual.
- (D) a responsabilidade da entidade sindical pela informação e o controle dos riscos de acidentes de trabalho e das doenças profissionais nas empresas.
- (E) as políticas de saúde do trabalhador com a responsabilidade da formação de recursos humanos e promoção de cursos de reciclagem.

23

São princípios do Sistema Único de Saúde (SUS) que constam na lei 8.080 do 19 de setembro de 1990:

- (A) centralização, utilização da epidemiologia e regionalização.
- (B) igualdade, universalidade e direito à informação.
- (C) igualdade, duplicidade de meios e hierarquização.
- (D) universalidade, integralidade e autonomia da comunidade.
- (E) regionalização, centralização e individualidade das ações.

24

Faz parte do SUS um subsistema de Atenção à Saúde Indígena que deve:

- (A) ser custeado exclusivamente pela União, com seus recursos próprios.
- (B) ser centralizado, hierarquizado e regionalizado, tal como o SUS.
- (C) adotar um modelo de atenção à saúde pautado por uma abordagem diferenciada e global.
- (D) selecionar as populações indígenas a serem atendidas.
- (E) servir de retaguarda e referência ao SUS nas regiões onde residem as populações indígenas.

25

Em relação aos recursos humanos que atuam no SUS são feitas as afirmações a seguir.

- I - Os cargos e funções de chefia, direção e assessoramento, só poderão ser exercidos em regime de tempo integral.
- II - Os servidores que legalmente acumulam dois cargos ou empregos somente poderão exercer suas atividades em um único estabelecimento do SUS.
- III - Somente poderão exercer suas atividades em mais de um estabelecimento do SUS os ocupantes de cargos ou funções de chefia, direção ou assessoramento.

Está(ão) correta(s) a(s) afirmação(ões):

- (A) I, apenas.
- (B) II, apenas.
- (C) I e III, apenas.
- (D) II e III, apenas.
- (E) I, II e III.

26

A lavagem das mãos é, dentre outros cuidados, um redutor de infecções. Durante quantos segundos, e em que áreas, especificamente, deve ser feita a escovação para que a lavagem seja eficaz?

- (A) 5, nas polpas digitais e palmas das mãos.
- (B) 10, em torno dos leitos ungueais e entre os dedos.
- (C) 15, nas polpas digitais.
- (D) 30, nas palmas das mãos.
- (E) 35, entre os dedos e polpas digitais.

27

A gripe é uma doença viral aguda que, previsível e periodicamente, causa epidemias em todo o mundo. A vacinação promove a profilaxia de algumas complicações, entre as quais:

- (A) bronquites e asma.
- (B) bronquites e pneumonias bacterianas.
- (C) asma e pneumonias virais.
- (D) pneumonias virais ou bacterianas.
- (E) endocardites e bronquites.

28

De quantas respirações por minuto é a frequência respiratória normal no adulto?

- (A) 06 a 10
- (B) 08 a 12
- (C) 12 a 18
- (D) 15 a 25
- (E) 20 a 25



29

Constitui um cuidado de enfermagem na fase intra-operatória:

- (A) identificar o paciente.
- (B) conferir o nome do paciente.
- (C) examinar a área a ser operada.
- (D) estabelecer um plano de prescrição.
- (E) comunicar as alterações no paciente quanto a pulso, respiração, temperatura e pressão sanguínea.

30

São sinais clássicos de choque:

- (A) pulso rápido e fino, pele fria e úmida e respiração rápida.
- (B) pulso rápido e fino, edema de membros inferiores e prurido.
- (C) pele fria e úmida, petéquias e cefaléia.
- (D) hipertensão, infecção e pele fria.
- (E) desidratação, anemia e pulso rápido e fino.

31

O choque hipovolêmico é causado por:

- (A) sobrecarga cardíaca.
- (B) presença de infecção.
- (C) inadequada saturação de O₂.
- (D) diminuição de volume de líquidos por perda de sangue ou plasma.
- (E) aumento da pressão sanguínea.

32

A determinação da presença ou ausência de pulso, bem como da qualidade dos pulsos periféricos, é importante para avaliação das condições da:

- (A) circulação venosa periférica.
- (B) circulação arterial periférica.
- (C) placa de ateroma.
- (D) sobrecarga pulmonar.
- (E) sobrecarga cardíaca.

33

Na tromboembolia, a principal complicação da terapia anticoagulante é:

- (A) infecção.
- (B) *angina pectoris*.
- (C) sangramento espontâneo em qualquer parte do corpo.
- (D) derrame pleural.
- (E) choque neurogênico.

34

Quando é dispensada assistência a um paciente em situação de emergência, muitas decisões importantes precisam ser tomadas. No tratamento de emergência, vários princípios são aplicáveis, **EXCETO**:

- (A) controlar a hemorragia e suas conseqüências.
- (B) avaliar e restaurar o débito cardíaco.
- (C) prevenir e tratar o choque.
- (D) manter uma via aérea pérvia e proporcionar ventilação adequada.
- (E) iniciar a monitorização de ECG, se necessário.

35

Nos acidentes com picadas de cobras, o início da administração do soro antiofídico deve ocorrer nas primeiras:

- (A) 3 horas.
- (B) 6 horas.
- (C) 12 horas.
- (D) 22 horas.
- (E) 24 horas.

36

O tratamento imediato de uma fratura pode determinar o prognóstico do paciente. Um dos cuidados de enfermagem em pacientes com fraturas é:

- (A) palpar o pulso distal à fratura e todos os pulsos periféricos.
- (B) retirar sangue para exames laboratoriais.
- (C) medir a diurese das 24 horas.
- (D) fazer oxigenioterapia três vezes ao dia.
- (E) fazer compressa quente de 06 em 06 horas.

37

A lavagem gástrica é um procedimento muito adotado para esvaziamento do estômago nos casos de ingestão de substâncias venenosas. Durante a lavagem gástrica, o paciente deve ser posicionado em decúbito:

- (A) lateral direito com pernas estendidas para favorecer o fluxo sanguíneo.
- (B) lateral esquerdo para diminuir a passagem de líquido no duodeno.
- (C) lateral esquerdo para garantir a homeostase.
- (D) ventral para garantir a regurgitação.
- (E) dorsal para garantir a homeostase.



38

Nos casos de doença infecciosa, são complicações potenciais:

- I – infecção hematogênica secundária;
- II – choque séptico;
- III – endocardite;
- IV – formação de abscesso.

Estão corretas as complicações:

- (A) I, III e V, apenas.
- (B) II, IV e VI, apenas.
- (C) III, V e VI, apenas.
- (D) I, II, III e IV, apenas.
- (E) I, IV, V e VI, apenas.

39

Quantas horas antes do exame deverão ser suspensas as alimentações e os líquidos em um paciente que fará uma broncoscopia?

- (A) 01 (B) 02 (C) 04 (D) 06 (E) 12

40

Quanto minutos antes da cirurgia deve ser administrada a medicação pré-anestésica?

- (A) 20 a 35
- (B) 25 a 45
- (C) 30 a 45
- (D) 30 a 60
- (E) 45 a 75

41

Do ponto de vista psicossomático a origem dos acidentes de trabalho está relacionada principalmente ao fator:

- (A) humano.
- (B) social.
- (C) ambiental.
- (D) econômico.
- (E) cultural.

42

São metais relacionadas a doenças ocupacionais:

- (A) tetracloroeto de carbono e chumbo.
- (B) tricloroetileno e cromo.
- (C) benzol e mercúrio.
- (D) cromo e mercúrio.
- (E) sílica e benzol.

43

São sintomas presentes na intoxicação por substâncias radioativas como urânio e rádio:

- (A) tosse, cefaléia e náuseas.
- (B) neoplasias, vômitos e fragilidade capilar.
- (C) vertigem, edema de pulmão e vômito.
- (D) câimbras, fragilidade capilar e vertigem.
- (E) cefaléia, câimbras e neoplasmas.

44

São exames que auxiliam o diagnóstico para detecção de intoxicação por chumbo:

- (A) biópsia e RX de tórax.
- (B) RX de tórax e exame de sangue.
- (C) exames de sangue e de urina.
- (D) exame de urina e miclograma.
- (E) exame de urina e RX de tórax.

45

A perda auditiva induzida por ruídos acomete indivíduos expostos a ruídos industriais ou explosivos altos e estão relacionados a lesão:

- (A) no ouvido externo.
- (B) no ouvido médio.
- (C) na cóclea.
- (D) na bigorna.
- (E) nas vias auditivas centrais.

46

Na seleção dos candidatos à atividade de mergulho será inabilitado o pretendente que apresente:

- (A) pressão arterial de 140 x 90 mmHg.
- (B) prótese dentária fixa.
- (C) acuidade visual de 20 / 30 em ambos os olhos.
- (D) variação de peso de até 5% em relação às tabelas padrões peso/altura.
- (E) hemorróidas.

47

Homem, trabalhando em fabricação de cerâmica há 20 anos, recebe diagnóstico de pneumopatia crônica. Na hipótese de doença ocupacional, que agente estaria possivelmente implicado?

- (A) Asbesto.
- (B) Sílica.
- (C) Talco.
- (D) Berílio.
- (E) Dibrometo de etileno.



48

O efeito adverso mais freqüente nos indivíduos expostos ao níquel é:

- (A) dermatite.
- (B) anemia.
- (C) artralgia.
- (D) queda de cabelos.
- (E) imunossupressão.

49

A Tenossinovite de De Quervain é uma das manifestações de comprometimento do sistema músculo – esquelético que pode estar relacionada às lesões por esforços repetitivos (LER). A atividade laboral relacionada a ela é:

- (A) carimbar.
- (B) apertar botões com o polegar.
- (C) apoiar o cotovelo em mesas.
- (D) carregar pesos sobre os ombros.
- (E) operar compressores pneumáticos.

50

Um exemplo de atividade insalubre, por envolver agentes biológicos em grau máximo, é o trabalho em que há contato permanente com:

- (A) lixo urbano.
- (B) autópsias.
- (C) exumação de corpos.
- (D) pacientes de emergência.
- (E) preparo de vacinas.