



BIOMÉDICO

LEIA ATENTAMENTE AS INSTRUÇÕES ABAIXO.

01 - Você recebeu do fiscal o seguinte material:

a) este caderno, com as 50 questões das Provas Objetivas, sem repetição ou falha, assim distribuídas:

LÍNGUA PORTUGUESA III		CONHECIMENTOS GERAIS		NOÇÕES DE INFORMÁTICA		CONHECIMENTOS ESPECÍFICOS	
Questões	Pontos	Questões	Pontos	Questões	Pontos	Questões	Pontos
1 a 5	1,0	11 a 15	2,0	16 a 20	2,0	21 a 30	1,0
6 a 10	3,0					31 a 40	2,0
						41 a 50	3,0

b) 1 **Cartão-Resposta** destinado às respostas às questões objetivas formuladas nas provas.

02 - Verifique se este material está em ordem e se o seu nome e número de inscrição conferem com os que aparecem no **CARTÃO**. Caso contrário, notifique **IMEDIATAMENTE** o fiscal.

03 - Após a conferência, o candidato deverá assinar no espaço próprio do **CARTÃO**, preferivelmente a caneta esferográfica de tinta na cor preta.

04 - No **CARTÃO-RESPOSTA**, a marcação das letras correspondentes às respostas certas deve ser feita cobrindo a letra e preenchendo todo o espaço compreendido pelos círculos, a **caneta esferográfica de tinta na cor preta**, com um traço contínuo e denso. A LEITORA ÓTICA é sensível a marcas escuras; portanto, preencha os campos de marcação completamente, sem deixar claros.

Exemplo: A B C D E

05 - Tenha muito cuidado com o **CARTÃO**, para não o **DOBRAR**, **AMASSAR** ou **MANCHAR**. O **CARTÃO SOMENTE** poderá ser substituído caso esteja danificado em suas margens superior ou inferior - **BARRA DE RECONHECIMENTO PARA LEITURA ÓTICA**.

06 - Para cada uma das questões objetivas, são apresentadas 5 alternativas classificadas com as letras (A), (B), (C), (D) e (E); só uma responde adequadamente ao quesito proposto. Você só deve assinalar **UMA RESPOSTA**: a marcação em mais de uma alternativa anula a questão, **MESMO QUE UMA DAS RESPOSTAS ESTEJA CORRETA**.

07 - As questões objetivas são identificadas pelo número que se situa acima de seu enunciado.

08 - **SERÁ ELIMINADO** do Concurso Público o candidato que:

a) se utilizar, durante a realização das provas, de máquinas e/ou relógios de calcular, bem como de rádios gravadores, *headphones*, telefones celulares ou fontes de consulta de qualquer espécie;

b) se ausentar da sala em que se realizam as provas levando consigo o Caderno de Questões e/ou o **CARTÃO-RESPOSTA**.

09 - Reserve os 30 (trinta) minutos finais para marcar seu **CARTÃO-RESPOSTA**. Os rascunhos e as marcações assinaladas no Caderno de Questões **NÃO SERÃO LEVADOS EM CONTA**.

10 - Quando terminar, entregue ao fiscal **O CADERNO DE QUESTÕES E O CARTÃO-RESPOSTA E ASSINE A LISTA DE PRESENÇA**.

11 - **O TEMPO DISPONÍVEL PARA ESTAS PROVAS DE QUESTÕES OBJETIVAS É DE 3 (TRÊS) HORAS E 30 (TRINTA) MINUTOS**.



LÍNGUA PORTUGUESA III

Texto I

MEDIDAS PARA VIVER MELHOR

A evolução do conceito de qualidade total criou em diversos setores organizacionais um sistema de pontuação – ISO – que é usado na avaliação da qualidade de produtos, serviços, de meio ambiente e assim por diante. Os parâmetros a serem alcançados para obter o certificado ISO, que torna produtos mais competitivos e serviços mais eficientes, indicam o "caminho das pedras" que deve ser seguido para se alcançar a qualidade total.

Em praticamente todos os setores de atividades o ser humano é o elo importante desse sistema. Então por que não avaliar os parâmetros da qualidade de vida do ser humano? Por que não tentar buscar a qualidade total de vida?

É importante se promover o bem-estar total, pois o moderno conceito de saúde vai muito além da ausência de doenças e engloba o bem-estar físico, social, intelectual, emocional, espiritual e profissional, que devem ser avaliados periodicamente. Além desses fatores, outro segmento que muito influi na qualidade total de vida é a saúde familiar.

Com o objetivo de melhor administrar a saúde, deve-se procurar um equilíbrio entre o trabalho, o lazer e o repouso, valorizar as férias e os fins de semana, priorizar a auto-estima, preservar e aprimorar o equilíbrio emocional. Temos verificado que mesmo as pessoas que fazem exames médicos periódicos ou *check-ups*, muitas vezes, devido a dificuldades emocionais, não seguem as recomendações finais, o que representa um fator limitante na promoção da saúde.

Quem assimila o conceito de saúde total e adota medidas positivas de comportamento e hábitos saudáveis, consegue melhor pontuação e conseqüentemente mais se aproxima do almejado "ISO ser humano". Para isso cada pessoa deve estabelecer o seu programa de saúde. Todos podem conseguir um viver melhor desde que haja uma firme decisão de se cuidar.

Deve-se fazer um planejamento geral e escolher a primeira meta a ser alcançada. As prioridades variam de pessoa para pessoa.

JACQUES, Haroldo. **O Globo**. 16 maio 2004. (adaptado)

1

De acordo com o Texto I, ISO é um sistema de pontuação que avalia, nas empresas, a:

- (A) competitividade dos produtos e a eficiência dos serviços.
- (B) qualidade das matérias-primas e a evolução do conceito.
- (C) capacidade de produção e a qualificação do pessoal.
- (D) qualidade do produto e as condições de produção.
- (E) política empresarial e a estratégia organizacional.

2

Segundo o Texto I, a postura de vida que, por sua abrangência, mais se aproxima do "ISO ser humano" é:

- (A) ter uma alimentação variada e balanceada.
- (B) saber conjugar trabalho, lazer e férias.
- (C) adotar medidas positivas de comportamento e hábitos saudáveis.
- (D) fazer periodicamente visitas ao médico e ao dentista.
- (E) evitar estresse, pensamentos negativos e excesso de tarefas.

3

De acordo com o Texto I, é **INCORRETO** afirmar que:

- (A) os procedimentos para atingir o "ISO ser humano" variam de pessoa para pessoa.
- (B) o conceito de saúde ultrapassa os limites físicos.
- (C) o bem-estar total é um dos aspectos da saúde física.
- (D) a saúde familiar é um fator relevante no contexto de vida do ser humano.
- (E) a qualidade de vida do ser humano depende do programa de saúde por ele estabelecido.

4

Analise a ordem em que os tópicos abaixo estão abordados no Texto I.

- I - O papel desempenhado pelo ser humano no sistema.
- II - A relação entre saúde e bem-estar.
- III - O conceito de ISO.
- IV - A qualidade total de vida.

A seqüência correta é:

- (A) I – II – III – IV
- (B) I – III – IV – II
- (C) II – III – IV – I
- (D) III – I – II – IV
- (E) III – IV – I – II



Continua



5

"Todos podem conseguir um viver melhor desde que haja uma firme decisão de se cuidar." (l. 36-37)

A segunda oração do período acima estabelece com a anterior uma relação de:

- (A) causa.
- (B) tempo.
- (C) conclusão.
- (D) concessão.
- (E) condição.

6

Considerando-se a regra ortográfica de "auto-estima", qual dos vocábulos abaixo está corretamente grafado?

- (A) Auto-ajuda.
- (B) Auto-destruição.
- (C) Auto-biografia.
- (D) Auto-correção.
- (E) Auto-motriz.

Texto II

NUNCA DESCUIDANDO DO DEVER

Jamais permitiria que seu marido fosse para o trabalho com a roupa mal passada, não dissessem os colegas que era esposa descuidada. Debruçada sobre a tábua com olho vigilante, dava caça às dobras, desfazia pregas, aplainando punhos e peitos, afiando o vinco das calças. E a poder de ferro e goma, envolta em vapores, alcançava o ponto máximo da sua arte ao arrancar dos colarinhos liso brilho de celulóide.

Impecável, transitava o marido pelo tempo. Que, embora respeitando ternos e camisas, começou subrepticiamente a marcar seu avanço na pele do rosto. Um dia notou a mulher um leve afrouxar-se das pálpebras. Semanas depois percebeu que, no sorriso, franziam-se fundos os cantos dos olhos.

Mas foi só muitos meses mais tarde que a presença de duas fortes pregas descendo dos lados do nariz até a boca tornou-se inegável. Sem nada dizer, ela esperou a noite. Tendo finalmente certeza de que o homem dormia o mais pesado dos sonos, pegou um paninho úmido e, silenciosa, ligou o ferro.

COLASANTI, Marina. **Contos de amor rasgados.**

7

Nas passagens "**Impecável**, transitava o marido pelo tempo." (l. 9) e "... a presença de duas fortes **pregas** ..." (l. 15-16), as palavras destacadas podem ser substituídas, sem alterar o sentido do texto, respectivamente, por:

- (A) imaculado – marcas.
- (B) infalível – rugas.
- (C) incensurável – manchas.
- (D) indiferente – dobras.
- (E) indiscutível – carquilhas.

8

No Texto II, o substantivo que, semanticamente, define a ação da mulher é:

- (A) gratidão.
- (B) respeito.
- (C) insegurança.
- (D) vaidade.
- (E) obstinação.

9

A relação entre o vocábulo destacado e a categoria gramatical a ele atribuída está correta em:

- (A) "... com a roupa **mal** passada," (l. 2) – adjetivo.
- (B) "... **que** era esposa descuidada." (l. 3) – pronome relativo.
- (C) "começou subrepticiamente **a** marcar..." (l. 10-11) – preposição.
- (D) "... um leve **afrouxar-se** das pálpebras." (l. 12-13) – verbo.
- (E) "... só **muitos** meses ..." (l. 15) – advérbio.

10

Assinale a opção em que, ao transcrever a oração "embora respeitando ternos e camisas," (l. 10), o sentido permanece.

- (A) Como respeitava ternos e camisas.
- (B) Ainda que respeitasse ternos e camisas.
- (C) Por respeitar ternos e camisas.
- (D) Quando respeitou ternos e camisas.
- (E) Uma vez que respeitava ternos e camisas.



CONHECIMENTOS GERAIS

11

Das proibições feitas aos servidores públicos do Estado do Tocantins fazem parte:

- I - ausentar-se do serviço durante o expediente sem autorização;
- II - receber presente em razão de suas atribuições;
- III - recusar fé a documentos públicos;
- IV - utilizar recursos do Estado para fins particulares;
- V - recusar-se a atualizar seus dados cadastrais, quando solicitado.

Estão corretos os itens:

- (A) II e IV, apenas.
- (B) I, II e III, apenas.
- (C) II, III e IV, apenas.
- (D) I, II, III e IV, apenas.
- (E) I, II, III, IV e V.

12

A aposentadoria é um direito do servidor público. O principal documento que garante esse direito é o(a):

- (A) Estatuto Único dos Servidores Públicos.
- (B) Estatuto do Idoso.
- (C) Constituição Federal.
- (D) Lei de Seguridade Social.
- (E) Consolidação das Leis Trabalhistas.

13

A Secretaria de Saúde do Estado do Tocantins estabeleceu várias ações importantes, tais como criação de unidades de saúde, capacitação de profissionais, campanhas de vacinação, medidas de saneamento e criação de Agentes Comunitários. Isto significa que no Estado desenvolve-se uma política de saúde com caráter:

- (A) assistencial.
- (B) emergencial.
- (C) populista.
- (D) preventivo.
- (E) terapêutico.

14

Nos últimos anos, a economia tocantinense tem demonstrado um excelente desempenho. Em 2003, as exportações aumentaram cerca de 646% em relação a todo o ano de 2001, sendo esse crescimento do comércio exterior puxado especialmente pelas exportações de:

- (A) soja.
- (B) feijão.
- (C) milho.
- (D) arroz.
- (E) algodão.


15

O Aeroporto Internacional de Palmas é considerado estratégico pela Infraero para a movimentação de cargas e passageiros. Isto acontece porque o aeroporto:

- (A) é um dos mais modernos aeroportos de médio porte do País.
- (B) tem capacidade para mais de 350 000 passageiros/ano.
- (C) vem aumentando gradativamente seu movimento.
- (D) localiza-se próximo à Usina de Lajeado.
- (E) situa-se no ponto mais central do País.


NOÇÕES DE INFORMÁTICA

16

O botão  da barra de ferramentas Padrão do Word permite:

- (A) chamar o calendário.
- (B) exibir o mapa do documento.
- (C) inserir uma tabela.
- (D) inserir uma planilha do Excel.
- (E) remover objetos selecionados.






17

A célula A3 de uma planilha Excel contém e apresenta o valor 0,62. Se esta célula for selecionada e, em seguida, o botão  for pressionado, a célula A3 passará a conter o valor:



- (A) 0,62 e exibir 6,2%
- (B) 0,62 e exibir 62%
- (C) 6,2 e exibir 6,2%
- (D) 6,2 e exibir 62%
- (E) 62 e exibir 62%

18

No Outlook, o ícone que indica que uma mensagem possui algum documento anexo é:

- (A) 
- (B) 
- (C) 
- (D) 
- (E) 

19

Os ícones  e  ao lado de uma mensagem no Outlook indicam, respectivamente, que a mensagem apresenta prioridade:

- (A) baixa e ainda não foi lida.
- (B) baixa e já foi lida.
- (C) alta e ainda não foi lida.
- (D) alta e já foi respondida.
- (E) alta e já foi encaminhada.

20

No Windows 2000 a combinação padrão de teclas "Ctrl + Z" é utilizada para:

- (A) excluir o item selecionado.
- (B) exibir a caixa de diálogo executar.
- (C) exibir o menu iniciar.
- (D) desfazer o efeito do último comando.
- (E) minimizar todas as janelas abertas.



CONHECIMENTOS ESPECÍFICOS

21

De acordo com a Constituição Federal de 1988, assinale a afirmativa correta, a respeito do Sistema Único de Saúde (SUS).

- (A) O SUS deve colaborar com as ações de saúde do trabalhador.
- (B) O SUS deve ser centralizado, com direção do governo Federal.
- (C) As instituições privadas de saúde devem participar do SUS.
- (D) Compete ao SUS controlar a proteção do meio ambiente.
- (E) Compete ao SUS fiscalizar e inspecionar alimentos.

22

Em relação à saúde do trabalhador, é disposição da Lei 8.080/1990, que trata das condições para a promoção, proteção e recuperação da saúde e da organização e funcionamento dos serviços correspondentes:

- (A) a garantia ao sindicato dos trabalhadores de requerer a interdição de máquina, quando houver exposição a risco para a saúde dos trabalhadores.
- (B) a indicação da entidade sindical regional como responsável pelo acompanhamento e avaliação do impacto das novas tecnologias à saúde.
- (C) a promoção de atividades de educação para a saúde como a determinação do uso de equipamentos de proteção individual.
- (D) a responsabilidade da entidade sindical pela informação e o controle dos riscos de acidentes de trabalho e das doenças profissionais nas empresas.
- (E) as políticas de saúde do trabalhador com a responsabilidade da formação de recursos e promoção de cursos de reciclagem.

23

São princípios do Sistema Único de Saúde (SUS) que constam na Lei 8.080 de 19 de setembro de 1990:

- (A) centralização, utilização da epidemiologia e regionalização.
- (B) igualdade, universalidade e direito à informação.
- (C) igualdade, duplicidade de meios e hierarquização.
- (D) universalidade, integralidade e autonomia da comunidade.
- (E) regionalização, centralização e individualidade das ações.

24

Faz parte do SUS um subsistema de Atenção à Saúde Indígena que deve:

- (A) ser custeado exclusivamente pela União, com seus recursos próprios.
- (B) ser centralizado, hierarquizado e regionalizado, tal como o SUS.
- (C) adotar um modelo de atenção à saúde pautado por uma abordagem diferenciada e global.
- (D) selecionar as populações indígenas a serem atendidas.
- (E) servir de retaguarda e referência ao SUS nas regiões onde residem as populações indígenas.

25

Em relação aos recursos humanos que atuam no SUS são feitas as afirmações a seguir.

- I - Os cargos e funções de chefia, direção e assessoramento, só poderão ser exercidos em regime de tempo integral.
- II - Os servidores que legalmente acumulam dois cargos ou empregos somente poderão exercer suas atividades em um único estabelecimento do SUS.
- III - Somente poderão exercer suas atividades em mais de um estabelecimento do SUS os ocupantes de cargos ou funções de chefia, direção ou assessoramento.

Está(ão) correta(s) a(s) afirmação(ões):

- (A) I, apenas.
- (B) II, apenas.
- (C) I e III, apenas.
- (D) II e III, apenas.
- (E) I, II e III.

26

Considere as seguintes competências:

- I - definir e coordenar os sistemas de redes integradas de assistência de alta complexidade;
- II - Planejar, organizar, controlar e avaliar as ações e os serviços de saúde e gerir e executar os serviços públicos de saúde;
- III - identificar estabelecimentos hospitalares de referência;
- IV - executar serviços de vigilância epidemiológica.

De acordo com a Lei Orgânica da Saúde, competem à esfera municipal:

- (A) II, somente.
- (B) I e II, somente.
- (C) II e III, somente.
- (D) II e IV, somente.
- (E) I, II, III e IV.

27

A direção do SUS, no nível federal, é exercida pelo(a):

- (A) Ministério da Saúde.
- (B) Conselho Nacional de Saúde.
- (C) Conferência Nacional de Saúde.
- (D) Agência Nacional da Vigilância Sanitária.
- (E) Previdência Social.

28

A manutenção do Sistema Único de Saúde é custeada com recursos financeiros da:

- (A) União, dos Estados e dos Municípios.
- (B) Seguridade Social e dos Municípios.
- (C) Seguridade Social e da CPMF (Contribuição Provisória sobre Movimentações Financeiras).
- (D) CPMF, do Tesouro dos estados e com verbas municipais.
- (E) CPMF e com verbas municipais.



29

No Brasil, têm direito à assistência médica pelo SUS todos os:

- (A) brasileiros, independentemente de qualquer condição.
- (B) brasileiros contribuintes da Seguridade Social.
- (C) brasileiros ou indivíduos residentes no Brasil, que possuam, no mínimo, certidão de nascimento.
- (D) brasileiros ou indivíduos residentes no Brasil, contribuintes da Seguridade Social ou seus dependentes.
- (E) indivíduos, brasileiros ou não, independentemente de qualquer condição.

30

Um paciente comparece ao Laboratório de Análises Clínicas, com dúvidas sobre o resultado de um determinado exame complementar. O biomédico observa que o referido exame está alterado, em relação ao normal. Nesse sentido, inicialmente, deve:

- (A) orientar o paciente a procurar outro laboratório para a confirmação do exame.
- (B) explicar-lhe que o exame está um pouco alterado e indicar-lhe a medicação.
- (C) identificar-se como auxiliar técnico e orientá-lo a procurar o médico que solicitou o exame.
- (D) solicitar a presença do biólogo que atua no setor, para este orientar o paciente quanto ao resultado do exame e sua medicação.
- (E) tranquilizá-lo e explicar-lhe que o exame está um pouco alterado e solicitar a presença do patologista clínico responsável.

31

A internalização de cristal violeta na parede celular de algumas espécies bacterianas é a base da metodologia da Coloração de Gram. Para isso, o protocolo é realizar o esfregaço na lâmina, secar, fixar, cobrir com violeta de genciana, lavar e, em seguida, adicionar:

- (A) água corrente, lugol, fucsina e descoloração com álcool-acetona.
- (B) lugol, água corrente, descoloração com álcool-acetona e fucsina.
- (C) lugol, água corrente, descoloração com álcool-acetona e violeta de genciana.
- (D) lugol, água corrente, fucsina e descoloração com álcool-acetona.
- (E) fucsina, coloração com lugol, água corrente e descoloração com álcool-acetona.

32

Os meios de cultura devem ser preparados em quantidade suficiente para serem usados durante uma semana. Desta forma, a maneira mais adequada de estocá-los seria conservá-los:

- (A) a temperatura ambiente, ao abrigo da luz.
- (B) em estufas bacteriológicas, envolvidos em sacos plásticos.
- (C) em estufas, na temperatura de 80°C, envolvidos em papel alumínio.
- (D) em geladeira, acondicionados em sacos plásticos.
- (E) em *freezer*, na temperatura de -20°C, envolvidos em papel alumínio.

33

Para que um biomédico consiga realizar um exame para avaliar a velocidade de eritrossedimentação, o laboratório deve possuir os seguintes equipamentos:

- (A) Aparelho de Westergren (com pipetas e suporte).
- (B) Câmara de Neubauer e Pipeta de Thoma.
- (C) centrífuga e microcapilares.
- (D) espectrofotômetro e cubetas.
- (E) microscópio, lâminas e lamínulas.

34

A autoclave é um aparelho de esterilização:

- (A) que utiliza o calor direto sob alta temperatura, próprio para tecidos e borracha.
- (B) que utiliza um processo de radiação de alta potência, impróprio para gaze furacinada.
- (C) por meio de vapor d'água sob pressão e temperatura, próprio para instrumentos em geral.
- (D) por meio de calor seco sob alta pressão e temperatura, impróprio para estruturas contendo óleos.
- (E) por meio de calor seco sob alta pressão e temperatura, próprio para agulhas e seringas.

35

Para análise bioquímica e de sedimento da urina (Urina I), a coleta deve ser feita em:

- (A) tubos a vácuo.
- (B) frasco estéril.
- (C) frasco com conservantes.
- (D) frasco com anticoagulante.
- (E) frasco limpo, seco e de preferência descartável.



36

Para dosagem bioquímica de glicosúria, o ideal é colher a amostra num período de:

- (A) 24 horas, com conservante.
- (B) 24 ou 12 horas, ou ainda urina de 24 horas, fracionada em 4 períodos de 6 horas, sem conservante.
- (C) 24 horas, após ter ingerido 100 mg de dextrosol.
- (D) 12 horas, com conservante.
- (E) 12 horas, com anticoagulante.

37

Dosagens de cloro podem ser realizadas nos seguintes materiais clínicos:

- I - soro;
- II - urina;
- III - suor;
- IV - líquor.

Está(ão) correto(s) o(s) material(ais):

- (A) I, somente.
- (B) II, somente.
- (C) I e II, somente.
- (D) I e IV, somente.
- (E) I, II, III e IV.

38

Na realização da curva glicêmica para o diagnóstico de diabetes gestacional, deve-se manter jejum por:

- (A) 02 a 04 horas.
- (B) 04 a 08 horas.
- (C) 05 a 06 horas.
- (D) 08 a 12 horas.
- (E) 24 horas.

39

A dose de açúcar (dextrosol) a ser dado para um paciente adulto, para a realização do Teste de Tolerância à Glicose, é de:

- (A) 60 g.
- (B) 75 g.
- (C) 120 g.
- (D) 150 g.
- (E) 200 g.

40

Os valores normais do tempo de sangramento durante um teste acham-se entre:

- (A) 2 e 8 minutos.
- (B) 10 e 12 minutos.
- (C) 12 e 15 minutos.
- (D) 15 e 20 minutos.
- (E) 20 e 30 minutos.

41

Em relação à centrifugação de amostras de sangue para se obter soro, é correto afirmar que:

- (A) deve ser realizada imediatamente após a coleta, sem esperar a retração do coágulo.
- (B) é normalmente realizada a 4°C.
- (C) o sangue é tipicamente centrifugado entre 1000 a 1200 xg por 10 a 15 minutos.
- (D) as amostras com barreira de gel devem ser centrifugadas duas vezes.
- (E) as amostras devem ser centrifugadas novamente após sua obtenção, por no mínimo 20 minutos.

42

Ao transportar amostras de material biológico de um laboratório para outro, é recomendável:

- I - transportar as amostras em posição vertical, a fim de evitar vazamentos;
- II - utilizar embalagem térmica e gelo reciclável;
- III - evitar exposição direta das amostras à luz;
- IV - identificar corretamente o destinatário;
- V - fazer aviso prévio da entrega do material.

Estão corretas as recomendações:

- (A) I e II, apenas.
- (B) III e V, apenas.
- (C) I, II e III, apenas.
- (D) III, IV e V, apenas.
- (E) I, II, III, IV e V.

43

Em relação às técnicas sorológicas, assinale a afirmativa correta.

- (A) As reações de aglutinação direta podem ser utilizadas para determinar o título de um antígeno ou a soroconversão deste antígeno a uma determinada patologia.
- (B) As reações de precipitação baseiam-se na formação de uma malha de "redes" formada pela reação antígeno-anticorpo, com a presença do fenômeno de prozona.
- (C) Os testes de imunofluorescência direta são usados na detecção de anticorpos séricos, com os antígenos marcados com fluorocromo.
- (D) Nos testes de ELISA, as reações antígeno-anticorpo são detectadas por atividade enzimática e essas enzimas podem estar ligadas tanto aos antígenos quanto aos anticorpos.
- (E) Nas reações de neutralização, o papel do anticorpo específico é o de potencializar os efeitos do antígeno.



44

Em relação à imunopatologia, assinale a alternativa correta.

- (A) A imunidade humoral é mediada por linfócitos T.
- (B) A imunidade celular depende dos linfócitos B e não envolve a produção de anticorpos.
- (C) Os linfócitos B são células produtoras de anticorpos.
- (D) Os linfócitos T são células produtoras de anticorpos.
- (E) Tanto os linfócitos B quanto os linfócitos T são células produtoras de anticorpos.

45

Os resultados de exames laboratoriais apresentam variações, mesmo quando executados com o máximo de rigor. Nas dosagens enzimáticas, dada a dificuldade de se conseguir uma precisão, considera-se aceitável o seguinte percentual máximo de variação:

(A) 5% (B) 10% (C) 20% (D) 30% (E) 40%

46

O Teste de Coombs indireto positivo:

- (A) é diagnóstico de anemias hemolíticas microangiopáticas.
- (B) é diagnóstico de anemias hemolíticas não autoimunes.
- (C) demonstra a presença de auto-anticorpos nas hemácias do paciente.
- (D) demonstra a presença de auto-anticorpos no soro do paciente.
- (E) indica incompatibilidade ABO.

47

Na prática, inúmeras vezes se faz necessária a determinação do sexo biológico de determinado indivíduo, através do estudo da cromatina sexual. Quando da identificação dos distúrbios dos cromossomos sexuais, usando os corpos sexuais do núcleo em interfase, obteve-se como resultado: Corpos X ou de Barr - 0 (zero), Corpos Y - 0 (zero). Trata-se, portanto, de um caso de:

- (A) sexo masculino normal.
- (B) sexo feminino normal.
- (C) Síndrome de Turner.
- (D) Síndrome de Klinefelter.
- (E) Variante de Klinefelter.

48

A coloração habitual para realização da hematoscopia do hemograma é:

- (A) May-Grunwald-Giemsa.
- (B) Sudan-Black.
- (C) azul de cresil brilhante.
- (D) novo azul de metileno.
- (E) PAS.

49

Assinale a opção que indica o que **NÃO** deve ser pesquisado em um paciente com plaquetopenia.

- (A) Hiperesplenismo.
- (B) Uso de medicamentos.
- (C) Infecção pelo HIV e vírus C da hepatite.
- (D) Hepatopatia.
- (E) Anemia ferropriva.

50

Em relação à α -fetoproteína, é correto afirmar que:

- (A) o achado de níveis elevados é sempre diagnóstico de carcinoma hepatocelular.
- (B) é produzida pelas células parietais do estômago.
- (C) é utilizada para acompanhamento de paciente com adenocarcinoma de cólon em remissão clínica.
- (D) pode ser utilizada para monitorar paciente com hepatopatia crônica, para detecção de carcinoma hepatocelular (níveis muito elevados).
- (E) pode ser usada para monitorar nível de necrose hepatocelular.