

# GOVERNO DO DISTRITO FEDERAL

## SECRETARIA DE ESTADO DE GESTÃO ADMINISTRATIVA

### Concurso Público

# Cargo 5: Analista de Administração Pública Especialidade: Contador

Aplicação: 5/12/2004



### CADERNO DE PROVAS



UNIVERSIDADE DE BRASÍLIA  
Criando Oportunidades para Realizar Sonhos

### LEIA COM ATENÇÃO AS INSTRUÇÕES ABAIXO.

- 1 Ao receber este caderno, confira se ele contém **cento e vinte** itens, correspondentes às provas objetivas, corretamente ordenados de **1 a 120**.
- 2 Caso o caderno esteja incompleto ou tenha qualquer defeito, solicite ao fiscal de sala mais próximo que tome as providências cabíveis.
- 3 Recomenda-se não marcar ao acaso: a cada item cuja resposta divirja do gabarito oficial definitivo, além de não marcar ponto, o candidato recebe pontuação negativa, conforme consta em edital.
- 4 Não utilize nenhum material de consulta que não seja fornecido pelo CESPE.
- 5 Durante as provas, não se comunique com outros candidatos nem se levante sem autorização do chefe de sala.
- 6 A duração das provas é de **três horas e trinta minutos**, já incluído o tempo destinado à identificação — que será feita no decorrer das provas — e ao preenchimento da folha de respostas.
- 7 Ao terminar as provas, chame o fiscal de sala mais próximo, devolva-lhe a sua folha de respostas e deixe o local de provas.
- 8 A desobediência a qualquer uma das determinações constantes no presente caderno, na folha de rascunho ou na folha de respostas poderá implicar a anulação das suas provas.

#### AGENDA

- I **6/12/2004**, a partir das 10 h (horário de Brasília) – Gabaritos oficiais preliminares das provas objetivas: Internet — [www.cespe.unb.br](http://www.cespe.unb.br) — e quadros de avisos do CESPE/UnB, em Brasília.
- II **7 a 9/12/2004** – Recursos (provas objetivas): formulários estarão disponíveis no Sistema Eletrônico de Interposição de Recurso, Internet — [www.cespe.unb.br](http://www.cespe.unb.br).
- III **11/1/2005** – Resultados finais das provas objetivas e do concurso: Diário Oficial do Distrito Federal e locais mencionados no item I.

#### OBSERVAÇÕES

- Não serão objeto de conhecimento recursos em desacordo com o item 10 do Edital n.º 1/2004 – SGA/ADM, de 15/9/2004.
- Informações adicionais: telefone 0(XX) 61 448 0100; Internet – [www.cespe.unb.br](http://www.cespe.unb.br).
- É permitida a reprodução deste material apenas para fins didáticos, desde que citada a fonte.

• De acordo com o comando a que cada um dos itens de 1 a 120 se refira, marque, na **folha de respostas**, para cada item: o campo designado com o código **C**, caso julgue o item **CERTO**; ou o campo designado com o código **E**, caso julgue o item **ERRADO**. A ausência de marcação ou a marcação de ambos os campos não serão apenadas, ou seja, não receberão pontuação negativa. Para as devidas marcações, use a folha de rascunho e, posteriormente, a **folha de respostas**, que é o único documento válido para a correção das suas provas.

• Nos itens que avaliam **Noções de Informática**, a menos que seja explicitamente informado o contrário, considere que todos os programas mencionados estão em configuração-padrão, em português, que o *mouse* está configurado para pessoas destros e que expressões como clicar, clique simples e clique duplo referem-se a cliques com o botão esquerdo do *mouse*. Considere também que não há restrições de proteção, de funcionamento e de uso em relação aos programas, arquivos, diretórios e equipamentos mencionados.

## CONHECIMENTOS BÁSICOS

### Texto para os itens de 1 a 20

#### Uma equipe vencedora

1           Nesses jogos olímpicos, os heróis do esporte terão sua  
carreira analisada, seu percurso escrutinado, em busca das razões  
de seu sucesso. Como resistir às pressões de uma empreitada  
4           olímpica? Como manter o foco quando há tantas distrações? Até  
onde esses seres especiais podem ter suas “cordas” esticadas por  
seus treinadores? São perguntas que faço a mim mesmo. Estudar  
7           a vida dos grandes campeões sempre me interessou — tenho  
centenas de livros a respeito: muitos, por exemplo, sobre os  
treinadores do esporte americano — e tem ajudado em minhas  
10           tentativas de formar equipes vencedoras.

          Creio que há uma equação que descreve bem a trajetória  
dos grandes campeões: dedicação + talento. A dedicação pode  
13           ser definida como a força inesgotável que permite seguir em  
frente. É a busca constante da capacitação através do treinamento  
e da grande disciplina que esse processo exige. O segundo  
16           elemento, o talento, também é muito importante. Certa dose é  
necessária, mas nem sempre os grandes campeões são os mais  
talentosos. São, isso sim, aqueles que conseguem usufruir e  
19           desenvolver o dom que têm. Mas há um elemento que faz essa  
equação realmente dar resultado: a paixão que observamos no  
olhar dos grandes campeões, a intensidade em suas ações.  
22           O principal exemplo, para nós, brasileiros, é Ayrton Senna.

          Além do fascínio que esses grandes campeões exercem  
sobre as pessoas, há outro elemento no mundo olímpico que me  
25           encanta ainda mais: os times campeões. É preciso buscar  
entender como funcionam os mecanismos dessas equipes, a  
importância e a função de seus elementos. Entender o papel e o  
28           valor do líder, aquele que inspira, mesmo que assuma, em prol  
do grupo, posições nem sempre populares. Que segredos, que  
estratégias usam os grandes treinadores, os capitães com seus  
31           times? Não adianta o líder gritar se não estiver envolvido, se não  
souber ler os sinais que o atleta envia. Isso é um exercício diário.

          A importância dos supertalentos nas equipes é  
34           proporcional à influência deles sobre os companheiros. O valor  
de um Michael Jordan, por exemplo, não vinha apenas da  
capacidade de fazer 60 pontos em um jogo, mas sim por fazer os  
37           jogadores a sua volta atuarem melhor.

          De que forma grandes equipes constroem o  
comprometimento necessário para dar consistência a sua  
40           trajetória? A única resposta que encontro está no dia-a-dia do  
treinamento intenso e obstinado, todos buscando a excelência  
constantemente, entendendo que são peças fundamentais de uma  
43           grande engrenagem. O esporte nos mostra que não há grandes  
campeões que nunca tenham sido derrotados. Mas certamente  
nunca deixaram de tentar novamente, com mais intensidade e de  
46           formas diferentes.

Bernardinho. *Veja Olimpíadas* - Edição especial, ago./2004 (com adaptações).

De acordo com as idéias e a estrutura do texto, julgue os itens  
subseqüentes.

- 1 Observando-se a macroestrutura do texto, constata-se que a dissertação é predominante.
- 2 As três indagações do primeiro parágrafo são respondidas, respectivamente, nos parágrafos seguintes.
- 3 Disciplina, esforço, vocação e caráter são, além do talento e da dedicação, requisitos essenciais para uma equipe ser vencedora.
- 4 Com o exemplo de Michael Jordan, o articulista reforça, além da dedicação e do talento, a importância da liderança entre os pares.
- 5 Os vocábulos “olímpica”, “trajetória”, “inesgotável” e “necessária” recebem acento grave em razão da mesma regra gramatical.
- 6 A expressão “tem ajudado em minhas tentativas” (l.9-10) refere-se a “livros (...) sobre treinadores” (l.8-9) e, como tal, a forma verbal “tem” (l.9) deveria estar grafada com acento circunflexo.
- 7 O sinal de “+” (l.12) corresponde, no contexto, ao emprego da conjunção coordenativa aditiva e.
- 8 A reescritura do conceito de “dedicação” (l.12) está correta da seguinte maneira: Dedicação é a força inabarcável que impulsiona o jogador para à frente; é a busca diuturna da qualificação, por intermédio de treinamento e de grande disciplina exigida.
- 9 Nas linhas de 15 a 18, o autor defende que, para os vencedores, é necessário um pouco de talento; nem sempre, todavia, os grandes campeões são mais talentosos do que os jogadores desconhecidos.
- 10 Os vocábulos “usufruir” (l.18) e “fascínio” (l.23) significam, no contexto, respectivamente, **aproveitar e admiração**.
- 11 Na linha 27, entre “elementos” e “Entender” a substituição do ponto por ponto-e-vírgula, com o necessário ajuste da inicial maiúscula, não fere o sentido do período nem acarreta desvio gramatical.
- 12 Com “Isso é um exercício diário” (l.32), o articulista está referindo-se às observações apresentadas no período anterior, “Não adianta o líder gritar se não estiver envolvido, se não souber ler os sinais que o atleta envia” (l.31-32), em que o termo “o líder” exerce a função sintática de sujeito do predicado constituído pela flexão do verbo gritar.

- 13 O período introdutório do quarto parágrafo (ℓ.33-34) é composto e inclui uma oração subordinada adverbial proporcional.
- 14 O vocábulo “dia-a-dia” (ℓ.40) está grafado com hífen porque é um substantivo, o que não aconteceria se a frase estivesse assim redigida: Dia a dia, o treinador se tornava mais obstinado, buscando a excelência de todos.
- 15 Na passagem “todos buscando a excelência” (ℓ.41), a substituição do componente sublinhado pelo pronome oblíquo correspondente gera a seguinte reescritura: todos lhe buscando.
- 16 Os dois períodos finais do texto, a partir de “O esporte” (ℓ.43), cabem no fechamento de um relatório acerca da participação brasileira em Atenas.

A partir do período “O esporte nos mostra que não há grandes campeões que nunca tenham sido derrotados” (ℓ.43-44) do texto, julgue os itens a seguir.

- 17 A estrutura sintática do período permanece correta com o deslocamento do pronome “nos” para após a forma verbal “mostra”, desde que o pronome átono esteja ligado ao verbo por hífen.
- 18 A oração subordinada “que não há grandes campeões” exerce a função sintática de complemento direto da forma verbal mostra.
- 19 A forma verbal “há” comporta a substituição pela forma **existe**, sem prejuízo sintático para o texto.
- 20 No contexto, está correta a substituição de “que nunca tenham sido derrotados” pela seguinte estrutura: cuja derrota nunca tenha ocorrido.

Com referência à redação oficial, julgue os itens que se seguem.

- 21 Ofício e memorando são expedientes que, circulando predominantemente em repartições públicas, diferem quanto à extensão e à complexidade do assunto.
- 22 Para prestar contas de eventos ou de processos já ocorridos na linha do tempo, pode-se utilizar tanto a ata quanto o relatório, indiferentemente.
- 23 O requerimento só pode ser utilizado quando o requerente tem convicção de que foi lesado em um direito constitucionalmente garantido.

## O mato

1 Veio o vento frio, e depois o temporal noturno, e depois da lenta chuva que passou toda a manhã caindo e ainda voltou algumas vezes durante o dia, a cidade entardeceu  
4 em brumas. Então o homem esqueceu o trabalho e as promissórias, esqueceu a condução e o telefone e o asfalto, e saiu andando lentamente por aquele morro coberto de um mato  
7 viçoso, perto de sua casa. O capim cheio de água molhava seu sapato e as pernas da calça; o mato escurecia sem vagalumes nem grilos.

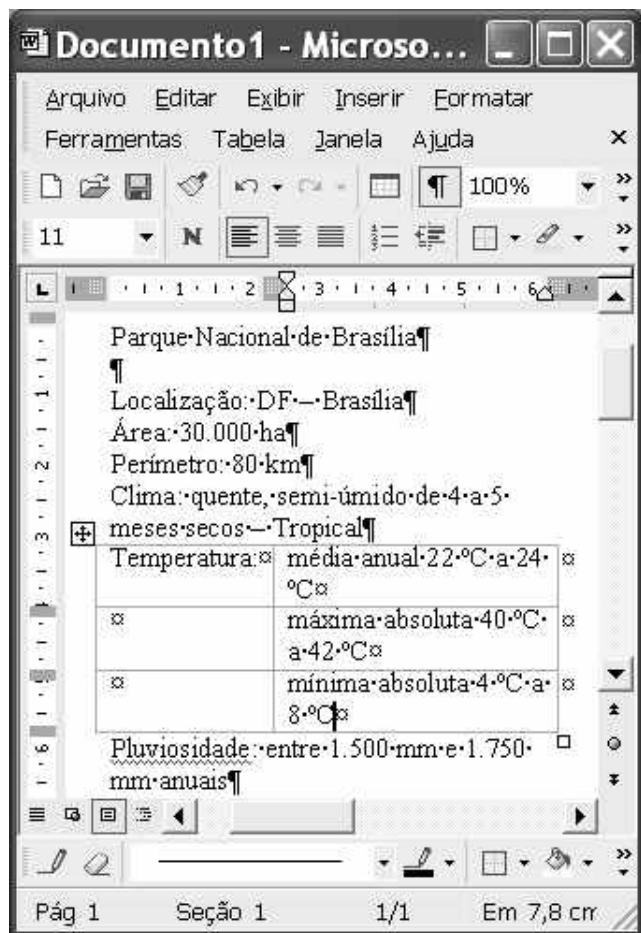
10 Pôs a mão no tronco de uma árvore pequena, sacudiu um pouco, e recebeu nos cabelos e na cara as gotas de água como se fosse uma bênção. Ali perto mesmo, a cidade  
13 murmurava, estava com seus ruídos vespertinos, ranger de bondes, buzinar impaciente de carros, vozes indistintas; mas ele via apenas algumas árvores, um canto de mato, uma pedra  
16 escura. Ali perto, dentro de uma casa fechada, um telefone batia, silenciava, batia outra vez, interminável, paciente, melancólico. Alguém, com certeza já sem esperança, insistia  
19 em querer falar com alguém.

Por um instante o homem voltou seu pensamento para a cidade e sua vida. Aquele telefone tocando em vão era um  
22 dos milhões de atos falhados da vida urbana. Pensou no desgaste nervoso dessa vida, nos desencontros, nas incertezas, no jogo de ambições e vaidades, na procura de amor e de  
25 importância, na caça ao dinheiro e aos prazeres. Ele pouco a pouco foi sentindo uma paz naquele começo de escuridão, sentiu vontade de deitar e dormir entre a erva úmida, de se  
28 tornar um confuso ser vegetal, um grande sossego, farto de terra e de água; ficaria verde, emitiria raízes e folhas, seu tronco seria um tronco escuro, grosso, seus ramos formariam  
31 copa densa, e ele seria, sem angústia nem amor, sem desejo nem tristeza, forte, quieto, imóvel, feliz.

Rubem Braga. **200 crônicas escolhidas**. 6.ª ed. Rio de Janeiro: Record, 1978, p. 260-1 (com adaptações).

A partir do texto acima, julgue os itens seguintes.

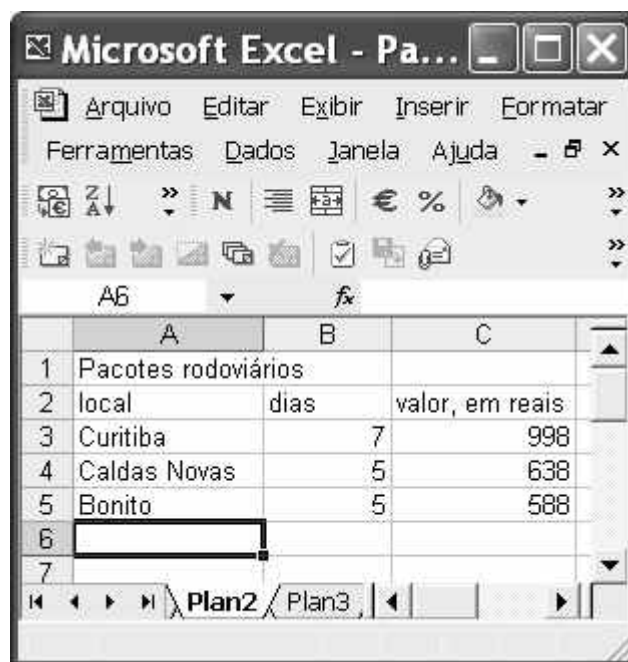
- 24 O primeiro período do texto é predominantemente descritivo; já o segundo apresenta passagens narrativas.
- 25 Quanto à circunstância temporal, o texto estrutura-se na seguinte seqüência: no primeiro parágrafo, predomina o presente; no segundo, o futuro; no terceiro, o passado.
- 26 O emprego das vírgulas antes do “e” (ℓ.1) está correto, pois elas estão separando orações com sujeitos distintos.
- 27 O sentido da passagem “molhava seu sapato e as pernas da calça” (ℓ.7-8) não se altera com a seguinte substituição: molhava-lhe o sapato e as pernas da calça.
- 28 A vírgula logo após “vespertinos” (ℓ.13) pode ser substituída por dois-pontos, sem que se alterem as relações entre os termos da oração.
- 29 Os adjetivos “interminável, paciente, melancólico” (ℓ.17-18) qualificam a forma pronominal “Alguém”, que os sucede.
- 30 Deduz-se do texto que só junto à natureza o ser humano vivencia as sensações de paz, felicidade, alegria e força para enfrentar os obstáculos cotidianos.



A figura acima ilustra uma janela do Word 2002 que contém um documento em elaboração. Considerando essa figura, julgue os itens a seguir, acerca do Word 2002.

- 31 É correto concluir que o trecho do documento iniciado em “Temperatura” e terminado em “8 °C” está inserido em uma tabela.
- 32 Caso se deseje eliminar o sublinhado no termo Pluviosidade, é suficiente selecionar o referido termo; clicar a opção Fonte no menu **Formatar**; na janela disponibilizada, desmarcar o campo apropriado; e clicar OK.
- 33 Considere a realização do seguinte procedimento: aplicar um clique duplo sobre “Parque”; pressionar e manter pressionada a tecla **Shift**; teclar **End**; liberar a tecla **Shift**; clicar em seqüência os botões e **N**. Após esse procedimento, a primeira linha mostrada do documento ficará selecionada, centralizada e com a fonte no estilo negrito.
- 34 O traço observado em “DF – Brasília” pode ter sido inserido no documento em edição por meio da escolha desse caractere entre os caracteres especiais encontrados na janela Símbolo, que é acessada por meio do menu **Inserir**.






- 35 Para que o trecho “mínima (...) 8 °C” seja alinhado com “Temperatura:”, é suficiente realizar as seguintes ações: clicar sobre uma palavra do referido trecho; clicar o botão .
- 36 Para se ocultar as marcas de parágrafo observadas no documento, é suficiente desabilitar a opção Mostrar/Ocultar, o que pode ser obtido clicando-se o botão .
- 37 Mediante opção encontrada no menu **Arquivo**, é possível salvar várias versões do documento em edição em um único arquivo. Por meio desse arquivo, é possível abrir, revisar, imprimir e excluir versões anteriores.



Considerando a figura acima, que ilustra uma janela do Excel 2002, julgue os itens subsequentes.

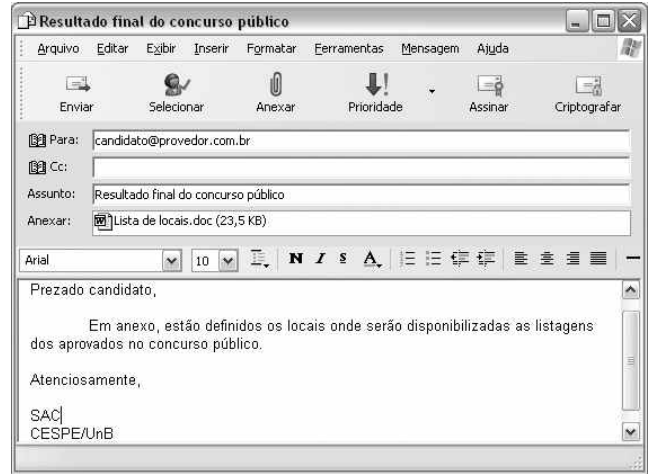
- 38 Considere a realização do seguinte procedimento: clicar a célula A1; pressionar e manter pressionada a tecla **Shift**; clicar a célula C1; clicar ; liberar a tecla **Shift**. Após esse procedimento, as células A1, B1 e C1 ficarão mescladas, contendo o termo “Pacotes rodoviários”, que ficará centralizado na célula resultante.
- 39 Para determinar quanto, percentualmente, o pacote para “Caldas Novas” é mais caro que o pacote para “Curitiba” e pôr o resultado na célula A6, é suficiente realizar o seguinte procedimento: clicar o botão ; digitar =C4/C5; teclar **Enter**.
- 40 Considere que as células A3, A4 e A5 sejam selecionadas e, a seguir, o botão seja clicado. Na planilha resultante após esse procedimento, constará que o valor do pacote para Curitiba é igual a 588.
- 41 Por meio de opção encontrada no menu **Dados**, é possível inserir na célula selecionada um texto armazenado em arquivo do tipo txt.

Com relação ao Windows XP, julgue os itens seguintes, considerando que esse sistema operacional esteja sendo executado em um computador PC.






- 42 Caso haja duas janelas do Word 2002 em execução, aparecerão, na barra de tarefas do Windows XP, dois botões correspondentes a essas janelas. Os botões na barra de tarefas podem ser usados para se alternar entre as janelas, operação que pode também ser realizada usando-se uma combinação das teclas  e .
- 43 Ao se clicar o botão Iniciar do Windows XP, será exibido um *menu* com diversas opções. No Windows XP, há mais de uma opção de configuração para esse *menu*.
- 44 No Windows XP, a barra de tarefas se localiza sempre na parte inferior da tela do monitor de vídeo, não sendo possível mudá-la de lugar.
- 45 Caso haja um ícone correspondente a um arquivo do Word 2002 na *desktop*, para excluí-lo, é suficiente clicar sobre ele e, em seguida, pressionar simultaneamente as teclas ,  e .
- 46 Caso haja um ícone correspondente a um arquivo do Word 2002 na *desktop*, para se abrir esse arquivo, é suficiente aplicar um clique duplo sobre o referido ícone.

Acerca de conceitos de *hardware* e *software* de computadores do tipo PC, julgue os itens que se seguem.

- 47 Caso um computador esteja se tornando muito lento na execução de programas que requerem muito acesso ao disco rígido, a melhor solução para aumentar a velocidade de execução desses programas é diminuir a quantidade de memória *cache* instalada, de forma a sobrecarregar menos o microprocessador.
- 48 Caso seja necessário conectar um computador em uma rede do tipo *ethernet*, essa conexão deve ser feita por um periférico denominado *modem*, que permite integrar qualquer computador a esse tipo de rede.
- 49 Diversos modelos de impressora utilizam porta USB para realizar a comunicação com o computador.
- 50 Nos computadores, o sinal de som que vai para as caixas de som provém diretamente da porta serial.
- 51 O escâner é um periférico que permite que se crie um arquivo digital com informações que codificam figuras e textos contidos em papel, permitindo, posteriormente, ações como a visualização dessas imagens na tela de um computador ou mesmo sua impressão, por meio de uma impressora.
- 52 Os disquetes de 3½" mais utilizados atualmente permitem armazenar uma quantidade de informações superior a 1 milhão de *bytes*.
- 53 BIOS é o nome dado à placa controladora de vídeo dos atuais computadores do tipo PC.



Considerando que a janela do Outlook Express 6 (OE6) ilustrada acima esteja sendo executada em um computador PC e que uma mensagem de correio eletrônico esteja em processo de edição com o uso dos recursos do OE6 disponibilizados nessa janela, julgue os itens a seguir.

- 54 Caso se deseje editar o arquivo associado ao ícone  Lista de locais.doc (23,5 KB), utilizando-se o Word, é suficiente clicar o botão .
- 55 Ao se clicar o botão , a mensagem em edição será armazenada em arquivo específico do OE6 para envio posterior.
- 56 Caso o computador tenha disponível conexão ADSL com a  Internet, ao se clicar o botão , é possível que se obtenham taxas de transferência de dados superiores a 36 MBps, caso a referida conexão utilize os recursos mais modernos da tecnologia ADSL.

Com relação a tecnologias da Internet, julgue os itens seguintes.

- 57 A tecnologia denominada *mobile IP* (IP móvel) permite que um *laptop* pertencente a uma LAN (*local area network*), quando conectado a outra LAN hospedeira, seja acessado pela Internet utilizando-se seu próprio número IP original, definido no escopo de sua rede LAN de origem.
- 58 A tecnologia denominada *bluetooth* permite que um dispositivo de comunicação móvel celular se conecte à Internet por meio de um *access point* de uma rede WLAN (*wireless LAN*), no padrão IEEE 802.11.b.
- 59 Atualmente, é possível, a partir de um dispositivo de comunicação celular que utilize a tecnologia GPRS, acessar recursos da Internet, como se comunicar com um servidor http.
- 60 O uso de *browser* permite explorar o protocolo http no acesso a páginas *web*. Atualmente, existem navegadores que possuem interface com ferramentas de correio eletrônico, permitindo, assim, a partir do navegador, o acesso a recursos dessa ferramenta.

## CONHECIMENTOS ESPECÍFICOS

Não se faz uma mudança sem planejamento. O Plano Plurianual (PPA) 2004-2007 está sendo construído para mudar o Brasil. Vai inaugurar um modelo de desenvolvimento de longo prazo, para muito além de 2007, destinado a promover profundas transformações estruturais na sociedade brasileira. É uma peça-chave do planejamento social e econômico do governo do presidente Luiz Inácio Lula da Silva. O PPA vai conferir racionalidade e eficácia às ações do governo federal na direção dessas profundas mudanças.

Internet: <[http://www.planobrasil.gov.br/texto\\_base.asp](http://www.planobrasil.gov.br/texto_base.asp)>.

Com relação a esse assunto, julgue os itens que se seguem.

- 61 O PPA deve ser encaminhado pelo Poder Executivo ao Congresso Nacional até o dia 31 de agosto do segundo ano de mandato presidencial.
- 62 No sistema orçamentário nacional, o orçamento do setor público, composto pelo orçamento dos governos federal e estadual, é um dos planos operativos anuais.
- 63 Devido ao princípio da exclusividade, todas as parcelas da receita e da despesa aparecem no orçamento em seus valores brutos, sem qualquer tipo de exclusão.
- 64 De acordo com a Constituição Federal, a lei que instituir o PPA deve estabelecer, de forma regionalizada, as diretrizes, os objetivos e as metas da administração pública federal para os programas de duração continuada.
- 65 O PPA pode ser considerado a síntese dos esforços de planejamento de toda a administração pública, visto que orienta a elaboração dos demais planos e programas de governo.

A padronização das atividades de contabilidade e finanças no setor público ocorreu a partir da edição da Lei n.º 4.320/1964. Considerando essa norma legal, julgue os itens a seguir.

- 66 Em casos excepcionais, podem ser consignadas dotações a unidades administrativas subordinadas ao mesmo órgão.
- 67 A unidade orçamentária será sempre a responsável pela execução do programa de trabalho, e as dotações serão de responsabilidade da autoridade delegada, que poderá autorizar e(ou) empenhar a despesa, para a execução dos projetos e atividades próprias, constituindo-se também uma unidade de planejamento, de execução, de controle e de custo.
- 68 São atos ou fatos de natureza orçamentária: previsão da receita, arrecadação da receita, cancelamento de créditos e descentralização de créditos.

69 A prestação de conta anual pode ser substituída por levantamento, prestação ou tomada de contas do responsável por bens ou valores públicos a se realizar a qualquer tempo.

70 As dotações para despesas são classificadas como transferências correntes quando a elas não corresponda prestação indireta em bens e serviços, inclusive contribuições e subvenções destinadas a atender à manutenção de outras entidades de direito público.

Em relação às demonstrações exigidas pela Lei n.º 4.320/1964, julgue os itens subsequentes.

71 No grupo variações passivas extra-orçamentárias, da demonstração das variações patrimoniais, são registradas as superveniências passivas e as insubsistências ativas que representem decréscimos patrimoniais.

72 O balanço orçamentário, o balanço financeiro, o balanço patrimonial e as demonstrações das variações patrimoniais devem ser levantados ao fim de cada exercício financeiro e devem, entre outras exigências, ser publicados com a apresentação dos valores correspondentes das demonstrações do exercício anterior.

73 Os dados referentes à receita que compõem o balanço orçamentário de determinada unidade orçamentária são os apresentados no quadro abaixo.

amortização de capital prevista	2.000
receita patrimonial prevista	4.000
receita de serviço executada	3.000
operação de crédito prevista	5.000
receita de contribuições executada	2.000
receita tributária prevista	6.000
transferências correntes previstas	2.800
receita de serviço prevista	2.500
receita tributária executada	9.000
receita de contribuição prevista	4.000
receita patrimonial executada	1.000
operações de crédito executada	2.000
alienação de bens executada	1.500

Considerando esses dados, conclui-se que o balanço orçamentário indicará, na coluna de diferença (confronto de previstas com realizadas), o valor de 4.300, referente a receitas correntes, e o valor de 3.800, referente à soma das receitas correntes e de capital.

RASCUNHO

Julgue os seguintes itens, relativos a contabilidade pública.

- 74 A rubrica despesas de exercícios anteriores pode incluir o pagamento de restos a pagar, com prescrição interrompida, desde que autorizado pelo ordenador de despesa.
- 75 Quando uma nota de empenho for anulada, ocorrerão lançamentos contábeis simultâneos no sistema orçamentário e no sistema financeiro da unidade orçamentária.
- 76 A liquidação de despesa pode gerar dois lançamentos contábeis distintos no sistema orçamentário, visto que a liquidação pode configurar-se como fato contábil modificativo ou permutativo.
- 77 Débitos em créditos suplementares e em créditos especiais, com o correspondente crédito em crédito disponível, representam, respectivamente, o cancelamento de créditos suplementares e o cancelamento de créditos especiais.
- 78 Padronizar o nível de entradas e saídas de dados dos órgãos da administração direta e indireta e facilitar a extração de relatórios, tanto para a análise gerencial quanto para cumprir as exigências dos órgãos de controle interno e externo, são vantagens observadas no plano de contas único.

Mais do que punir administradores públicos, pois há leis específicas que já tratam do assunto, a Lei de Responsabilidade Fiscal objetiva corrigir o rumo da administração pública, no âmbito dos estados-membros, dos municípios e da própria União, bem como limitar os gastos às receitas, mediante a adoção das técnicas de planejamento governamental, organização, controle interno e externo e, finalmente, transparência das ações de governo em relação à população, ficando os administradores públicos obrigados a ser responsáveis no exercício de sua função e sujeitos a penalidades definidas e legislação própria, mas agora reforçadas pela Lei Complementar n.º 101.

Flávio da Cruz (coord.). **Lei de responsabilidade fiscal comentada**. Atlas, 2001 (com adaptações).

Julgue os itens que se seguem em relação à Lei de Responsabilidade Fiscal.

- 79 Dívida pública mobiliária é aquela representada por títulos emitidos pela União, inclusive os do Banco Central do Brasil, estados e municípios.
- 80 A instituição financeira que contratar operação de crédito, relativa à dívida externa, com o Distrito Federal deverá exigir comprovação de que a operação atende às condições e aos limites estabelecidos.

- 81 É possível ao administrador público efetuar análises comparativas de desempenho até entre esferas de governos distintas, tendo em vista a padronização do conteúdo e da forma de apresentação das receitas e despesas orçamentárias.
- 82 A operação de crédito por antecipação da receita, destinada a atender insuficiência de caixa durante o exercício financeiro, deve observar, entre outras exigências, o prazo limite de pagamento: décimo dia do quadrimestre seguinte à obtenção do crédito.
- 83 O refinanciamento do principal da dívida mobiliária não deve exceder, ao término de cada exercício financeiro, o montante do final do exercício anterior, somado ao das operações de crédito autorizadas no orçamento para esse efeito e efetivamente realizadas e acrescido de atualização monetária.
- 84 O regime de adiantamento, ou suprimento de fundos, aplicável aos casos de despesas expressamente definidos em lei, consiste na entrega de numerário a servidor, sempre precedida de empenho na dotação própria, a fim de se realizar despesa que não possa subordinar-se ao processo normal de aplicação.
- 85 Quando, na lei orçamentária, observa-se o princípio da unidade orçamentária para a programação das receitas e das despesas, torna-se possível demonstrar que há equilíbrio entre as receitas e as despesas programadas, que devem constar sempre por seus totais, não sendo permitida a previsão de apenas uma parte das receitas ou a fixação de apenas uma fração de despesas.

Em relação à lei que instituiu o Regime Jurídico dos Servidores Públicos Civis da União, das autarquias, inclusive as em regime especial, e das fundações públicas federais, e suas alterações posteriores, julgue os itens a seguir.

- 86 A reintegração é a investidura do servidor estável em cargo ocupado anteriormente a eventual afastamento temporário decorrente de inspeção médica.
- 87 Considerando que ao servidor público é proibido proceder de forma desidiosa, é seu dever representar contra ilegalidade, omissão ou abuso de poder.
- 88 A ação disciplinar prescreverá em 5 anos, quanto às infrações puníveis com demissão, cassação de aposentadoria ou disponibilidade e destituição de cargo em comissão; em 2 anos, quanto a suspensão; e em 1 ano, quanto a advertência.

89 O servidor público deve atender com presteza ao público em geral, prestando as informações requeridas, ressalvadas as protegidas por sigilo, expedindo as certidões requeridas para defesa de direito ou esclarecendo situações de interesse pessoal.

90 São cinco as penalidades disciplinares, aplicadas de acordo com a natureza e a gravidade da infração cometida, os danos que dela provierem para o serviço público, as circunstâncias agravantes ou atenuantes e os antecedentes funcionais: advertência, suspensão, demissão, destituição de cargo em comissão e destituição de função comissionada.

Julgue os itens subseqüentes, acerca de licitações e contratos da administração pública.

91 A primeira fase do procedimento de licitação é a abertura do processo administrativo que envolve a devida autuação, protocolo e numeração.

92 Qualquer licitante, mediante o pagamento dos emolumentos devidos, pode conhecer os termos dos contratos e do respectivo processo licitatório.

93 A execução do contrato pode ser acompanhada e fiscalizada por um representante da administração especialmente designado, a fim de serem resguardados os interesses públicos.

Julgue os itens seguintes, referentes a matemática financeira.

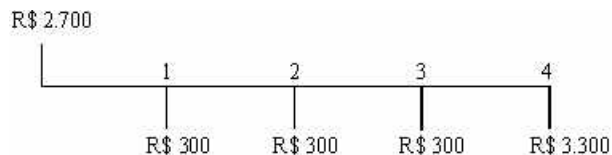
94 A rentabilidade efetiva de uma caderneta de poupança que paga juros anuais de 6% , com capitalização mensal à base de 0,5% , é superior a 6% a.a.

95 Os encargos financeiros, pagos ou capitalizados, de financiamento contratado de acordo com o sistema de amortização francês são calculados sobre o valor inicial, durante o período de carência.

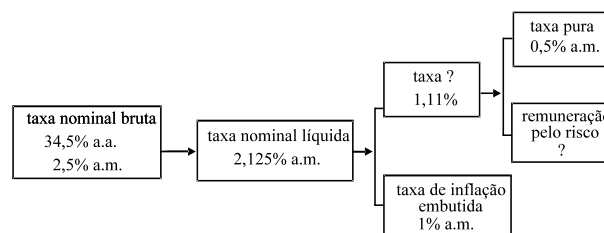
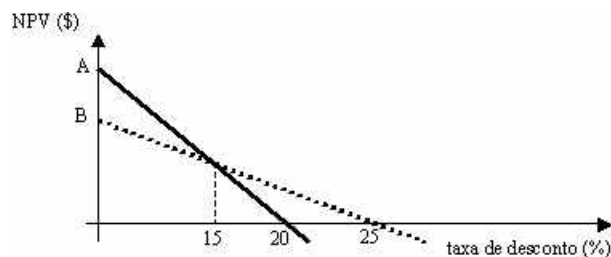
96 O método da taxa interna de retorno (TIR) aplicado a um investimento financeiro qualquer somente é verdadeiro na hipótese de que todos os fluxos de caixa subseqüentes sejam reaplicados à taxa de juro calculada pelo método.

97 Considere de 2% ao mês a taxa de juros “por fora” aplicada sobre uma operação de desconto de um título de valor nominal de R\$ 200.000,00. O título foi descontado 3 meses antes do vencimento. A taxa de juros simples dessa operação é inferior a 2,5% ao mês.

98 O fluxo de caixa mostrado abaixo, em milhares de reais, pode representar a emissão de 3.000 debêntures no mercado, com deságio de 10% na emissão, no valor de R\$ 1.000 cada uma, com prazo de resgate de dois anos, sendo os debenturistas remunerados, semestralmente, com juros nominais de 20% ao ano.



99 Considere que A e B são dois projetos de investimento mutuamente excluídos, com tamanhos diferentes e cujos comportamentos estão representados no gráfico abaixo. Nessa situação, a taxa interna de retorno incremental é de 5%.



Para uma aplicação em um título de renda fixa que remunera à taxa prefixada de 34,5% ao ano, a taxa foi decomposta conforme apresentado acima.

Assaf Neto. *Matemática financeira e suas aplicações*. Atlas, 2001 (com adaptações).

Com base nessas informações, julgue os itens a seguir.

100 A remuneração pelo risco é inferior a 0,6% a.m.

101 A taxa nominal líquida é decomposta em taxa real (1,11%) e taxa de inflação embutida (1% a.m.).

102 Considerando que a taxa nominal líquida é o resultado da taxa nominal bruta menos o imposto de renda retido na fonte, a alíquota de imposto de renda aplicada é maior que 3,25% a.m.

RASCUNHO



Julgue os itens a seguir, referentes a contabilidade gerencial.

103 O quadro abaixo apresenta registros de estoque da empresa Larrain e Sachs Ltda. Sabendo que a empresa avalia seu estoque utilizando a média ponderada móvel anual, o custo unitário do estoque, no início do período, deveria estar avaliado em R\$ 60,00.

saldo de estoque final	R\$ 400.000
inventário final	5.000 unidades
compras no período	
1.ª compra	R\$ 1.500.000 — 20.000 unidades
2.ª compra	R\$ 800.000 — 10.000 unidades
vendas do período (valor de custo)	R\$ 2.700.000 — 45.000 unidades

104 Com base nas informações gerenciais da empresa industrial Mankiw mostradas abaixo, o gerente financeiro demonstrou corretamente para a diretoria que a margem de contribuição no ano II foi de R\$ 6.000.000 e o grau de alavancagem operacional, superior a 2.

itens	em R\$	
	ano I	ano II
vendas	8.000.000	10.000.000
custos variáveis	3.500.000	4.000.000
custos e despesas fixas	2.500.000	2.500.000

105 O gerente de custos da empresa industrial Mankiw, dispondo dos dados abaixo, ao apropriar, pelo método de valor de mercado, os custos conjuntos proporcionalmente à participação do co-produto na receita, deverá encontrar valores de custo, por quilo, iguais para os produtos A e C.

custos conjuntos	em R\$
matéria-prima processada	100.000
mão-de-obra e custos industriais	50.000

valores de venda dos co-produtos			
produto	valor de venda (em R\$)	quantidade produzida	valor de venda total (em R\$)
A	200/kg	6.000 kg	1.200.000
B	100/kg	10.000 kg	1.000.000
C	200/kg	4.000 kg	800.000

Considerando a legislação societária e as normas brasileiras de contabilidade, julgue os seguintes itens.

106 Quando o preço da emissão de debêntures for superior a seu valor nominal, a diferença constituirá o prêmio, que será registrado como reserva de lucro a realizar.

107 Na avaliação de investimentos permanentes pelo método de custo, a geração efetiva dos lucros ou reservas não é considerada, mas, sim, as datas e os atos formais relacionados a eles ou a elas.

108 Quando a provisão para devedores duvidosos não for utilizada para baixa de títulos incobráveis e inexistir motivo que justifique o seu registro, deverá ser feita a reversão do saldo da conta retificadora classificada no ativo, com a correspondente redução do resultado da empresa.

109 No caso de empréstimos destinados a financiar a implantação de projetos, juros e encargos incorridos durante a fase pré-operacional e o período de implantação serão ativados, devendo ser registrados em conta destacada, onde fique evidenciada a sua natureza.

110 Das demonstrações consolidadas, impostos e contribuições relacionados às transações entre as entidades que formam o conjunto econômico devem ser eliminados na mesma proporção dos resultados ainda não realizados dos estoques, do ativo permanente e de outros ativos e apresentados no ativo ou passivo circulante como impostos e contribuições diferidos.

Alessandro, que é casado com Isabel e não tem filhos, completou recentemente cinco anos de exercício em um cargo público de provimento efetivo na administração pública do Distrito Federal.

Acerca dessa situação hipotética, julgue os itens que se seguem.

111 Alessandro tem estabilidade em seu cargo e, portanto, a ele não pode ser aplicada administrativamente penalidade disciplinar de demissão.

112 Considere que Alessandro solicite a concessão de licença remunerada de dois meses, para participar, na Espanha, de curso de capacitação em língua espanhola. Nessa situação, seria lícito ato da administração que indeferisse o pedido de Alessandro sob o argumento de que não há interesse da administração em que o servidor realize o referido curso.

113 Considere que Alessandro solicitou o parcelamento de suas próximas férias em três etapas, a serem gozadas em três meses diferentes. Nessa situação, a administração deve indeferir esse pedido, pois não há disposição legal que autorize o referido parcelamento.

114 Alessandro tem direito a receber adicional de tempo de serviço correspondente a 5% dos seus vencimentos.

115 Considere que Alessandro venha a falecer em razão de acidente em serviço. Nessa situação, Isabel fará jus a pensão mensal correspondente ao valor integral da remuneração que seria devida a Alessandro caso ele ainda exercesse seu cargo.

Em cada um dos itens a seguir, é apresentada uma situação hipotética acerca da ética no serviço público, seguida de uma assertiva a ser julgada.

116 Tadeu, funcionário de um órgão de atendimento ao público, exerce suas atribuições com agilidade e correção e procura prioritariamente atender aqueles usuários mais necessitados, conforme sua avaliação. Nessa situação, Tadeu apresenta comportamento antiético, pois privilegia o atendimento de uns em detrimento de outros.

117 Maria das Graças, no exercício de cargo de gerência pública distrital, atenta às ordens de seus superiores, dá pronto atendimento a elas, mesmo tendo de estabelecer prazos inexecutáveis para a execução das tarefas, impondo sobrecarga de trabalho a sua equipe. Nessa situação, Maria das Graças cumpre com ética o desempenho da função pública.

118 Adriana, competente nos aspectos técnicos e comportamentais, freqüentemente utiliza as prerrogativas de seu cargo público em razão de interesses pessoais. Nessa situação, Adriana faz uso dos direitos do funcionalismo público e age eticamente.

119 Márcio, servidor público, na certeza de que a sua ausência provoca danos ao trabalho e reflete negativamente em todo o sistema do órgão, é assíduo, pontual e produtivo. Nessa situação, Márcio apresenta conduta ética adequada ao serviço público.

120 Francisco, no exercício de cargo público, presenciou fraude praticada por seu chefe imediato no ambiente organizacional. Nessa situação, por ter consciência de que seu trabalho é regido por princípios éticos, Francisco agiu corretamente ao delatar seu chefe aos superiores.

