



# ESTADO DE RORAIMA MUNICÍPIO DE BOA VISTA

## Concurso Público

Nível Superior

**CARGO 17**

# Analista Municipal

Especialidade:

# Contador

Aplicação: 16/5/2004

# MANHÃ

**CESPE**  
UNIVERSIDADE DE BRASÍLIA  
Criando Oportunidades para Realizar Sonhos

### **LEIA COM ATENÇÃO AS INSTRUÇÕES ABAIXO.**

- 1 Ao receber este caderno, confira se ele contém **cento e vinte** itens, correspondentes às provas objetivas, corretamente ordenados de 1 a 120.
- 2 Caso o caderno esteja incompleto ou tenha qualquer defeito, solicite ao fiscal de sala mais próximo que tome as providências cabíveis.
- 3 Recomenda-se não marcar ao acaso: a cada item cuja resposta diverja do gabarito oficial definitivo, além de não marcar ponto, o candidato receberá pontuação negativa, conforme consta no Edital n.º 1/2004, de 12/3/2004.
- 4 Não utilize nenhum material de consulta que não seja fornecido pelo CESPE.
- 5 Durante as provas, não se comunique com outros candidatos nem se levante sem autorização do chefe de sala.
- 6 A duração das provas é de **três horas**, já incluído o tempo destinado à identificação — que será feita no decorrer das provas — e ao preenchimento da folha de respostas.
- 7 Ao terminar as provas, chame o fiscal de sala mais próximo, devolva-lhe a sua folha de respostas e deixe o local de provas.
- 8 A desobediência a qualquer uma das determinações constantes no presente caderno, na folha de rascunho ou na folha de respostas poderá implicar a anulação das suas provas.

#### **AGENDA**

- I **17/5/2004** – Divulgação, a partir das 10 h (horário de Brasília), dos gabaritos oficiais preliminares das provas objetivas, na Internet — no sítio <http://www.cespe.unb.br> — e nos quadros de avisos do CESPE/UnB, em Brasília.
- II **18 e 19/5/2004** – Recebimento de recursos contra os gabaritos oficiais preliminares das provas objetivas, exclusivamente nos locais e no horário que serão informados na divulgação desses gabaritos.
- III **8/6/2004** – Data provável da divulgação (após a apreciação de eventuais recursos), no Diário do Município de Boa Vista e nos locais mencionados no item I, do resultado final das provas objetivas e da convocação para a avaliação de títulos.

#### **OBSERVAÇÕES**

- Não serão objeto de conhecimento recursos em desacordo com o estabelecido no item 13 do Edital n.º 1/2004, de 12/3/2004.
- Informações relativas ao concurso poderão ser obtidas pelo telefone 0(XX) 61 448 0100 ou pela Internet, no sítio <http://www.cespe.unb.br>.
- É permitida a reprodução deste material apenas para fins didáticos, desde que citada a fonte.

- De acordo com o comando a que cada um dos itens de 1 a 120 se refira, marque, na **folha de respostas**, para cada item: o campo designado com o código **C**, caso julgue o item **CERTO**; ou o campo designado com o código **E**, caso julgue o item **ERRADO**. A ausência de marcação ou a marcação de ambos os campos não serão apenadas, ou seja, não receberão pontuação negativa. Para as devidas marcações, use a folha de rascunho e, posteriormente, a **folha de respostas**, que é o único documento válido para a correção das suas provas.
- Nos itens que avaliam **Conhecimentos de Informática**, a menos que seja explicitamente informado o contrário, considere que todos os programas mencionados estão em configuração-padrão, em português, que o *mouse* está configurado para pessoas destros e que expressões como clicar, clique simples e clique duplo referem-se a cliques com o botão esquerdo do *mouse*. Considere também que não há restrições de proteção, de funcionamento e de uso em relação aos programas, arquivos, diretórios e equipamentos mencionados.

## CONHECIMENTOS BÁSICOS

### Texto I – itens de 1 a 15

#### Palavras e idéias

1 Há alguns anos, o Dr. Johnson O'Connor, do Laboratório  
de Engenharia Humana, de Boston, e do Instituto de Tecnologia,  
de Hoboken, Nova Jersey, submeteu a um teste de vocabulário cem  
4 alunos de um curso de formação de dirigentes de empresas  
industriais, os executivos. Cinco anos mais tarde, verificou que os  
10% que haviam revelado maior conhecimento ocupavam cargos  
7 de direção, ao passo que dos 25% mais fracos nenhum alcançara  
igual posição.

10 Isso não prova, entretanto, que, para vencer na vida,  
basta ter um bom vocabulário; outras qualidades se fazem,  
evidentemente, necessárias. Mas parece não restar dúvida de que,  
dispondo de palavras suficientes e adequadas à expressão do  
13 pensamento de maneira clara, fiel e precisa, estamos em melhores  
condições de assimilar conceitos, de refletir, de escolher, de julgar  
do que outros cujo acervo léxico seja insuficiente ou medíocre para  
16 a tarefa vital da comunicação.

19 Pensamento e expressão são interdependentes, tanto é  
certo que as palavras são o revestimento das idéias e que, sem elas,  
é praticamente impossível pensar. Como pensar que amanhã vou  
para o trabalho às 8 horas, se não prefiguro mentalmente essa  
atividade por meio dessas ou de outras palavras equivalentes? Não  
22 se pensa *in vacuo*. A própria clareza das idéias (se é que as temos  
sem palavras) está intimamente relacionada com a clareza e a  
precisão das expressões que as traduzem. As próprias impressões  
25 colhidas em contato com o mundo físico, por meio da experiência  
sensível, são tanto mais vivas quanto mais capazes de serem  
traduzidas em palavras — e, sem impressões vivas, não haverá  
28 expressão eficaz. É um círculo vicioso. Sem dúvida, nossos hábitos  
lingüísticos afetam e são igualmente afetados pelo nosso  
comportamento, pelos nossos hábitos físicos e mentais normais,  
31 tais como a observação, a percepção, os sentimentos, a emoção, a  
imaginação. De forma que um vocabulário escasso e inadequado,  
incapaz de veicular impressões e concepções, mina o próprio  
34 desenvolvimento mental, tolhe a imaginação e o poder criador,  
limitando a capacidade de observar, de compreender e até mesmo  
de sentir. Não se diz nenhuma novidade ao afirmar que as palavras,  
37 ao mesmo tempo que veiculam o pensamento, condicionam-lhe a  
formação. Há século e meio, Herder já proclamava que um povo  
não podia ter uma idéia sem que para ela possuísse uma palavra.

40 Portanto, quanto mais variado e ativo é o vocabulário  
disponível, tanto mais claro, tanto mais profundo e acurado é o  
processo mental da reflexão. Reciprocamente, quanto mais escasso  
43 e impreciso, tanto mais dependentes estamos do grunhido, do grito  
ou do gesto, formas rudimentares de comunicação capazes de  
traduzir apenas expansões instintivas dos primitivos, dos infantes  
46 e... dos irracionais.

Othon Moacir Garcia. *Comunicação em prosa moderna*.  
8.ª ed. Rio de Janeiro: FGV, 1980, p. 155-6 (com adaptações).

Com relação ao texto I, julgue os itens a seguir.

- 1 O título do texto está relacionado predominantemente ao penúltimo parágrafo do texto, em que é defendida a hipótese de que palavras e idéias são a base do processo mental de todos os seres vivos.
- 2 Segundo o autor do texto, as palavras são essenciais não só à expressão das idéias como também à configuração do pensamento humano.
- 3 Segundo o autor do texto, a pesquisa por ele citada, no primeiro parágrafo, não é suficiente para sustentar a tese de que as pessoas que manifestam melhor desempenho lingüístico são mais bem sucedidas do que aquelas com baixo desempenho nessa competência.
- 4 O tema do texto, a relação entre pensamento e expressão verbal, está apresentado, de início, sob a forma de uma descrição, a que se segue uma narração.
- 5 Há, entre as informações do primeiro parágrafo e as idéias desenvolvidas no segundo, relação de adversidade, representada pela palavra “entretanto” (l.9).
- 6 De acordo com o texto, pensamento e expressão são interdependentes, porquanto as impressões do mundo são tanto mais vivas quanto mais capazes de serem traduzidas em palavras.
- 7 Para o autor do texto, a clareza, a profundidade e a acuidade do processo humano de reflexão relacionam-se à variedade e à precisão do vocabulário ativo dos indivíduos.

Com referência ao emprego das palavras no texto I e aos princípios de sintaxe oracional, julgue os itens subsequentes, referentes à frase “Não se pensa *in vacuo*.” (l.21-22).

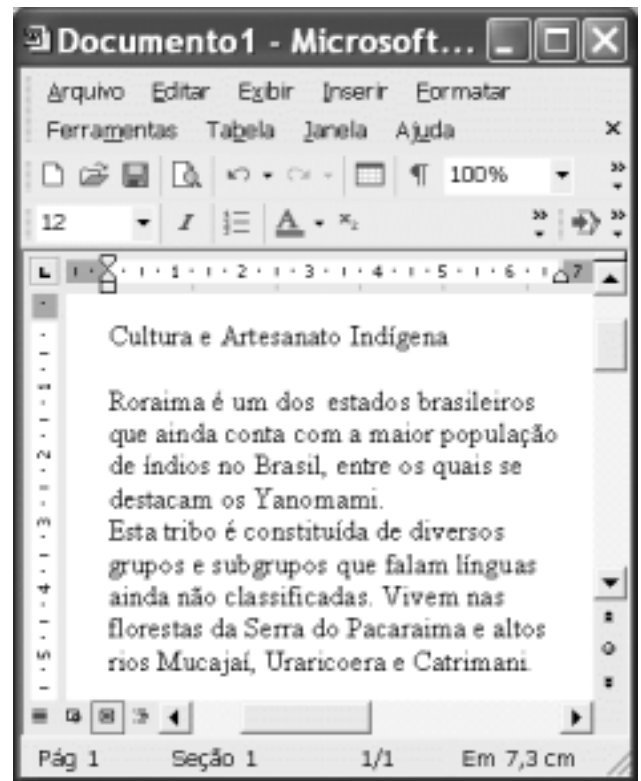
- 8 Essa frase classifica-se como um período simples, uma vez que possui uma única oração, denominada absoluta.
- 9 Por ser a oração iniciada por um advérbio de negação, não existe sujeito sintático oracional.
- 10 O núcleo do predicado é a forma verbal “pensa”, que, flexionada no modo indicativo, expressa atitude de certeza do autor em relação ao fato que ele enuncia.
- 11 A expressão “*in vacuo*” está grafada em itálico por ser um termo de procedência estrangeira.

Em cada item abaixo, um trecho do texto I está indicado e seguido de uma proposta de reescritura, que deve ser julgada quanto à correção gramatical e à manutenção das idéias do fragmento original.


- 12 “Mas parece (...) da comunicação” (l.11-16): Todavia, parece indubitável que, possuindo as palavras necessárias e próprias à manifestação do pensamento de forma clara, fidedigna e precisa, os indivíduos estão em condições superiores de absorverem conceitos, de fazerem reflexões, escolhas, julgamentos do que de outros cujo conjunto de vocabulário não seja suficiente, ou seja mediano, à comunicação.
- 13 “nossos hábitos lingüísticos (...) a imaginação” (l.28-32): os hábitos de linguagem comprometem e são parcialmente comprometidos pelo comportamento, pelos hábitos físicos e mentais, como, por exemplo: observação, percepção, ressentimentos, emoção e imaginação.
- 14 “Há século e meio (...) uma palavra” (l.38-39): Faz um século e meio que Herder clama que ninguém diz sequer novidade ao afirmar que as palavras à proporção que veiculam o pensamento, condicionam a formação do povo, o qual não poderia ter uma idéia, sem possuir para ela uma forma.
- 15 “Portanto, quanto mais (...) dos irracionais” (l.40-46): Um vocabulário pobre e não adequado é inútil para expressar impressões e conceitos; prejudica o seu desenvolvimento mental, diminui a imaginação e o poder criativo, reduzindo a capacidade de observar, compreender e até mesmo de sentir.

Julgue os fragmentos de texto nos itens subseqüentes quanto à grafia, à pontuação, à regência e ao emprego do sinal indicativo de crase.

- 16 Dominar um vocabulário preciso e criterioso é requisito imprescindível à elaboração eficiente de textos escritos.
- 17 Manejar um bom vocabulário não significa impressionar os outros com um punhado de palavras difíceis e desconhecidas; o que importa é conhecer e utilizar as necessárias à produção de textos claros e enxutos.
- 18 As melhores palavras são as mais eficazes, e não as mais pomposas; há não ser nos discursos prolixos e demagógicos, cujo exagero verbal procura encobrir a pobreza do conteúdo.
- 19 Às vezes, o significado decorre de fatores sociais sutis, conforme se verifica, por exemplo, no uso da palavra “progresso” no discurso de um executivo e no uso da mesma palavra em uma publicação de um grupo radical de defesa do meio ambiente.
- 20 O nível do vocabulário utilizado decorre, dos fatores que condicionam à elaboração do texto: o assunto tratado, a finalidade que se propõe, o receptor a que se dirige e o veículo de divulgação utilizado.





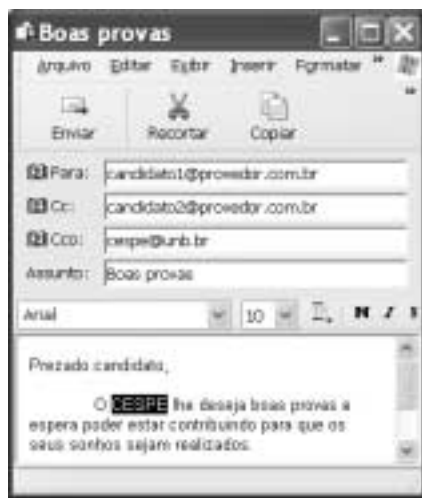
Considerando a figura acima, que ilustra uma janela do Word 2002 com um documento em edição, julgue os itens subseqüentes, relativos ao Word 2002.

- 21 Por meio de opção encontrada no menu **Inserir**, é possível inserir no documento em edição um arquivo com extensão .doc que esteja gravado em disquete.
- 22 Para se excluir toda a primeira linha mostrada do documento em edição, é suficiente selecionar a referida linha por meio da aplicação de um clique duplo sobre a mesma e, a seguir, teclar .
- 23 Considere o seguinte procedimento: selecionar todo o documento em edição; clicar a opção Layout de impressão no menu **Exibir**; na janela decorrente dessa ação marcar o campo Numeração de linhas. Após esse procedimento, todas as linhas do texto mostrado ficarão numeradas.
- 24 O menu **Ferramentas** disponibiliza recurso por meio do qual é possível alterar configuração do Word 2002 referente ao ocultamento de erros de ortografia no documento em edição.





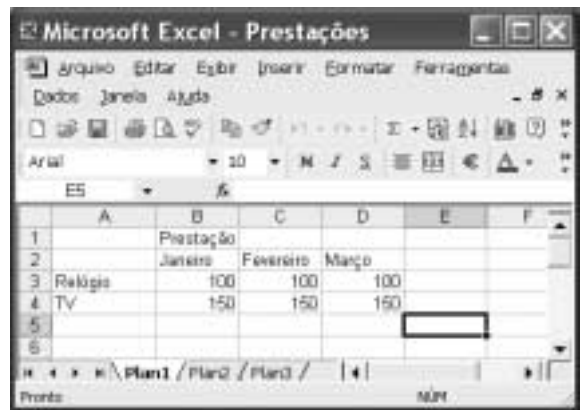
Considerando a janela do Internet Explorer 6 (IE6), ilustrada acima, julgue os itens a seguir, relativos à Internet e ao IE6.

- 25 Para que um computador possa se conectar à rede mundial de computadores é necessário que o seu endereço IP seja cadastrado ao Ministério das Comunicações, que detém a coordenação nacional dessa rede no Brasil.
- 26 Ao se clicar o botão , será aberto na área de trabalho do IE6 um campo no qual é possível realizar pesquisa de conteúdo em sítios da Web.
- 27 Para que uma conexão com a Internet seja segura, em que técnicas de proteção contra vírus de computador e contra *hackers* são empregadas, é suficiente clicar o botão  antes de se conectar a um determinado sítio.







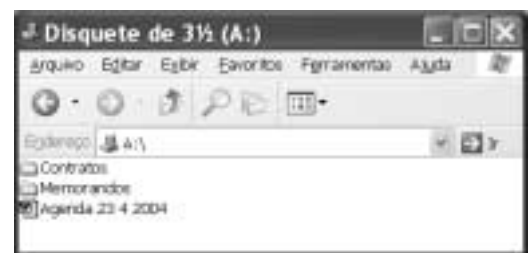
Considerando a janela do Outlook Express 6 ilustrada acima, julgue os itens seguintes.

- 28 Ao se clicar o botão , a palavra selecionada — CESPE — será excluída do corpo da mensagem de correio eletrônico mostrada. Após a sua exclusão, a palavra poderá ser novamente incluída na referida mensagem, em sua posição original, por meio de recurso disponibilizado no *menu* **Editar**.
- 29 Ao se clicar o botão , a mensagem de correio eletrônico mostrada será enviada a três destinatários e, quando forem lidas, cada um destes terá acesso aos endereços de correio eletrônico dos outros dois.






A figura acima mostra uma janela do Excel 2002, com uma planilha que está sendo elaborada por um usuário, contendo dados relativos a duas compras à prestação por ele feitas, de um relógio e de uma TV. Com relação a essa janela, julgue os itens a seguir.

- 30 Para calcular o total pago na compra do relógio, nos três meses mostrados, colocando o resultado na célula E3, é suficiente clicar a célula E3; digitar =soma(B3:D3) e, em seguida, teclar .
- 31 Para mesclar as células B1, C1 e D1, de forma que essas células sejam combinadas em apenas uma célula, é suficiente realizar a seguinte seqüência de ações: clicar a célula B1; pressionar e manter pressionada a tecla ; clicar a célula D1; liberar a tecla ; clicar .



A figura acima mostra uma janela do Windows XP. Com relação a essa figura e ao Windows XP, julgue os itens seguintes.

- 32 Ao se aplicar um clique duplo no ícone , será exibido um *menu* com diversas opções, entre as quais a opção *Propriedades*, que permite exibir as propriedades do arquivo associado a esse ícone.
- 33 Caso o disquete inserido na unidade de disco A: esteja protegido contra gravação, o ato de clicar o ícone  e teclar a tecla  não causará a exclusão do arquivo associado a esse ícone.

Com relação a conceitos de *hardware* de computadores do tipo PC, julgue os itens seguintes.

- 34 A memória RAM, também conhecida como disco rígido, consiste em uma memória magnética que permite o armazenamento permanente de dados e programas do computador.
- 35 O disquete de 3 1/2" mais popular consiste em um disco para armazenamento permanente de dados e programas, que é capaz de armazenar uma quantidade de dados superior a 1,4 *gigabytes*.

Uma das maiores organizações não-governamentais (ONGs) ambientais do planeta, o Fundo Mundial para a Natureza (WWF) é uma amostra de como a luta pela defesa do meio ambiente ganhou dimensões gigantescas nessa virada de milênio. A ONG funciona como uma federação de entidades autônomas, controlada por um secretariado central baseado na Suíça. Está presente em 96 países, dos quais 29 com escritórios. A maioria deles atua de maneira independente, com a responsabilidade apenas de colaborar com o WWF em projetos globais. No Brasil, a ONG tem 70 empregados e 76 programas e projetos em andamento. A organização arrecada cerca de 330 milhões de dólares por ano, boa parte originária de doações milionárias e de anuidades pagas por seus 5 milhões de associados. O grosso do dinheiro, porém, vem da venda de produtos licenciados com o logotipo da organização, um simpático panda.

Luiz Guilherme Megale. *Ambientalismo multinacional*. In: *Veja Ecologia*, edição especial n.º 22, ano 35, 1.783/A, dez./2002, p. 61 (com adaptações).

Tendo o texto acima como referência inicial e considerando a abrangência do tema por ele focalizado, julgue os itens seguintes.

- 36 A preocupação com a preservação das condições de vida no planeta é uma tendência que tem crescido a partir das últimas décadas do século passado, paralelamente ao surgimento e à expansão de organizações sociais, de que a WWF é exemplo marcante.
- 37 Tem-se ampliado significativamente o número de ONGs dedicadas à proteção da natureza, o que pode ser explicado, em larga medida, pelos métodos sempre pacíficos e ordeiros que elas utilizam na defesa de suas causas.
- 38 Entre as mais famosas organizações ambientalistas do mundo, lugar de destaque é ocupado pelo *Greenpeace*, conhecido pelos protestos barulhentos e chamativos que protagoniza, muitos dos quais a bordo de um dos navios que o grupo possui.
- 39 No Brasil, entre as mais conhecidas organizações voltadas para a causa do meio ambiente está a Fundação SOS Mata Atlântica, que se dedica à defesa do que sobrou da floresta que cobria praticamente todo o litoral brasileiro.
- 40 Há consenso, entre os especialistas, de que a chave do sucesso de uma ONG como a WWF consiste em sua estrutura rigidamente centralizada, que possibilita atuação uniforme em todo o planeta, resultante do pesado controle exercido sobre as entidades nacionais e a ela filiadas.

A proporção de pobres na população mundial caiu praticamente à metade entre 1981 e 2001, mas a melhoria foi mal distribuída e, na América Latina, o panorama da indigência não se alterou. É o que mostra o relatório Indicadores de Desenvolvimento Mundial 2004, divulgado pelo Banco Mundial. Segundo o levantamento anual do banco, a fatia de pessoas vivendo com menos de US\$ 1 por dia — considerada, pela instituição, a linha de indigência — era de 39,5% da população total do planeta (1,45 bilhão) em 1981 e caiu para 21,3% (1,1 bilhão) em 2001. Na América Latina e no Caribe, no entanto, a evolução foi quase inexistente, com a proporção de indigentes recuando de 9,7% para 9,5% no mesmo período.

*Jornal do Brasil*, 24/4/2004, p. A17 (com adaptações).

Tendo esse texto como referência inicial e considerando os múltiplos aspectos que o tema suscita, julgue os itens subseqüentes.

- 41 No período analisado pelo Banco Mundial, que corresponde às duas últimas décadas do século passado, as políticas econômicas adotadas por quase todos os países latino-americanos foram essencialmente intervencionistas e exigiram forte presença estatal em sua execução.

- 42 Lançado no Brasil em meados da década passada, o Plano Real não apenas estabilizou a economia brasileira, domando um processo inflacionário persistente, como também reduziu sensivelmente as desigualdades sociais no país.
- 43 De maneira geral, o fraco desempenho da América Latina no combate à pobreza é reflexo da péssima distribuição de renda, que, com suas fundas raízes históricas, caracteriza o continente.
- 44 Sabe-se que, no continente asiático, China e Índia são países que, impulsionados pelo forte avanço de suas economias, registram mais progresso na área social, contribuindo decisivamente para a diminuição da pobreza mundial.
- 45 Embora apresentando altos níveis de desigualdade, a América Latina avançou significativamente na crucial questão da distribuição da renda produzida.
- 46 A manutenção de elevados níveis de pobreza não denota, apenas, um grave problema social, pois inviabiliza o próprio desenvolvimento sustentado, a começar pelo fato de que revela, entre muitas outras deficiências, a existência de mão-de-obra não-qualificada e de pessoas inabilitadas a participar do sistema produtivo.
- 47 O atual estágio da economia mundial, comumente chamado de globalização, caracteriza-se por profundas inovações, sendo a mais visível delas a redução da distância entre o desenvolvimento de países ricos e o de países pobres.

Pelo fato de ser o centro político-administrativo de Roraima, Boa Vista torna-se pólo irradiador do desenvolvimento do estado e, simultaneamente, ponto de referência para as grandes questões locais. Assim, a homologação da demarcação de áreas indígenas ou a ação considerada ilegal de garimpeiros em algum ponto do território estadual são fatos que repercutem intensamente na capital e dela exigem manifestação. Relativamente a esse assunto, julgue os itens que se seguem.

- 48 A principal celeuma surgida em torno da homologação da demarcação da reserva Raposa/Serra do Sol diz respeito a sua dimensão territorial: para alguns, é terra em demasia para poucos indígenas; para outros, a área é insuficiente para os indígenas.
- 49 Um dos argumentos utilizados pelos que defendem a demarcação da reserva Raposa/Serra do Sol de forma descontínua é a necessidade de se defender a soberania nacional em uma extensa faixa de fronteira.
- 50 Para os especialistas, a polêmica em torno da reserva Raposa/Serra do Sol deriva do fato de ela ser a primeira área indígena demarcada em Roraima.

## CONHECIMENTOS ESPECÍFICOS

Considerando que a empresa Alfa tenha adquirido, no ano corrente, ações das companhias coligadas Beta e Gama, julgue os itens a seguir à luz da legislação pertinente.

- 51** Ao classificar ações de outras companhias no ativo circulante, a empresa Alfa caracteriza o interesse em comercializar tal ativo em curto prazo.
- 52** A companhia Alfa pode emitir debêntures em séries e sua remuneração seguirá a taxa média de remuneração dos títulos da dívida pública, sem acréscimos que caracterizem juros abusivos.

Quando à avaliação e contabilização de investimentos societários no país, julgue os itens a seguir, considerando que a empresa Delta é a controladora das empresas X, Y e Z.

- 53** As variações no percentual de participação de um investimento em coligada surgem quando a companhia investidora deixa de subscrever ações nos aumentos de capital da companhia investida, ou o faz por percentuais diferentes dos existentes inicialmente.
- 54** Ao avaliar um investimento em coligada pelo método de custo, a empresa Delta não considera os lucros não-distribuídos.
- 55** O resultado de reavaliação de ativos de controladas será registrado, na empresa Delta, na conta investimentos e em conta de reserva de reavaliação de ativos de controladas. O valor registrado seguirá a proporção do investimento da empresa Delta na controlada.
- 56** Ao elaborar a demonstração consolidada de empresas, o valor correspondente a participações de uma sociedade na outra será adicionado na consolidação.
- 57** Ao excluir a empresa X das demonstrações consolidadas, o contador divulgará a razão de tal exclusão em notas explicativas, conforme estabelece a Comissão de Valores Mobiliários (CVM).

Acerca de procedimentos de contabilização relativos ao imposto de renda de pessoas jurídicas (IRPJ) e à contribuição social sobre o lucro líquido (CSLL), julgue os itens subseqüentes.

- 58** Ao se apurar o lucro tributável, deve-se acrescentar ao lucro apurado na demonstração do resultado do exercício os resultados negativos de participações societárias avaliadas pelo método de equivalência patrimonial (MEP).
- 59** O valor decorrente do recebimento de dividendos de outras pessoas jurídicas tem de ser adicionado ao valor do lucro para fins do imposto de renda.
- 60** A base de cálculo da contribuição social será o resultado obtido para a apuração do lucro real, adicionada dos impactos econômicos não-considerados.
- 61** Na apuração do lucro real da empresa, poderão ser compensados prejuízos fiscais de períodos anteriores, obedecidos os limites estabelecidos pela legislação vigente.

preço de venda unitário da mercadoria	R\$ 160,00
custo variável unitário da mercadoria	R\$ 120,00
custos fixos	R\$ 14.000,00
ativo permanente	R\$ 59.000,00
ativo circulante	R\$ 54.090,00
depreciação, incluída nos custos fixos	R\$ 3.000,00
impostos sobre receita	30%
impostos sobre lucro	24%

Com base nas informações de determinada empresa mostradas no quadro acima e considerando a análise custo  $\times$  volume  $\times$  lucro, julgue os itens a seguir.

- 62** O ponto de equilíbrio contábil, sem os impostos, é de 350 unidades.
- 63** Para um lucro operacional nulo, considerando impostos, a empresa deverá produzir uma quantidade superior a 350 unidades.
- 64** Considerando as informações mostradas como parâmetro inicial, ao se aumentar o valor do custo variável unitário em 10%, o ponto de equilíbrio contábil sofrerá acréscimo de 20%.
- 65** A despesa com depreciação tem de ser excluída na apuração do ponto de equilíbrio societário.

RASCUNHO

conta/saldo	dez./2002 (em R\$)	dez./2003 (em R\$)
clientes	4.500	5.000
imóveis	5.000	6.400
fornecedores	15.000	18.500
CMV	18.000	21.000
despesa com aluguel	3.500	4.000
energia a pagar	800	600
aluguel antecipado	4.500	2.500
mercadorias para revenda	50.000	35.000
receita de vendas	70.000	90.000

Considerando as informações apresentadas no quadro acima e a estrutura, elaboração e divulgação das demonstrações contábeis, julgue os itens subseqüentes.

- 66** O valor correspondente ao pagamento de fornecedores, no ano de 2003, é de R\$ 2.500,00.
- 67** O valor correspondente ao pagamento de aluguel, no ano de 2003, é igual a R\$ 2.500,00.
- 68** O valor correspondente ao recebimento de clientes é de R\$ 89.500,00 em 2003.
- 69** Se a empresa adquiriu os imóveis à vista, houve uma aplicação, sob a ótica da demonstração de origens e aplicação de recursos (DOAR).

No referente à legislação específica do ICMS, julgue os itens que se seguem.

- 70** O ICMS é um imposto que incide sobre o valor agregado nas etapas de produção e comercialização da mercadoria, até que o consumidor adquira tal mercadoria.
- 71** O valor apurado pela confrontação do ICMS da aquisição com o ICMS da venda será classificado como ativo, se o valor daquele superar o valor deste, ou passivo, no caso de de a relação entre os valores se inverter.
- 72** O registro correto da aquisição de mercadorias à vista, com ICMS recuperável — crédito tributário — será feito da seguinte forma.
- D mercadoria  
C ICMS a recuperar  
C caixa

Considerando a estrutura das demonstrações contábeis estabelecida na Lei n.º 6.404/1976 e na legislação complementar, além dos indicadores de análise econômico-financeira, julgue os itens seguintes.

- 73** Ao efetuar o lançamento de registro da reserva de reavaliação, a empresa influenciará o índice de liquidez corrente.
- 74** Ao se registrar uma receita antecipada, e sua contrapartida, no circulante, o índice de endividamento será acrescido.

- 75** Ao transferir recursos do ativo realizável em longo prazo para o ativo circulante, a empresa aumentará suas aplicações, para fins de elaboração da DOAR.
- 76** Ao efetuar o pagamento de duplicatas com desconto a empresa, deverá efetuar o seguinte lançamento.  
D desconto obtido  
D duplicatas a pagar  
C caixa
- 77** O registro de adiantamento a fornecedores, de curto prazo, aumentará o índice de liquidez corrente.

A respeito da estrutura do custeio por absorção e do custeio variável como sistemas de custos e informações gerenciais, julgue os itens subseqüentes.

- 78** O custeio variável inclui o valor proporcional dos custos fixos no custo da mercadoria/produto.
- 79** O custeio por absorção considera custos e despesas fixas integralmente, na elaboração da demonstração do resultado do exercício.

Acerca da destinação do resultado, segundo as normas vigentes, julgue os itens a seguir.

- 80** Quando o estatuto for omissivo e a assembléia-geral deliberar alterá-lo para introduzir norma sobre a matéria, o dividendo obrigatório não poderá ser inferior a 30% do lucro líquido ajustado.
- 81** A companhia constituirá a reserva fiscal para dividendo obrigatório não-distribuído quando tiver dividendo obrigatório a distribuir, mas não tiver condições financeiras para seu pagamento.
- 82** Os dividendos representam uma destinação do lucro do exercício, dos lucros acumulados ou de reserva de lucros aos acionistas da companhia, podendo, ainda, ser utilizadas as reservas de capital para o pagamento de dividendos às ações preferenciais.
- 83** Entre as reservas de lucros, a reserva de reavaliação é a que proporciona maior flexibilidade para distribuição de dividendos.
- 84** Nas destinações da reserva de capital, inclui-se a incorporação ao capital.
- 85** Os administradores somente terão participação nos lucros do exercício social em relação ao qual, for atribuído aos acionistas o dividendo obrigatório.

RASCUNHO

ativo financeiro	10.000,00
ativo permanente	23.000,00
passivo financeiro	12.000,00
passivo permanente	7.000,00
ativo compensado	30.000,00

Suponha que os dados acima, todos em reais, sejam parte do balanço patrimonial de determinado município, em 31 de dezembro do ano X. Suponha, ainda, que, no ano X + 1, ocorreram os seguintes fatos:

- I venda, por R\$ 4.000,00, de um veículo que estava registrado na contabilidade por R\$ 5.000,00;
- II recebimento de um veículo por doação do SUS, no valor de R\$ 8.000,00.

Com base nos dados acima, julgue os itens que se seguem.

- 86** Em 31 de dezembro do ano X, o passivo compensado apresentava um saldo de R\$ 34.000,00.
- 87** Durante o ano de X + 1, o saldo patrimonial cresceu em 50%.
- 88** Se, no orçamento do município, não havia previsão de receita de venda de bens, a venda do veículo acima citada somente produziu efeitos nos sistemas patrimonial e financeiro.
- 89** Os dois fatos narrados produzem efeitos opostos sobre o valor do saldo patrimonial ao final de X + 1.
- 90** O primeiro dos fatos acima provocou uma variação ativa orçamentária e duas variações passivas na demonstração das variações patrimoniais de X + 1.
- 91** O segundo fato provocou uma variação ativa orçamentária.

No que se refere ao orçamento público e aos créditos orçamentários, julgue os itens subseqüentes.

- 92** A Constituição Federal estabelece que a Lei Orçamentária Anual compreende três orçamentos: fiscal, da seguridade social e monetário.
- 93** Conforme a Constituição Federal, é proibida a criação de créditos ilimitados, ressalvados os destinados a despesas com calamidades, guerras e comoção interna.
- 94** Os créditos suplementares têm a peculiaridade de poderem ser abertos tanto por meio de lei quanto de decreto do chefe do Poder Executivo, desde que, neste caso, sejam respeitados os limites estabelecidos em lei.
- 95** Durante a tramitação do projeto de Lei Orçamentária no Poder Legislativo, há previsão constitucional de rejeição do projeto.
- 96** No âmbito da contabilidade pública, a única destinação da receita corrente é o custeio da despesa corrente.
- 97** Para que o município possa reestruturar uma carreira dos servidores da prefeitura, de forma a elevar a despesa com pessoal, é necessário que haja autorização na Lei de Diretrizes Orçamentárias aprovada no exercício anterior ao do implemento da alteração da carreira.

Para a elaboração de projeto executivo destinado à construção de determinada usina termelétrica, a prefeitura de determinado município entendeu que seria o caso de inexigibilidade de licitação por notória especialização. Em relação a esse fato e aos deveres a ele relacionados, julgue os itens a seguir.

- 98** Para que se ateste a notória especialização, a empresa poderá, para demonstrar o conceito que detém no campo de sua especialidade, utilizar-se da apresentação de prova de experiências, publicações, aparelhamento, equipe técnica, de modo que permita inferir que o seu trabalho é essencial e indiscutivelmente o mais adequado à plena satisfação do objeto do contrato.
- 99** Se o contrato se destinasse à fiscalização das obras (e não à elaboração do projeto executivo), não seria admissível, conforme a Lei n.º 8.666/1993, a contratação com inexigibilidade de licitação.
- 100** Se, para a definição da inexigibilidade, foi apresentada relação de integrantes de seu corpo técnico como elemento de justificação da inexigibilidade, ficará a empresa obrigada a garantir que os referidos integrantes realizem pessoal e diretamente os serviços contratados.
- 101** Caso a prefeitura decida fazer o certame concorrencial, em lugar da inexigibilidade, terá de adotar, obrigatoriamente, o tipo melhor técnica, pois a especialidade da matéria não permitiria outro tipo.

No que se refere à Lei de Responsabilidade Fiscal (LRF) e sua aplicação ao âmbito municipal, julgue os itens que se seguem.

- 102** No conceito genérico de município utilizado na LRF, estão incluídas, além dos órgãos da administração direta, todas as suas autarquias e fundações, e excluídas todas as suas empresas públicas e as sociedades de economia mista.
- 103** No cálculo de alguns dos limites estabelecidos na LRF, é utilizada como base a receita corrente líquida (RCL). No caso de Boa Vista – RR, a RCL é resultante do somatório das receitas tributárias, de contribuições, patrimoniais, industriais, agropecuárias, de serviços, transferências correntes e outras receitas também correntes, deduzidas as transferências do fundo de participação dos municípios.
- 104** Se, em determinado período, a receita corrente líquida do município de Boa Vista – RR foi de R\$ 200.000.000,00, isso implica que a Câmara Municipal poderá ter gastado com pessoal, no mesmo período, até R\$ 12.000.000,00.
- 105** Apesar da autonomia dos poderes, o Poder Executivo municipal não pode deixar de enviar à Câmara municipal os recursos financeiros destinados ao pagamento de pessoal daquela Casa, porém deve limitar o volume aos limites estabelecidos na LRF ou na Lei de Diretrizes Orçamentárias.

RASCUNHO



Julgue os itens seguintes.

RASCUNHO

**106** Considere a seguinte situação hipotética.

Uma empresa comercializa equipamentos usados. Dois de seus equipamentos, A e B, têm os seus preços calculados em razão direta de suas produções e em razão inversa de seus tempos de uso. Considere que a produção de A está para a produção de B assim como 3 está para 5, que o tempo de uso de A é de 2 anos e 6 meses e o de B, de 3 anos e 4 meses, e que o equipamento A custa R\$ 3.600,00.

Nessa situação, o preço do equipamento B é superior a R\$ 4.000,00.

**107** Se uma instituição financeira paga juros compostos de 40% a.a., capitalizados semestralmente, então a taxa de juros anual efetiva é igual a 44%.

**108** Admita que um título de valor nominal igual a R\$ 12.000,00, com vencimento para 5 meses, seja trocado por outro, de mesmo valor atual, com vencimento para 3 meses. Considerando que a taxa de juros compostos corrente é de 5% a.m. e supondo que  $(1,05)^{-2} = 0,91$ , então o valor nominal do novo título é superior a R\$ 13.000,00.

Em uma repartição, 64% dos funcionários são do sexo masculino e o número de funcionários do sexo feminino é igual a 54. Com base nesses dados, julgue os itens que se seguem.

**109** O número total de funcionários dessa repartição é inferior a 140.

**110** Para que o número de funcionários do sexo feminino seja igual ao número de funcionários do sexo masculino, sem que haja demissões, devem ser contratados mais de 40 funcionários do sexo feminino.

Um investidor aplicou R\$ 20.000,00 e ao final de determinado período recebeu R\$ 32.000,00. A taxa de inflação no período da aplicação foi de 30%. Acerca dessa situação, julgue os itens subseqüentes.

**111** A taxa de juros aparente dessa aplicação foi superior a 55%.

**112** A taxa real de juros dessa aplicação foi superior a 25%.

O desconto comercial simples (por fora) de um título, 2 meses antes do seu vencimento, é de R\$ 308,00, enquanto o desconto racional simples (por dentro) desse mesmo título, também 2 meses antes do seu vencimento, é igual a R\$ 280,00. Acerca dessa situação, julgue os itens seguintes.

**113** O valor nominal do título é inferior a R\$ 3.000,00.

**114** Nesse caso, a taxa mensal de desconto é inferior a 6%.

Um empréstimo no valor de R\$ 40.000,00 deverá ser quitado em 10 parcelas anuais, com base no sistema francês de amortização, à taxa de juros compostos de 15% a.a. A 1.ª parcela vence 1 ano após a data da tomada do empréstimo. Supondo que  $(1,15)^{-10} = 0,25$  e que o saldo devedor após o pagamento da 2.ª parcela seja igual a R\$ 35.700,00, julgue os itens que se seguem.

**115** O valor de cada parcela é inferior a R\$ 8.500,00.

**116** A amortização efetuada no 3.º pagamento é inferior a R\$ 2.700,00.

Considere uma renda anual constituída de 15 termos iguais a R\$ 2.000,00 cujos pagamentos são postecipados à taxa corrente de juros compostos de 10% a.a. Supondo que  $(1,1)^{-15} = 0,24$  e que  $(1,1)^{15} = 4,18$ , julgue os itens subsequentes.

**117** O valor atual da renda é superior a R\$ 16.000,00.

**118** O montante da renda é inferior a R\$ 60.000,00.

Um proprietário recebeu as seguintes propostas para a venda de sua residência.

I entrada de R\$ 75.000,00 e mais 12 parcelas mensais de R\$ 2.000,00,

II entrada de R\$ 50.000,00 e mais 2 parcelas semestrais de R\$ 25.000,00.

Considerando que o proprietário use a taxa de juros compostos corrente de 3% a.m. e supondo que  $(1,03)^{-3} = 0,92$ ,  $(1,03)^{-6} = 0,84$  e  $(1,03)^{-12} = 0,70$ , julgue os itens que se seguem.

**119** O valor atual da residência, segundo a proposta II, é inferior a R\$ 95.000,00.

**120** Entre as duas propostas, a proposta I é mais vantajosa para o proprietário.

RASCUNHO