



Saúde
Ministério da Saúde

BRASIL
UM PAÍS DE TODOS
GOVERNO FEDERAL

ANS Agência Nacional de
Saúde Suplementar

Concurso Público
Nível Superior

CARGO 13:
Analista Administrativo

ESPECIALIDADE:
Ciências Econômicas

Aplicação: 16/4/2005

CESPE
UNIVERSIDADE DE BRASÍLIA
Criando Oportunidades para Realizar Sonhos

LEIA COM ATENÇÃO AS INSTRUÇÕES ABAIXO.

- 1 Ao receber este caderno, confira se ele contém **cento e vinte** itens, correspondentes às provas objetivas, corretamente ordenados de **1 a 120**, e a prova discursiva, acompanhada de uma página para rascunho.
- 2 A página para rascunho é de uso opcional; não contará, portanto, para efeito de avaliação.
- 3 Caso o caderno esteja incompleto ou tenha qualquer defeito, solicite ao fiscal de sala mais próximo que tome as providências cabíveis.
- 4 Nos itens das provas objetivas, recomenda-se não marcar ao acaso: em cada item, se a resposta divergir do gabarito oficial definitivo, o candidato receberá pontuação negativa, conforme consta em edital.
- 5 Não utilize nenhum material de consulta que não seja fornecido pelo CESPE.
- 6 Não serão distribuídas folhas suplementares para rascunho nem para texto definitivo.
- 7 Durante as provas, não se comunique com outros candidatos nem se levante sem autorização do chefe de sala.
- 8 A duração das provas é de **quatro horas e trinta minutos**, já incluído o tempo destinado à identificação — que será feita no decorrer das provas —, ao preenchimento da folha de respostas e à transcrição do texto definitivo para a respectiva folha.
- 9 Na prova discursiva, não será avaliado texto escrito a lápis, em local indevido ou que tenha identificação fora do local apropriado.
- 10 Ao terminar as provas, chame o fiscal de sala mais próximo, devolva-lhe a sua folha de respostas e a folha de texto definitivo e deixe o local de provas.
- 11 A desobediência a qualquer uma das determinações constantes no presente caderno, na folha de rascunho, na folha de respostas ou na folha de texto definitivo poderá implicar a anulação das suas provas.

AGENDA

- I **18/4/2005**, a partir das 10 h – Gabaritos oficiais preliminares das provas objetivas: Internet — www.cespe.unb.br/concursos/ans2005 — e quadros de avisos do CESPE/UnB.
- II **19 e 20/4/2005** – Recursos (provas objetivas): formulários estarão disponíveis no Sistema Eletrônico de Interposição de Recurso, Internet — www.cespe.unb.br/concursos/ans2005.
- III **24/5/2005** – Resultado final das provas objetivas e resultado provisório da prova discursiva: Diário Oficial da União e locais mencionados no item I.
- IV **25 e 26/5/2005** – Recursos (prova discursiva): em locais e horários que serão informados na divulgação do resultado provisório.
- V **15/6/2005** – Resultado final da prova discursiva e convocação para a avaliação de títulos: Diário Oficial da União e Internet — www.cespe.unb.br/concursos/ans2005.

OBSERVAÇÕES

- Não serão objeto de conhecimento recursos em desacordo com o item 13 do Edital n.º 1/2005–ANS/MS, de 26/1/2005.
- Informações adicionais: telefone 0(XX) 61 448 0100; Internet – www.cespe.unb.br.
- É permitida a reprodução deste material apenas para fins didáticos, desde que citada a fonte.

- De acordo com o comando a que cada um dos itens de 1 a 120 se refira, marque, na **folha de respostas**, para cada item: o campo designado com o código **C**, caso julgue o item **CERTO**; ou o campo designado com o código **E**, caso julgue o item **ERRADO**. A ausência de marcação ou a marcação de ambos os campos não serão apenadas, ou seja, não receberão pontuação negativa. Para as devidas marcações, use a folha de rascunho e, posteriormente, a **folha de respostas**, que é o único documento válido para a correção das suas provas.
- Nos itens que avaliam **Noções de Informática**, a menos que seja explicitamente informado o contrário, considere que todos os programas mencionados estão em configuração-padrão em português, que o *mouse* está configurado para pessoas destros e que expressões como clicar, clique simples e clique duplo referem-se a cliques com o botão esquerdo do *mouse*. Considere também que não há restrições de proteção, de funcionamento e de uso em relação aos programas, arquivos, diretórios e equipamentos mencionados.

CONHECIMENTOS BÁSICOS

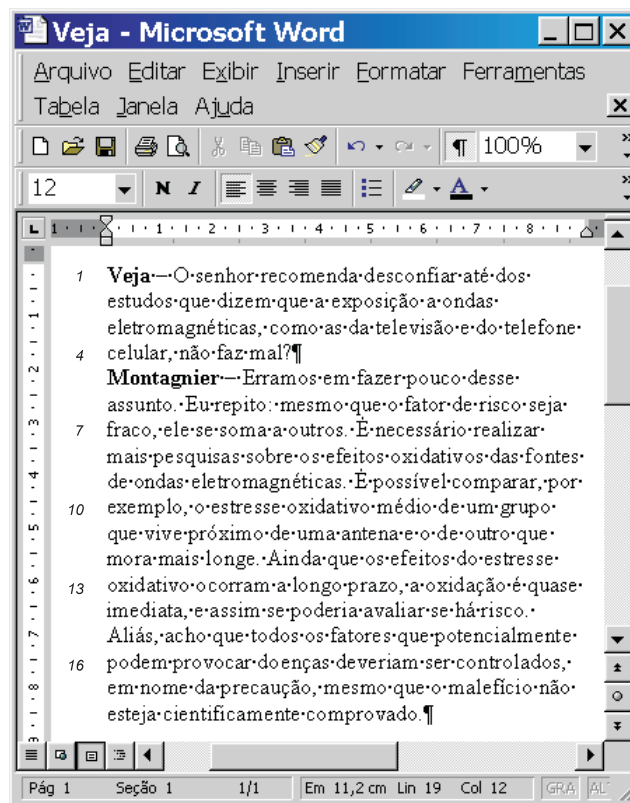
1 Existe, por certo, um abismo muito largo e profundo
entre a cosmovisão dos médicos em geral (fundada em sua
4 vasta maioria da população. Salta à vista, na abordagem do
assunto (a ética e a verdade do paciente), que se fica, mais
uma vez, diante da pergunta feita por Pôncio Pilatos a Jesus
7 Cristo, encarando, como estava, um homem pleno de sua
verdade, “O que é a verdade?” E é evidente que um e outro
se cingiam a verdades díspares.
10 É corrente a afirmação de que muitos pacientes não
querem saber a verdade de sua doença, quando grave, ou que
procuram de toda maneira se enganar. Acredita-se que o
13 médico não deva ser cúmplice dessa tendência, salvo se a
verdade proferida dos fatos for mais deletéria do que a sua
exclusão. Outra forma de dizer seria, talvez: salvo se a
16 verdade revelada dos fatos for mais prejudicial do que a
própria afecção de que é portador o paciente. Na prática, é
provável que, na maioria das vezes, prefira-se a verdade ao
19 engodo. Ademais, a mentira piedosa, o engodo ou a
não-verdade podem até redundar em escândalo, em atitudes
ainda mais dramáticas, ou se revestirem de implicações de
22 ordem legal. Nestes casos, admite-se, a verdade conhecida do
médico deve se constituir também na verdade do paciente.

Dalgimar Beserra de Menezes. *A ética médica e a verdade do paciente*. In: *Desafios éticos*, p. 212-5 (com adaptações).

Julgue os itens subseqüentes, a respeito das idéias e das estruturas lingüísticas do texto acima.







- 1 A argumentação do texto opõe uma “cosmovisão” (l.2) a “concepções de vida” (l.3), justificando a origem da primeira.
- 2 Na linha 5, os sinais de parênteses são empregados para intercalar uma explicação do que seria o “assunto”.
- 3 As ocorrências do pronome átono, em “se fica” (l.5), “se cingiam” (l.9), “se enganar” (l.12), “prefira-se” (l.18) e “admite-se” (l.22) têm a função de indicar um sujeito indeterminado que confere impessoalidade ao texto.
- 4 Embora a forma verbal de gerúndio não seja marcada pela flexão pessoal, o verbo “encarando” (l.7) representa, textualmente, uma ação que tem como agente “Jesus Cristo” (l.6-7).
- 5 A retirada da preposição em “a afirmação de que” (l.10) desrespeita as regras de regência do padrão culto da língua e prejudica a coerência textual.
- 6 São corretas as seguintes sinônimas textuais:
“verdade proferida dos fatos” (l.14): verdade revelada dos fatos;
“deletéria” (l.14): prejudicial;
“sua exclusão” (l.14-15): a própria enfermidade de que o paciente é portador.

- 7 A substituição de “se constituir” (l.23) por **representar** preserva a coerência textual e a correção gramatical porque mantém a concordância com o sujeito da oração, “a verdade conhecida do médico” (l.22-23), e a sinonímia é autorizada pelos dicionários.
- 8 Por constituir uma conseqüência ou uma justificativa para o que é afirmado no período imediatamente anterior, o último período sintático do texto poderia ser iniciado pelos conectivos **Por isso** ou **De sorte que** (seguidos de vírgula e com os devidos ajustes nas letras maiúsculas e minúsculas), sem que fosse prejudicado o desenvolvimento da argumentação.



A figura acima mostra uma janela do Word 2000, com parte de uma reportagem extraída e adaptada da revista **Veja**, de 23/2/2005. Considerando essa figura e o texto nela contido, julgue os itens a seguir.

- 9 A retirada da preposição “até” (l.1) preserva a correção gramatical, mas altera as relações de argumentação do texto.
- 10 Se o termo “ondas eletromagnéticas” (l.2-3) fosse empregado de maneira determinada, definida pelo emprego do artigo, deveria ser precedido de crase porque ocorreria, então, uma contração entre a preposição e o artigo.

- 11 Na situação da figura mostrada, caso se deseje alterar todas as letras da palavra **“Montagnier”** (ℓ.5) para fonte em maiúscula, é indispensável o uso do *mouse*. Não é possível fazer essa ação apenas por meio do teclado.
- 12 O modo verbal empregado em “ocorram” (ℓ.13) e “esteja” (ℓ.18) exprime uma hipótese, uma dúvida, uma concessão, reforçada, respectivamente, pelos conectivos “Ainda que” (ℓ.12) e “mesmo que” (ℓ.17).
- 13 No texto, o advérbio “assim” (ℓ.14) indica o modo como se pode avaliar o risco: pelos “efeitos do estresse oxidativo” (ℓ.12-13).
- 14 Na linha 14, o verbo “há” seria mantido no singular mesmo que “risco” fosse empregado no plural, mas sua substituição pelo verbo **existir** manteria a coerência textual desde que seguisse a flexão de “risco” — no singular ou no plural — para que a correção gramatical fosse preservada.
- 15 Supondo que o ponto de inserção está posicionado no final do documento como mostrado, então, para justificar o alinhamento dos dois parágrafos mostrados, é suficiente realizar o seguinte procedimento: pressionar e manter pressionada a tecla ; clicar sobre o primeiro parágrafo; liberar a tecla ; clicar o botão direito do *mouse* e, na lista disponibilizada, clicar Parágrafo; na janela aberta em decorrência dessa ação, definir alinhamento justificado; clicar OK.
- 16 Na situação da figura mostrada, é correto inferir que a área de transferência não está vazia. Caso se deseje esvaziar a área de transferência, é possível fazê-lo por meio de opção disponibilizada ao se clicar  com o botão direito do *mouse*.
- 17 Para excluir do documento o trecho “É possível (...) mais longe” (ℓ.9-12), é suficiente realizar o seguinte procedimento: pressionar e manter pressionada a tecla ; clicar sobre qualquer palavra do referido trecho; liberar a tecla ; teclar .

O Senado retoma o debate sobre a Convenção-Quadro para o Controle do Tabaco, acordo internacional promovido pela Organização Mundial de Saúde para reduzir a produção e o consumo do tabaco. O assunto reacende na Casa a polêmica entre a área médica e os produtores de fumo no país. O texto da Convenção já foi ratificado pela Câmara dos Deputados. Duas campanhas paralelas se desenrolaram desde que a Convenção foi assinada pelo governo brasileiro e enviada ao Congresso Nacional para ser ratificada. A organização não-governamental Rede Tabaco Zero alia-se ao Instituto Nacional do Câncer para cobrar do Senado a ratificação imediata do acordo, o que, segundo a entidade, abriria caminho para a definição de regras para substituir a produção de fumo por outras culturas, com o auxílio do Banco Mundial. Já a Associação dos Fumicultores do Brasil resiste à ratificação por acreditar que ela provocaria uma imediata fuga de capitais do país em razão da desconfiança dos investidores em um mercado que estaria fadado a acabar.

Jornal do Senado, Ano XI, n.º 2.097/22, 14-20/3/2005, p. 8 (com adaptações).

Tendo o texto acima como referência inicial e considerando a dimensão do tema por ele abordado, julgue os itens seguintes.

- 18 Infere-se do texto que, no Brasil, os acordos, tratados e convenções internacionais dos quais o país é signatário somente ganham eficácia jurídica após a aprovação, por parte do Congresso Nacional, do ato praticado pelo Poder Executivo.
- 19 Tal como acontece no Brasil, nas democracias contemporâneas a atuação dos grupos de pressão sobre os governos e os parlamentos é considerada perniciosa e potencialmente perigosa para a sobrevivência das instituições, razão pela qual tende a ser punida com rigor.
- 20 Enquanto os grupos que defendem a ratificação do documento mencionado no texto sustentam sua posição com base na tese de que o tabaco é prejudicial à saúde, seus adversários lançam mão de argumento de natureza econômica, acenando para os prejuízos que adviriam da extinção dessa lavoura.
- 21 Embora a Convenção-Quadro para o Controle do Tabaco tenha dimensão mundial, sua elaboração não contou com a participação da Organização das Nações Unidas, em face das pressões das grandes potências, normalmente comprometidas com a defesa dos interesses de seus poderosos grupos econômicos.
- 22 Para os fumicultores, a Convenção-Quadro torna-se inaceitável porque, entre outras falhas, propõe a eliminação do cultivo do tabaco sem oferecer apoio técnico e financeiro aos produtores interessados em substituí-lo por outras modalidades de produção agrícola.
- 23 Verifica-se, em várias partes do mundo contemporâneo, a tendência de se restringir a propaganda e a venda de cigarros e o seu uso em recintos fechados, decisão que pretende reduzir o número de mortes atribuídas ao tabagismo, considerado fator importante da ocorrência de câncer, doenças cardiovasculares e outras moléstias graves.

A desnutrição matou 12 crianças indígenas menores de cinco anos de idade, de 1.º de janeiro a 2 de março deste ano, nas aldeias de Mato Grosso do Sul. Em 2004, ocorreram 15 mortes de crianças indígenas causadas pela fome no estado. O número de vítimas pode ser maior, já que a Fundação Nacional de Saúde admite não ter recebido todos os atestados de óbito.

Folha de S. Paulo, 9/3/2005, p. A11 (com adaptações).

Considerando o texto acima e os aspectos relevantes da questão indígena no país, julgue os itens subseqüentes.

- 24 Para muitos especialistas, a Constituição Federal de 1988 cometeu um equívoco, ainda que as intenções tenham sido as melhores, ao praticamente impedir que a União promova a demarcação das terras indígenas.
- 25 O quadro verificado entre as crianças indígenas de Mato Grosso do Sul, em que pneumonia, diarreia e desidratação se unem à desnutrição, não difere substancialmente daquele encontrado em áreas periféricas dos grandes centros urbanos brasileiros, localidades nas quais as exigências de saneamento básico, em larga medida, ainda esperam por solução adequada.
- 26 Conceder a apenas um órgão federal — a FUNAI — a responsabilidade de atuar junto às populações indígenas é um equívoco com resultados funestos, alertam os especialistas, tomando como referência os atuais acontecimentos no Mato Grosso do Sul.
- 27 O CIMI, que é um conselho missionário cristão, é uma das mais conhecidas instituições da sociedade civil que se voltam para a questão indígena, na luta pela proteção moral e material desses povos.

Acerca da Lei n.º 8.080/1990, que regulamenta o Sistema Único de Saúde (SUS), julgue os itens a seguir.

- 28 A iniciativa privada poderá participar do sistema de forma complementar. Empresas privadas formadas com a participação de capital estrangeiro estão excluídas do processo.
- 29 A omissão na referida lei sobre a possibilidade de os municípios estabelecerem consórcios intermunicipais gerou práticas as mais díspares no sistema, o que motivou recente projeto de lei específico sobre o tema.

- 30 Originalmente, a Lei n.º 8.080/1990 não incluiu o subsistema de atendimento e internação hospitalar. Ele foi objeto de nova lei editada apenas no ano de 2002.
- 31 O subsistema de vigilância sanitária é de competência exclusiva da União e suas ações estão concentradas na Agência Nacional de Vigilância Sanitária, de forma similar à saúde suplementar, regulada exclusivamente pela Agência Nacional de Saúde Suplementar (ANS).

Em relação ao Código de Defesa do Consumidor (CDC) — Lei n.º 8.078/1990 —, julgue os próximos itens.

- 32 Tramitam no Supremo Tribunal Federal duas ações de inconstitucionalidade referentes ao CDC. Uma movida pela Federação Nacional de Empresas de Varejo de Alimentos (supermercados) e outra, pela Associação Brasileira de Medicina de Grupo (ABRAMGE).
- 33 Com o propósito da execução da Política Nacional de Relações de Consumo, o poder público deve contar com vários instrumentos, tais como juizados especiais de pequenas causas, delegacias de polícia especializadas, assistência jurídica gratuita para consumidores carentes e promotorias de justiça no âmbito do Ministério Público.
- 34 O CDC não cuida das relações de consumo das empresas estatais e públicas. Essa regulamentação, apesar de similar, está contida no Código de Ética do Servidor Público, também de 1990.
- 35 Os direitos do consumidor incluem a proteção contra a publicidade enganosa e abusiva, contra cláusulas abusivas ou impostas no fornecimento de produtos e serviços.

A respeito da Lei n.º 9.656/1998, que regulamenta a saúde suplementar, julgue os seguintes itens.

- 36 Ao estabelecer disposições para todas as empresas privadas que operam planos de assistência à saúde, essa lei deixou de fora da regulamentação e, portanto, da ação da ANS, uma importante quantidade de planos operados por institutos públicos e destinados basicamente a servidores em diversos estados e municípios do país.
- 37 Nessa lei não está incluída a obrigatoriedade do plano-referência. Essa obrigatoriedade foi objeto de normatização quando da criação da ANS, por meio da RDC 08/2000.

Acerca da Lei n.º 9.961/1990, que cria a ANS, julgue os itens que se seguem.

38 Essa lei autoriza a ANS a proceder intervenção fiscal em operadora de planos de saúde, mas limita a possibilidade de liquidação extrajudicial da operadora, pela própria ANS, ao submeter o pleito à Secretaria do Direito Econômico do Ministério da Fazenda, na forma da lei.

39 A ANS deve ser regida por um contrato de gestão, negociado entre o diretor-presidente da ANS e o Ministro da Saúde. Esse contrato deve ser aprovado pelo Senado Federal, órgão igualmente responsável pela aprovação prévia dos nomes dos dirigentes da ANS, para posterior nomeação por ato do presidente da República.

Considerando a legislação do setor de saúde no Brasil, em especial o capítulo da saúde na Constituição da República e a Lei n.º 8.142/1990, julgue os itens subseqüentes.

40 A Constituição buscou romper, no Brasil, com o tipo de acesso aos serviços públicos de saúde condicionado à situação de trabalho do usuário.

41 Antes da criação do SUS, um cidadão sem carteira de trabalho assinada não tinha acesso a serviços públicos de saúde, exceto em condições de emergência médica.

42 A Lei n.º 8.142/1990 estabelece que o Conselho Nacional de Saúde tem caráter provisório e deve reunir-se para atuar em situações de crise sanitária.

43 Por meio da Lei n.º 8.142/1990, atribuiu-se a condição de *status* público ao CONASS e ao CONASEMS.

44 A representação dos usuários nas conferências de saúde, nos termos da referida lei, é proporcionalmente igual à observada para a composição dos conselhos de saúde.

45 A Lei n.º 8.080/1990 foi elaborada após a Lei n.º 8.142/1990, e produz maior detalhamento de itens relacionados ao modelo de atenção à saúde.

46 A Lei n.º 8.142/1990 cuida dos recursos do Fundo Nacional de Saúde relacionados a despesas de custeio do sistema, mas também inclui as despesas de capital feitas pelo Ministério da Saúde.

47 Quando estabelece a possibilidade de os municípios formarem consórcios para a execução de ações de saúde, a Lei n.º 8.142/1990 não autoriza que para tal sejam remanejadas parcelas de transferências do Ministério da Saúde.

48 Ao estabelecer a saúde como direito de todos e dever do Estado, a Constituição determina, nos artigos de 196 a 200, o fim do modelo de cidadania regulada em termos institucionais.

49 A Constituição, em seu art. 197, declara de relevância pública as ações e serviços de saúde e retira a competência da iniciativa privada na prestação desses serviços.

50 A Constituição determina que as ações e serviços públicos de saúde integrem uma rede hierarquizada e constituam um sistema único de acordo com diretrizes que incluem a participação da comunidade.

51 No art. 200 da Constituição, são estabelecidas as competências do SUS. Essas competências não incluem incrementar em sua área de atuação o desenvolvimento científico e tecnológico.

Ferramenta que devolve *spam* ao emissor já é realidade

Uma nova ferramenta para combater a praga do *spam* foi recentemente desenvolvida. O sistema é capaz de devolver os *e-mails* inconvenientes às pessoas que os enviaram, e está estruturado em torno de uma grande base de dados que contém os números de identificação dos computadores que enviam *spam*. Depois de identificar os endereços de onde procedem, o sistema reenvia o *e-mail* ao remetente.

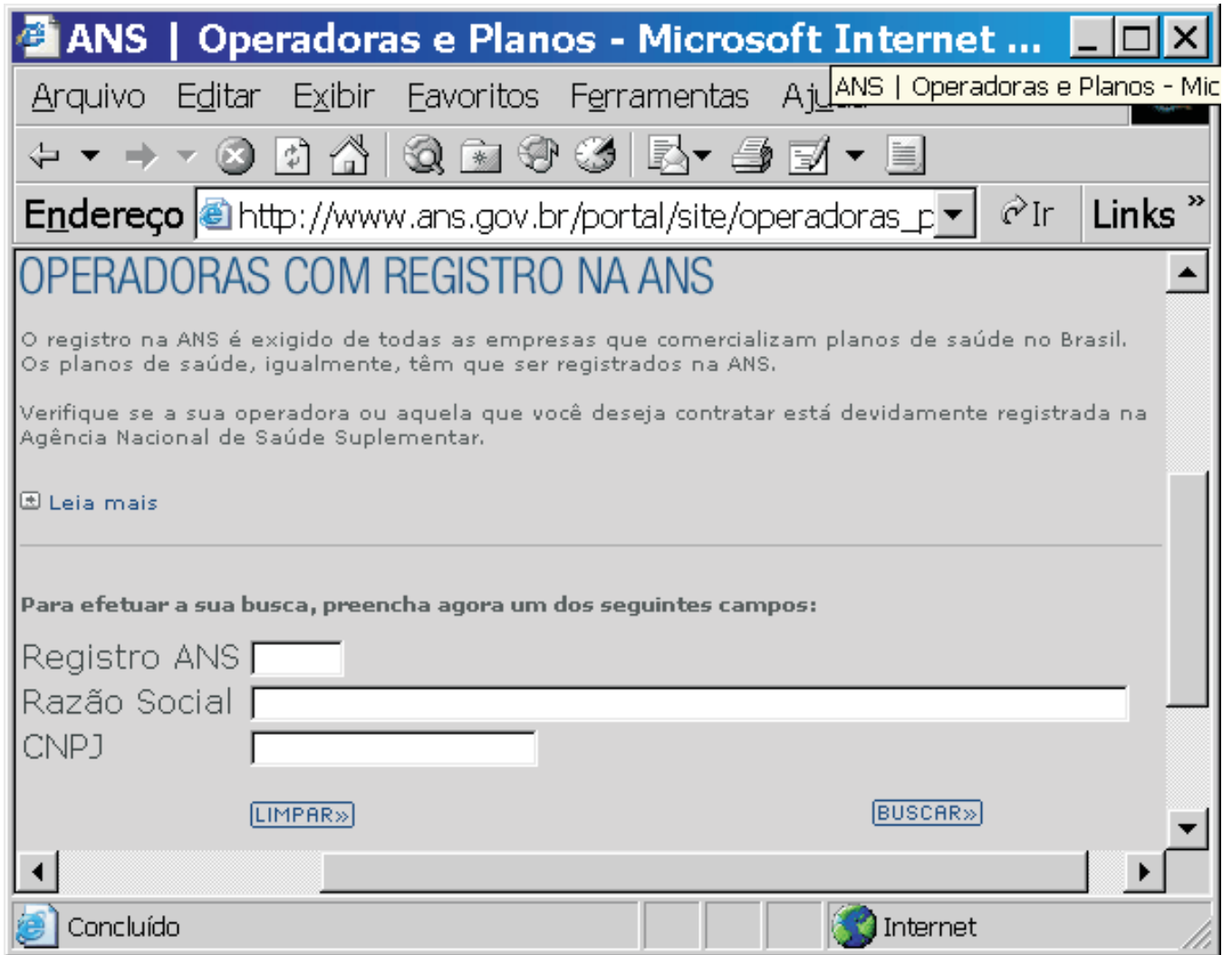
A empresa que desenvolveu o sistema assinalou que essa ferramenta minimiza o risco de ataques de *phishing*, a prática que se refere ao envio maciço de *e-mails* que fingem ser oficiais, normalmente de uma entidade bancária, e que buscam roubar informação como dados relativos a cartões de crédito ou senhas.

Internet: <<http://informatica.terra.com.br>>. Acesso em mar./2005 (com adaptações).

Tendo o texto acima como referência inicial, julgue os próximos itens.

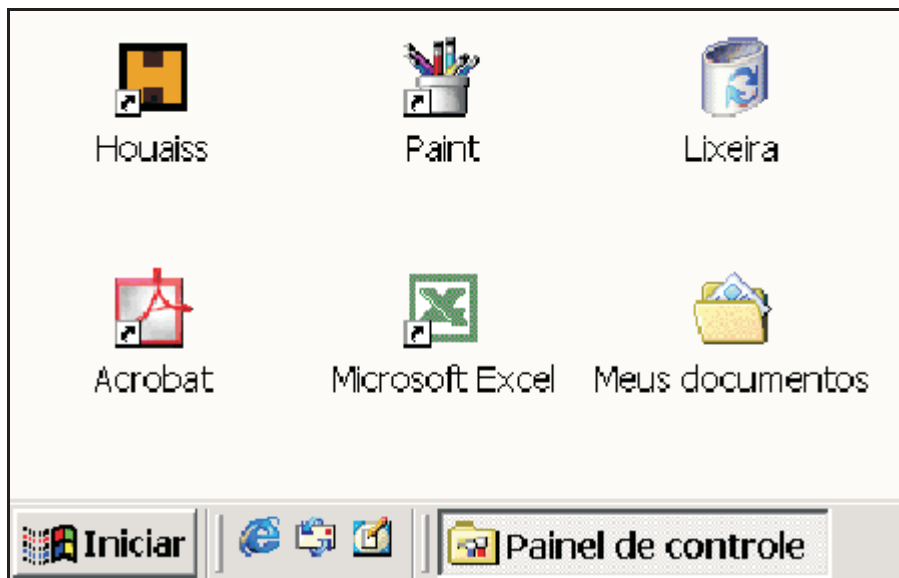
52 O procedimento de combate ao *spam* descrito no texto é semelhante ao que está implementado no Outlook Express 6, desde que o sistema *firewall* intrínseco ao Windows 2000 seja devidamente configurado e ativado.

53 Ataques de um computador por cavalo-de-tróia consistem em exemplos de ataque de *phishing*, mencionado no texto, acarretando o tipo de roubo de informações ali descrito.






Considerando que a janela do Internet Explorer 6 (IE6) ilustrada acima esteja em execução em um computador do tipo PC, cujo sistema operacional é o Windows 2000, julgue os seguintes itens, sabendo que a conexão que permitiu obter a página *web* mostrada foi realizada a partir de uma rede *ethernet* LAN.

- 54 Ao executar a instrução “**preencha agora um dos seguintes campos**”, contida na página *web* mostrada, e acionar os recursos dessa página que permitirão obter dados de registro na ANS referentes a determinada operadora de plano de saúde suplementar, haverá transferência de informação entre cliente e servidor *web*, em que protocolos da família TCP/IP serão utilizados.
- 55 Caso a conexão mencionada tivesse sido realizada a partir de uma rede *dial-up*, certamente taxas de transmissão superiores às obtidas no acesso descrito seriam obtidas, em casos normais de operação.
- 56 É possível que, ao clicar o botão direito do *mouse* sobre a página *web* mostrada, seja disponibilizada lista de opções, entre as quais uma que permite acessar recursos do IE6 para definir a referida página como favorita.






Considerando a figura acima, que mostra parte da área de trabalho do Windows 2000 em um computador PC, julgue os itens que se seguem.

- 57 A partir da figura mostrada, é correto inferir que a pasta associada ao ícone  do Windows está vazia. Nessa situação, para remover essa pasta da área de trabalho do Windows, é suficiente selecioná-la e, a seguir, teclar .
- 58 Por meio de ferramenta encontrada na pasta associada a , é possível personalizar as configurações do *mouse*, como velocidade do clique duplo, ponteiro e a velocidade de movimentação do *mouse*.

	A	B	C
1		regiões	habitantes
2	Pernambuco	83	287.000
3	Rio de Janeiro	70	146.000
4	Minas Gerais	41	198.000
5			631.000

Considerando a figura acima, que ilustra uma planilha do Excel 2000, julgue os próximos itens.

- 59 Considere que a planilha Excel mostrada acima tenha sido criada em um documento Word a partir de funcionalidades do botão . Nesse caso, é correto afirmar que a referida planilha não poderá ser salva diretamente como um arquivo do tipo .xls, mas apenas como uma tabela dentro do documento Word.
- 60 Na situação da planilha Excel mostrada, é correto afirmar que o conteúdo na célula C5 pode ter sido obtido por meio do seguinte procedimento: selecionar as células C2, C3 e C4; teclar ; teclar .

CONHECIMENTOS ESPECÍFICOS

O estudo da contabilidade nacional diz respeito à mensuração dos agregados macroeconômicos. Acerca desse assunto, julgue os itens a seguir.

- 61 As transferências para os municípios, realizadas no âmbito do Sistema Único de Saúde (SUS), por substituírem as despesas privadas com saúde, levam à redução da renda e do produto interno bruto (PIB) municipal.
- 62 Supondo-se que a queda recente do dólar, que reflete as condições atuais da economia brasileira, resulte em uma onda de otimismo, ela pode, no curto prazo, elevar o consumo e contribuir, assim, para a expansão do PIB e da renda.
- 63 O pagamento dos salários dos servidores do Ministério da Saúde, ativos e aposentados, é contabilizado como despesa do governo e, portanto, está incluído no produto interno bruto e na renda pessoal disponível.

O consumo, a poupança e o investimento são variáveis macroeconômicas relevantes. Em relação a essas variáveis, julgue os seguintes itens.

- 64 De acordo com a teoria do consumo, que se baseia na renda permanente, a propensão marginal a consumir a renda corrente é inferior à propensão média a consumir a longo prazo.
- 65 De acordo com a visão keynesiana, a expansão do estoque monetário não altera a demanda agregada porque as taxas de juros caem, o que provoca expansão do investimento planejado, que é compensada pela redução do consumo corrente.
- 66 A redução do imposto de renda (IR) relativo a aplicações de longo prazo, ao corrigir uma distorção que desestimula os poupadores, pode concorrer para o aumento da poupança nacional.

As políticas fiscais e monetárias influenciam, significativamente, o desempenho da economia e afetam a posição das curvas de oferta e de demanda agregada. Com relação a esse assunto, julgue os próximos itens.

- 67 De acordo com a visão clássica, políticas monetárias expansionistas são, no longo prazo, inoperantes porque se traduzem em um nível de preços mais elevado, de forma a garantir o equilíbrio no mercado monetário.
- 68 Constitui um exemplo de política fiscal expansionista a decisão da Receita Federal de aumentar, por medida provisória, o IR e a Contribuição Social sobre o Lucro Líquido (CSLL) para empresas prestadoras de serviços.
- 69 Políticas de orçamento equilibrado, ou seja, aquelas que pressupõem o multiplicador keynesiano igual à unidade, não excluem a possibilidade da existência de *deficits* ou *superavits* fiscais, sendo, pois, compatíveis com a gestão dos ciclos econômicos.
- 70 Considerando que, de acordo com o jornal **Folha de S. Paulo**, de 16/3/2005, pesquisa feita pela Federação do Comércio do Estado de São Paulo (Fecomércio) mostra que o índice de confiança do consumidor (ICC) alcançou 146,4 pontos em março, um recuo de 0,6% em relação ao índice de fevereiro, que foi de 147,3 pontos, é correto afirmar que, em uma escala que varia de 0 a 200, ocorre deslocamento da curva de demanda agregada da economia paulista para cima e para a direita.

A análise da inflação bem como do papel desempenhado pela moeda e pelos mercados de crédito é crucial para o entendimento da realidade econômica. A esse respeito, julgue os itens que se seguem.

- 71 As operações de mercado aberto envolvem variações nos encaixes compulsórios que os bancos comerciais detêm junto ao Banco Central e, portanto, afetam o crescimento do estoque monetário.
- 72 A oferta de moeda, dada pela disponibilidade de ativos financeiros de liquidez imediata, os chamados meios de pagamento, inclui o papel-moeda em poder do público (moeda manual) e os depósitos à vista feitos pelo público nos bancos comerciais (moeda escritural).
- 73 Para os monetaristas, o financiamento de um *deficit* fiscal por meio de endividamento, em virtude da acumulação de juros, pode, no longo prazo, gerar maiores taxas de inflação do que o financiamento via emissão monetária.
- 74 De acordo com a abordagem das expectativas racionais, a taxa de sacrifício exigida para reduzir a inflação é menor que aquelas exigidas pelas estimativas tradicionais, que levam em conta o fato de a inflação esperada depender da inflação passada.

No que se refere aos processos de crescimento e desenvolvimento econômico, julgue os itens a seguir.

- 75 Nos países subdesenvolvidos, baixos níveis educacionais combinados com uma relativa escassez de capital restringem o incremento da produtividade e contribuem, assim, para a redução das possibilidades de crescimento desses países.
- 76 A doutrina estruturalista, tal como desenvolvida por Raul Prebisch, afirmava que, nos países periféricos, as desvantagens do comércio externo, sumariadas nos problemas de balanço de pagamentos e na redução secular dos termos de troca, superam os eventuais benefícios, em termos de eficiência, advindos de uma maior inserção nos mercados internacionais.

A microeconomia estuda o comportamento individual dos agentes econômicos e, por essa razão, constitui um sólido fundamento à análise dos agregados econômicos. Acerca desse assunto, julgue os itens subsequentes.

- 77 Se a queda recente dos preços das passagens aéreas, no Brasil, em determinados horários e em disponibilidade limitada, conduzir à expansão da receita das companhias aéreas, então, será correto concluir que a demanda de bilhetes de avião é inelástica em relação aos preços.
- 78 Os avanços tecnológicos que estão ocorrendo na telefonia celular, por aumentarem a produtividade desse setor, deslocam a curva de oferta para baixo e para a direita e, *ceteris paribus*, contribuem para expandir a oferta e aumentar o preço desses serviços.
- 79 No longo prazo, os níveis de utilidade aumentam porque as curvas de demanda tendem a ser mais elásticas e reduzem, assim, o excedente do consumidor.
- 80 A inclinação da restrição orçamentária, determinada pelos preços relativos dos bens, indica que o gasto total com os diferentes bens não pode exceder a renda real do consumidor.

- 81 Se, para um consumidor, a apreciação recente do real frente ao dólar estadunidense, com a conseqüente redução do preço dos produtos importados dos Estados Unidos da América, não alterar o gasto com esses produtos, então, a elasticidade preço da demanda por esses bens desse indivíduo é unitária.
- 82 Suponha que o setor de distribuição de derivados de petróleo funcione em regime de concorrência monopolista. Então, a maximização dos lucros requer que o preço fixado pelas empresas desse setor seja igual ao custo marginal.
- 83 O ponto de *break even*, para uma firma competitiva, ocorre no nível de produção para o qual o custo marginal é igual ao custo médio.
- 84 Durante a época das festas de Natal e Ano-Novo, quando as empresas, para poderem atender o aumento da demanda típico desse período, contratam mais trabalhadores, estão realizando um ajustamento de longo prazo.
- 85 Nos cinemas de Brasília, a cobrança de ingressos mais baratos nas quartas-feiras reflete o comportamento não competitivo das empresas de cinema da capital e justifica-se pelo fato de as elasticidades preço da demanda por esse serviço serem mais elevadas nos períodos em que a tarifa é reduzida.
- 86 No modelo da curva de demanda quebrada, as empresas oligopolistas se defrontam com uma curva de demanda, que é mais elástica para preços superiores àqueles que prevalecem no mercado e mais inelástica no caso contrário.
- 87 No monopólio, a discriminação de preço, ao separar os consumidores de acordo com diferentes características, permite cobrar mais caro nos mercados cujas elasticidades preços são mais baixas, ocorrendo o contrário nos mercados caracterizados por elasticidades preços mais elevadas, o que permite expandir os lucros monopolistas.

Na fase atual de globalização do espaço econômico, o estudo da economia internacional é crucial para uma inserção adequada no cenário mundial. Tendo como base as noções básicas dessa teoria, julgue os itens a seguir.

- 88 As exportações brasileiras de *software* e serviços de informática são registradas na balança de transações correntes do Brasil como um crédito porque decorrem de venda de serviços.
- 89 No modelo ricardiano das vantagens comparativas, o livre comércio é benéfico somente quando o país que se engaja nas trocas internacionais é suficientemente forte para enfrentar a concorrência externa e possui vantagem absoluta na produção de pelo menos uma mercadoria.
- 90 Em uma economia globalizada, taxas de juros elevadas em um país, *ceteris paribus*, atrairão mais capital estrangeiro, provocando, assim, a apreciação da moeda nacional e a redução das exportações e do PIB.
- 91 O Fundo Monetário Internacional permite que as nações menos avançadas possam financiar o seu desenvolvimento econômico por meio do acesso a empréstimos de longo prazo, contraídos a taxas de juros inferiores àquelas praticadas pelo sistema bancário privado.

O estudo da economia brasileira, incluindo-se aí o fenômeno inflacionário que a caracterizou durante um longo período, é importante para a compreensão da situação econômica atual. Com relação a esse assunto, julgue os itens subseqüentes.

- 92 No final dos anos 70 do século XX, a aceleração das pressões inflacionárias resultou, em parte, do aumento dos preços públicos, da desvalorização cambial e da indexação salarial, realizados no âmbito da heterodoxia delphiniana.
- 93 Em relação ao endividamento externo, na década de 90 do século passado, predominavam as captações privadas. Somente no final dessa década começou a haver uma reversão dessa tendência, com a ampliação da participação do setor público na dívida externa total.
- 94 No período do milagre econômico — 1968 até 1973 —, as taxas de crescimento da agricultura, bem como aquelas do setor de bens não-duráveis, ficaram bem atrás das de outros setores, como a da construção civil e a da indústria de bens de consumo duráveis as quais, juntamente com a expansão do investimento das empresas estatais, constituíram as principais fontes de crescimento durante esse período.

Com base nos conceitos básicos da matemática financeira e da administração financeira, julgue os itens seguintes.

- 95 Nas aplicações da caderneta de poupança no Brasil, tanto a taxa de juros nominal como a taxa de juros efetiva equivalem a 6% ao ano.
- 96 Um empréstimo de R\$ 1.500,00, contraído à taxa de 12% ao ano, equivale, três anos depois, a uma dívida superior a R\$ 2.100,00.
- 97 Considere três opções de pagamento de um bem: (a) à vista com 3% de desconto; (b) sem desconto, em duas prestações mensais iguais, vencendo a primeira após 30 dias; (c) em três prestações mensais iguais, sem desconto, vencendo a primeira no ato da compra. Nesse caso, se o custo do dinheiro for de 2,5% ao mês, a melhor alternativa de pagamento é a opção (c).
- 98 No regime de juros compostos, à taxa i , um principal C_0 transforma-se, após n períodos de tempo, em um montante C_n , em que $\frac{C_n}{C_0} = (1+i)^n$.
- 99 O valor atual A de uma série uniforme de n pagamentos iguais a P , sendo i a taxa de juros, é tal que $A = P[(1 - (1+i)^{-n})/i]$.
- 100 Na análise do fluxo de caixa, as informações do volume de compras e vendas encontram-se sob o regime de competência porque baseiam-se nos valores de notas com datas dos fatos geradores e, por essa razão, é necessário efetuar o ajuste para o regime de caixa, identificando o volume financeiro da movimentação de caixa a cada período de interesse.
- 101 Na administração do capital de giro, uma estratégia agressiva seria aquela em que todas as necessidades financeiras da empresa — tanto as permanentes, quanto as sazonais — seriam financiadas por meio da utilização de recursos permanentes, de longo prazo.
- 102 O ponto de equilíbrio operacional corresponde ao volume de operações da empresa em que a receita total se iguala ao custo variável.

Com base em tópicos relacionados à análise de projetos, julgue os itens que se seguem.

- 103 O método da taxa de retorno incremental (TRI) permite comparar alternativas excludentes que possuem investimentos iniciais diferentes. Nesse sentido, constitui uma variante do método da taxa interna de retorno (TIR).
- 104 Comparando-se dois investimentos, pelo critério do valor presente líquido (VPL), o melhor investimento será aquele para o qual a diferença entre o valor do fluxo de caixa esperado e o investimento for superior à unidade e apresente maior VPL positivo.
- 105 A técnica de capitalização infinita, que permite tratar a questão de projetos com vidas úteis diferentes no método do valor atual (VA), considera que o custo anual uniforme (CAU) encontrado será uma série uniforme que se repetirá perpetuamente de maneira idêntica, não necessitando, pois, ser atualizada.

Acerca das especificidades da contabilidade gerencial, julgue os itens seguintes.

- 106 O preço de transferência representa o valor monetário cobrado, pelo departamento fornecedor, por produto ou serviço disponibilizado a outro departamento de uma mesma empresa. Assim, ao transferir um produto semi-elaborado ao departamento de acabamento, o preço de transferência fará parte da composição do custo final do produto acabado.
- 107 O ponto de equilíbrio contábil não proporciona uma análise exata da necessidade de produção para arcar com os gastos empresariais. Ao considerar que os custos e as receitas são ajustados para retas, no intervalo de significância, o ponto de lucro máximo estaria vinculado ao ponto de venda máxima, o que não ocorre, necessariamente, nas situações reais.
- 108 A utilização da análise custo *versus* volume *versus* lucro como referência para a tomada de decisões contraria a confrontação entre a receita e a despesa do período. Esse fato ocorre porque, ao adotar o custeio variável, todo o saldo do custo indireto de fabricação será alocado ao resultado, independentemente da venda do produto.
- 109 A utilização do custeio por absorção, para a elaboração do ponto de equilíbrio contábil, despreza a influência da variação de preços dos insumos consumidos e do produto final. Dessa maneira, ao apurar o ponto de equilíbrio contábil, a empresa estará representando um valor aproximado, o que poderá provocar decisões equivocadas.

A utilização de orçamento empresarial proporciona a verificação do desempenho dos gestores. Com relação a esse assunto, julgue os itens que se seguem.

- 110 Ao utilizar o orçamento estático, o gestor considera que a estrutura de custos e o valor monetário dos custos poderão ser alterados ao longo do período analisado.
- 111 Ao elaborar o orçamento, é necessário verificar quais são os custos que adicionam valor. É fundamental essa análise, porque ao excluir custos que adicionam valor, o produto poderá ser vendido por um preço menor.
- 112 Ao elaborar o orçamento e estabelecer a quantidade a ser vendida, em função de análise de séries temporais, há a determinação da quantidade padrão. Ao constatar que a quantidade padrão é facilmente alcançada, o gestor conseguirá mensurar a variação de desempenho obtida.

Com relação à administração financeira, julgue os itens subsequentes.

- 113 A apuração das necessidades de investimento em capital de giro é obtida ao subtrair o valor do ativo circulante operacional do valor do passivo exigível em longo prazo.
- 114 O fluxo de caixa operacional não proporciona ao gestor informações acerca do estabelecimento periódico dos valores máximos de amortizações de dívidas. Esta informação é obtida no fluxo de caixa de investimentos.
- 115 No caso de indústrias, o cálculo de necessidades de investimento em capital de giro leva em consideração o consumo de matéria-prima.
- 116 Quando a empresa registra uma expansão no volume de atividades com o lastro de recursos disponíveis para financiamento das necessidades de capital de giro, diz-se que houve um *overtrading*.
- 117 O modelo de *Baumon* é aplicado na administração do caixa quando as entradas de caixa são constantes e as saídas, periódicas.

Julgue os itens a seguir, referentes aos principais tributos e sua importância no contexto empresarial.

- 118 O imposto sobre circulação de mercadorias e serviços incide sobre a margem bruta de vendas.
- 119 A apuração do imposto de renda de pessoa jurídica incide sobre o lucro operacional e a sua contrapartida credora é o ativo circulante, no caso de postergação de pagamento.
- 120 O imposto sobre produtos industrializados é irrecuperável, exceto quando o consumidor final adquire o produto direto da fábrica, que será a responsável pelo pagamento do tributo.

RASCUNHO

PROVA DISCURSIVA

- Nesta prova — que vale **dez** pontos —, faça o que se pede, usando o espaço indicado no presente caderno para rascunho. Em seguida, transcreva o texto para a folha de **TEXTO DEFINITIVO** da prova discursiva, no local apropriado, pois **não serão avaliados fragmentos de texto escritos em locais indevidos**.
- Qualquer fragmento de texto além da extensão máxima de **trinta** linhas será desconsiderado.
- Na folha de **texto definitivo**, identifique-se apenas na capa, pois **não será avaliado** texto que tenha qualquer assinatura ou marca identificadora fora do local apropriado.

Istoé – Por que é tão difícil cuidar da saúde?

Dráusio Varella – Somos ótimos planejadores a curto prazo. Mas e pensar como estará o corpo daqui a cinco anos? Nós não sabemos fazer isso porque isso não foi essencial para nossa sobrevivência. A humanidade tem cinco milhões de anos. O que adiantava pensar dali a cinco anos? O cara tinha de pensar no almoço dele. As preocupações eram imediatas.

Istoé, 2/3/2005 (com adaptações).

Crianças indígenas estão morrendo menos. Segundo a Fundação Nacional da Saúde (FUNASA), em 1999, de cada mil crianças nascidas, 112 morriam antes de completar um ano. Hoje, a média nacional é de 46 óbitos para cada mil nascimentos. Investimentos em unidades de saúde, em saneamento básico e em ações como a distribuição de medicamentos nas aldeias estão ajudando a reduzir esse índice.

Istoé, 12/1/2005 (com adaptações).

O virologista francês Luc Montagnier é um homem gentil, do tipo conciliador. Na carreira, porém, pula de polêmica em polêmica. Recentemente, voltou à arena: publicou artigo no jornal Le Monde em que afirma estar convencido, apesar da falta de evidências definitivas, de que a poluição, os alimentos industrializados e os produtos químicos são, sim, prováveis causadores de doenças crônicas como o câncer.

Veja, 23/2/2005 (com adaptações).

Saiu nos jornais: finalmente a Justiça brasileira concedeu a um rapaz o direito de receber uma indenização do estado de São Paulo por ter sido equivocadamente submetido a um tratamento de choque em um hospital psiquiátrico, tendo ficado com graves seqüelas.

André Petry. **O país do desamparo**. Veja, 16/2/2005 (com adaptações).

O programa de imunização brasileiro é considerado um dos melhores do mundo. Com um investimento modesto em relação ao benefício apresentado, o país erradicou a poliomielite e a varíola e diminuiu drasticamente os casos de difteria e rubéola. Além das 11 vacinas encontradas na rede pública, existem outras que, por motivos econômicos, são distribuídas gratuitamente apenas para pacientes com necessidades especiais. Doenças como catapora, meningite ou pneumonia, por exemplo, podem ser evitadas com imunizações encontradas em clínicas particulares.

Época, 28/3/2005 (com adaptações).

Considerando que os textos acima têm caráter unicamente motivador, redija um texto dissertativo/argumentativo desenvolvendo o seguinte tema.

Saúde: uma questão individual e(ou) coletiva.

RASCUNHO

1	
2	
3	
4	
5	
6	
7	
8	
9	
10	
11	
12	
13	
14	
15	
16	
17	
18	
19	
20	
21	
22	
23	
24	
25	
26	
27	
28	
29	
30	