

FUNASA



Ministério da Saúde
Fundação Nacional de Saúde



CADERNO DE QUESTÕES

NÍVEL SUPERIOR

ECONOMIA

Ministério
da Saúde



Realização:



LÍNGUA PORTUGUESA

VENENOS LEGALIZADOS

O Globo, 24-01-2010

Cientistas organizam uma lista de alerta sobre agrotóxicos tolerados pela lei brasileira, mas que representam uma ameaça à saúde. O Brasil é o maior consumidor de agrotóxicos do mundo e enfrenta problema crônico de contaminação. Ainda em seu início, a lista já inclui 27 substâncias, cuja venda é permitida, mas sobre as quais há suspeitas de causar desequilíbrios hormonais, com danos que vão de obesidade e depressão à redução da fertilidade masculina.

Os estudos serão apresentados ao Ministério da Saúde, responsável por determinar restrições ao uso de agrotóxicos. As substâncias analisadas levam muito tempo para serem eliminadas do meio ambiente. Por isso, são contaminantes perigosos. O contato inicial acontece nas zonas de produção agropecuária e chega às cidades através do consumo de produtos com traços dos compostos.

O grupo de pesquisa – que reúne universidades como UFRJ, Unicamp e USP, além de três sociedades científicas – diz combater uma tendência histórica do governo de só controlar substâncias após outros países tomarem a iniciativa.

01. A frase “Ainda em seu início, a lista já inclui 27 substâncias...” permite um conjunto de inferências. A frase abaixo que mostra uma inferência **CORRETA** do que é veiculado pela frase destacada é:
- a indicação das substâncias já foi completada.
 - a lista vai incluir muitas outras substâncias prejudiciais.
 - os cientistas estão montando a lista de forma apressada.
 - no início da tarefa, os cientistas encontraram dificuldades.
 - os cientistas, no início do trabalho, já limitaram o número de substâncias.
02. “Cientistas organizam uma lista de alerta sobre agrotóxicos...”; a forma de reescrever-se essa frase de modo que possua o mesmo significado e seja expressa segundo a norma culta da língua portuguesa é:
- Uma lista de alerta sobre agrotóxicos foi organizada por cientistas.
 - Uma lista sobre agrotóxicos fez um alerta organizado pelos cientistas.
 - Cientistas, de forma organizada, alertaram a população sobre agrotóxicos.
 - Organizou-se uma lista pelos cientistas que alerta para o uso de agrotóxicos.
 - Cientistas especialistas em agrotóxicos alertaram a população sobre o perigo dos agrotóxicos.
03. Ao dizer que os agrotóxicos são “tolerados” pela lei brasileira, o autor da reportagem quer dizer que, no Brasil, os agrotóxicos:
- são empregados de forma ilegal.
 - não são fiscalizados, apesar de proibidos.
 - são usados, apesar dos males que podem provocar.
 - são reconhecidos como prejudiciais e, por isso, recusados.
 - só são aceitos porque as leis brasileiras não são cumpridas.
04. Ao dizer que “O Brasil é o maior consumidor de agrotóxicos do mundo”, o jornalista, no contexto em que essa afirmação se insere, quer dizer que:
- o problema de contaminação é muito maior entre nós.
 - a agricultura brasileira está em franco aumento de produção.
 - a agricultura brasileira está empregando uma tecnologia de ponta.
 - o Brasil tem altos preços agrícolas, em função dos altos gastos com agrotóxicos.
 - os produtos agrícolas brasileiros são merecedores de confiança por parte dos consumidores.
05. A tese basicamente defendida pela reportagem é a de que:
- as leis brasileiras em relação aos agrotóxicos não devem ser modificadas.
 - as doenças hormonais são provocadas pelo uso de agrotóxicos.
 - os agrotóxicos devem ter sua utilização proibida pelo governo.
 - o Brasil deve importar progressivamente menos agrotóxicos.
 - a agricultura brasileira devia ser basicamente orgânica.
06. Um dos argumentos empregados no primeiro parágrafo do texto para a crítica aos agrotóxicos é o de que:
- provocam trabalho de descontaminação dos alimentos.
 - causam trabalho desnecessário aos cientistas.
 - aumentam nossos gastos com importação.
 - contribuem para o aumento da natalidade.
 - provocam doenças de vários tipos.
07. A alternativa que **NÃO** apresenta a mesma estrutura gramatical que as demais é:
- desequilíbrios hormonais
 - fertilidade masculina
 - tendência histórica
 - maior consumidor
 - lei brasileira
08. Entre as alternativas abaixo, aquela que traz uma incoerência semântica na junção de seus componentes é:
- consumidor de agrotóxicos
 - agrotóxicos tolerados
 - venenos legalizados
 - problema crônico
 - lista de alerta
09. Ao pretenderem entregar os estudos realizados ao Ministério da Saúde, os cientistas pretendem certamente:
- promover uma modificação legal em relação aos agrotóxicos.
 - criticar a ação governamental no tocante ao uso de agrotóxicos.
 - mostrar a falta de ação por parte do Ministério da Saúde.
 - divulgar os conhecimentos novos sobre os agrotóxicos.
 - incentivar o aumento da produção agrícola.

10. Com a forma verbal grifada em “Os estudos **serão apresentados** ao Ministério da Saúde...”, o autor do texto pretende dizer ao leitor que os estudos referidos:
- deverão ser publicados e discutidos em congressos futuramente.
 - serão apresentados futuramente, ainda que sem data certa.
 - em futuro bem próximo, os estudos serão apresentados.
 - serão obrigatoriamente apresentados às autoridades.
 - serão apresentados em um ato oficial.
11. A frase “Os estudos serão apresentados ao Ministério da Saúde” equivale semanticamente a:
- O Ministério da Saúde apresentará os estudos.
 - Apresentar-se-ão os estudos ao Ministério da Saúde.
 - Ao Ministério da Saúde cabe apresentar os estudos.
 - Por meio dos estudos, o Ministério da Saúde será informado.
 - O Ministério da Saúde será o encarregado de apresentar os estudos.
12. Na publicação, a reportagem cujo texto serve de base para as questões desta prova é acompanhada por um conjunto de ilustrações, que são legendadas com comentários. O comentário abaixo que **NÃO** está coerente com o teor do texto lido é:
- Contaminado por compostos que demoram a se degradar, o pasto é ingerido pelo gado.
 - Os poluentes seguem o lençol freático até o rio, onde contaminam a vida marinha e o homem.
 - Ao comer carne bovina, o homem entra em contato com moléculas presentes em agrotóxicos.
 - A água contaminada por agrotóxicos pode ser captada por poços. Depois dessa etapa, servirá ao consumo impróprio do homem.
 - O pesticida é aplicado no solo por agricultores, mesmo contrariando orientação do Ministério da Saúde, e determinadas substâncias são levadas pela chuva até o lençol freático.
13. “As substâncias analisadas levam muito tempo para serem eliminadas do meio ambiente. Por isso, são contaminantes perigosos.” Segundo esse segmento, o perigo das substâncias analisadas relaciona-se com:
- o demorado tempo levado para a análise dessas substâncias.
 - o reduzido tempo de atuação dessas substâncias.
 - a fraqueza defensiva do meio ambiente.
 - a lenta degradação dessas substâncias.
 - a grande intensidade de seus efeitos.
14. A alternativa em que o conector em destaque tem seu sentido corretamente indicado é:
- “**Por** isso, são contaminantes perigosos.” = meio.
 - “... e chegam às cidades **através do** consumo de produtos...” = lugar.
 - “... de só controlar substâncias **após** outros países tomarem a iniciativa.” = condição.
 - “As substâncias levam muito tempo **para** serem eliminadas do meio ambiente.” = direção.
 - “Cientistas organizam uma lista de alerta **sobre** agrotóxicos tolerados pela lei brasileira...” = assunto.
15. “Ainda em seu início, a lista **já** inclui 27 substâncias...”; a frase abaixo em que o termo **JÁ** apresenta o mesmo valor que mostra nessa frase em que aparece em negrito é:
- Já agora as leis não precisam mais de alterações.
 - Alguns agrotóxicos já foram proibidos no Brasil.
 - Mudanças devem já ser realizadas.
 - As novas leis devem mudar já.
 - Modificações serão feitas já!
16. A produção **agropecuária** se refere somente à produção de:
- cereais e carne.
 - cereais, frutas e legumes.
 - carne e derivados do leite.
 - produtos agrícolas e animais.
 - carne, frutas e derivados do leite.
17. O último parágrafo do texto critica no governo:
- a falta de ousadia
 - o descaso com a saúde
 - o desconhecimento da matéria
 - o excesso de preocupação política
 - a prioridade da educação sobre a saúde
18. A indicação das universidades e sociedades que realizaram o estudo transmite a essas pesquisas:
- urgência e precisão
 - credibilidade e urgência
 - seriedade e credibilidade
 - precisão e exibicionismo
 - exibicionismo e seriedade
19. Ao dizer que a tendência de o governo só controlar substâncias após outros países tomarem a iniciativa é “histórica”, o autor do texto quer dizer que essa tendência é:
- digna do maior respeito e admiração.
 - demonstrativa de nosso atraso científico.
 - denunciada pelos jornais há muito tempo.
 - habitual e constante nas posições do governo.
 - sempre fez parte das heranças lusas deixadas em nossa terra.
20. “... através do consumo de produtos com **traços** dos compostos”; o termo destacado equivale semanticamente a:
- característica determinante
 - ato ou efeito de traçar
 - quantidade mínima
 - imagem impressa
 - aquilo que restou

INFORMÁTICA BÁSICA

21. Ao se empregar um microcomputador, no que tange aos componentes de “hardware”, observa-se que os dispositivos de entrada e saída de dados são conectados ao gabinete por meio de interfaces específicas. Assim, mouses ópticos e impressoras utilizam conectores, cujas sigla e imagem estão indicadas na seguinte alternativa:

A) USB e



B) USB e



C) RJ45 e



D) PS/2 e



E) PS/2 e



22. A figura abaixo ilustra um microcomputador, especificado como *Computador Intel Core 2 Duo 2.66Ghz 4GB 500GB + LCD 20" Wide LG*.



A citação “4GB 500 GB” faz referência às capacidades de armazenamento, respectivamente, dos seguintes dispositivos:

- A) MEMÓRIA CACHE E CD/RW
 B) MEMÓRIA ROM E PENDRIVE
 C) MEMÓRIA VIRTUAL E DVD-R
 D) MEMÓRIA RAM E FLOPPY DISK
 E) MEMÓRIA DDR E DISCO RÍGIDO
23. Usuários dos sistemas operacionais *Windows 98/XP/Vista/7* acessam a interface gráfica do *Windows Explorer* para visualização, na tela, dos detalhes de dispositivos de armazenamento de dados, como pastas e arquivos armazenados nos discos rígidos e *pendrives*, por exemplo. Para fechar a interface gráfica, eles devem teclar no X existente no canto superior direito da janela ou executar um atalho de teclado que corresponde a pressionar, simultaneamente, as seguintes teclas:
- A) Alt e F2
 B) Alt e F4
 C) Alt e F7
 D) Ctrl e F2
 E) Ctrl e F4
24. Sistemas operacionais da linha *Windows* disponibilizam uma ferramenta de desenho que pode ser utilizada para criar desenhos em preto e branco ou coloridos, os quais um usuário pode salvar como arquivos em formato de *bitmap*. Este usuário também pode usar a ferramenta para enviar seu desenho em email, definir a imagem como um plano de fundo de área de trabalho e salvar arquivos de imagem usando outros formatos. Essa ferramenta é denominada:
- A) Pagemaker
 B) Design
 C) Draw
 D) Web
 E) Paint

25. No MS Office Word 2007 BR, a Barra de Menus passou a ser chamada de Faixa de Opções, que faz parte da interface, tendo sido projetada para ajudar a localizar rapidamente os comandos necessários à conclusão de uma tarefa. Os comandos são organizados em grupos lógicos reunidos em guias. Nesse contexto, observe as figuras I e II abaixo, referentes a recursos existentes no MS Office Word 2007 BR.

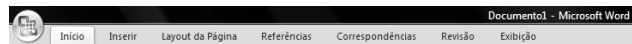


figura I

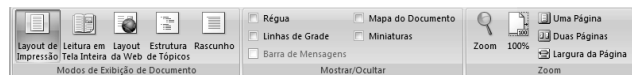


figura II

Para se ter acesso às opções de *Layout de Impressão*, *Régua* e *Zoom*, mostrados na figura II, deve-se acionar, na figura I, a seguinte opção:

- A) Início
- B) Revisão
- C) Exibição
- D) Referências
- E) Layout da Página

26. Um funcionário da FUNASA criou no Excel 2003 BR a

	A
1	17
2	20
3	34
4	49
5	
6	???
7	20

planilha. Inseriu em A6 a fórmula

=MOD(MÉDIA (A1:A4);7) e, em A7, a função para determinar o segundo menor número dentre todos os mostrados de A1 a A4. O valor mostrado em A6 e a função inserida em A7 são:

- A) 1 e =MÍNIMO(A1:A4)
- B) 1 e =MENOR(A1:A4)
- C) 2 e =MENOR(A1:A4;2)
- D) 2 e =MÍNIMO(A1:A4;2)
- E) 3 e =MENOR(A1:A4;2)

27. Na planilha abaixo, elaborada no Excel 2007 BR, o campo SITUACÃO é inserido a partir de uma fórmula aplicada sobre os valores das células QUANTIDADE MÍNIMA e QUANTIDADE EXISTENTE. A situação do estoque é considerada Suficiente quando a QUANTIDADE EXISTENTE é maior ou igual à QUANTIDADE MÍNIMA.


FUNASA - CONTROLE DE VACINAS - 2010					
CÓDIGO	TIPO	UNIDADE	QUANTIDADE		SITUAÇÃO
			MÍNIMA	EXISTENTE	
F985320	Poliomielite	um	13	11	Repor
F638731	Sarampo	um	8	17	Suficiente
F950387	Gripe	um	18	3	Repor

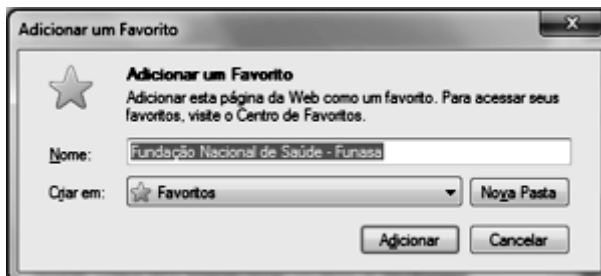
A fórmula a ser inserida na célula G7 é:

- A) =SE(F7<E7;"Repor";"Suficiente")
- B) =SE(F7>E7;"Suficiente";"Repor")
- C) =SE(F7<=E7;" Suficiente";"Repor")
- D) =SE(F7<E7 ENTÃO " Suficiente" SENÃO "Repor")
- E) =SE(F7>=E7 ENTÃO "Repor" SENÃO " Suficiente")

28. O pacote MS Office 2007 BR integra diversos programas, cada um com suas funcionalidades. O POWERPOINT, incluído nesse pacote, permite a geração de:

- A) logomarcas em formato CDR e apresentações em PPT
- B) documentos em PDF e logomarcas em formato CDR
- C) planilhas em formato XLSX e documentos em PDF
- D) apresentações em formato PPT e figuras em JPG
- E) figuras em JPG e planilhas em formato XLSX

29. Ao empregar o  Internet Explorer 8 em português, como browser para navegação na Internet, um usuário pode utilizar ícones ou atalhos de teclado. Desse modo, esse usuário pode utilizar um atalho de teclado que possibilita adicionar a página corrente a favoritos, conforme exemplificado por meio do site <http://www.funasa.gov.br/internet/index.asp>, na figura abaixo.



Para exibir essa figura, deve-se pressionar simultaneamente as teclas Ctrl e:

- A) A
- B) D
- C) F
- D) K
- E) W

30. Na utilização do Outlook Express como software de correio eletrônico, para imprimir uma mensagem recebida, um usuário

deve acessar a Caixa de Entrada e clicar no ícone .

Como alternativa, ele pode também acionar a opção **Imprimir**, na janela "pop-up" do menu **Arquivo**, ou executar o seguinte atalho de teclado:

- A) <Alt> + I
- B) <Alt> + P
- C) <Ctrl> + I
- D) <Ctrl> + P
- E) <Shift> + P

LEGISLAÇÃO

31. Legislar sobre populações indígenas é competência da seguinte natureza e ente:
- concorrente – União / Estados / Distrito Federal
 - comum – Estados / Municípios
 - exclusiva – Congresso Nacional
 - comum – União / Estados
 - privativa – União
32. Autorizar a exploração e o aproveitamento de recursos hídricos em terras indígenas, ouvidas as comunidades afetadas, é competência da seguinte natureza / ente:
- privativa / FUNASA
 - exclusiva / Congresso Nacional
 - exclusiva / Presidência da República
 - comum / Presidência da República e FUNASA
 - concorrente / Presidência da República e Congresso Nacional
33. Decreto de iniciativa privativa do Presidente da República, após avaliação da FUNASA, removeu grupo indígena de sua terra. Este ato é classificado como:
- permissionário revogável
 - concessionário extinto
 - legislativo inválido
 - negocial legítimo
 - normativo nulo
34. Segundo a legislação federal, o direito de a Administração anular os atos administrativos que gerem efeitos favoráveis para os destinatários decairá no seguinte prazo, em anos:
- 20
 - 15
 - 10
 - 5
 - 2
35. A pena de advertência é a primeira medida a ser aplicada diante da seguinte conduta de violação funcional:
- manter sob sua chefia imediata parente até o segundo grau
 - revelar segredo obtido em razão do cargo
 - acumular cargo público ilegalmente
 - cometer incontinência pública
 - abandonar o cargo
36. Dentre as graves condutas geradoras de demissão do servidor público, aquela que apenas o incompatibiliza para nova investidura em cargo público federal pelo prazo de cinco anos é:
- praticar ato considerado como improbidade administrativa
 - aplicar dinheiro público de forma irregular
 - valer-se do cargo em proveito pessoal
 - causar lesão aos cofres públicos
 - participar de corrupção
37. O financiamento, com recursos próprios, do subsistema de atenção à saúde indígena, sem prejuízo de custeio complementar voluntário, compete:
- ao Município
 - à FUNASA
 - à FUNAI
 - à União
 - ao Estado
38. No que tange à execução dos serviços de atenção à saúde do índio, o órgão responsável pela apreciação da prestação de contas das instituições envolvidas é:
- Conselho Distrital de Saúde Indígena
 - Distrito Sanitário Especial
 - Conselho Local de Saúde
 - Casa do Índio
 - FUNAI
39. NÃO figura como atribuição das Casas de Saúde Indígena, a seguinte atividade:
- providenciar o retorno do paciente à comunidade
 - realizar atendimento cirúrgico de emergência
 - alimentar paciente e acompanhante
 - prestar assistência de enfermagem
 - marcar exame complementar
40. Os Conselhos Distritais de Saúde são instâncias de controle social que contam com a participação de usuários e organizações governamentais no seguinte percentual, respectivamente:
- 30 – 70
 - 40 – 60
 - 50 – 50
 - 60 – 40
 - 70 – 30

CONHECIMENTOS ESPECÍFICOS

41. Observe as seguintes informações, em unidades monetárias, de uma determinada economia hipotética, aberta e com governo, num determinado período de tempo:
- ♦ consumo autônomo: 120
 - ♦ investimento agregado autônomo: 100
 - ♦ gastos do governo: 130
 - ♦ exportações autônomas: 60
 - ♦ importações autônomas: 30
- Considere ainda que $t = m = 0$, onde t é a propensão marginal a tributar e m é a propensão marginal a importar. Caso a propensão marginal a poupar seja igual a 0,2, a renda de equilíbrio equivalerá a:
- 350
 - 440
 - 475
 - 1.750
 - 1.900

42. As políticas monetária e fiscal representam instrumentos de atuação do governo, com o objetivo de permitir que a economia opere a pleno emprego, com baixas taxas de inflação e com uma distribuição de renda justa. Neste sentido, se o objetivo principal do governo fosse o controle da inflação, a medida apropriada seria:
- fixar a taxa de câmbio
 - diminuir o estoque monetário
 - aumentar os gastos do governo
 - eleva as tarifas de importações
 - ampliar a política de incentivo às exportações
43. Considere os seguintes dados em bilhões de reais de uma economia hipotética, aberta e com governo.
- ♦ impostos diretos = 80
 - ♦ impostos indiretos = 90
 - ♦ renda interna bruta, a custo de fatores = 800
 - ♦ transferências do governo às famílias = 10
 - ♦ subsídios do governo às empresas privadas = 7
 - ♦ depreciação dos ativos fixos = 27
 - ♦ renda enviada ao exterior = 5
 - ♦ renda recebida do exterior = 2
- Com base nessas informações, o valor do Produto Nacional Líquido a preços de mercado equivale a:
- 853
 - 870
 - 887
 - 890
 - 919
44. Uma economia fechada e com governo possui produto agregado = 1800; consumo agregado = $200 + 0,7Y$; e investimento agregado = 300. De acordo com o modelo keynesiano simplificado e para que as autoridades econômicas obtenham um aumento de 10% no produto agregado, o percentual de aumento necessário nos gastos do governo é de:
- 10%
 - 25%
 - 50%
 - 100%
 - 135%
45. De acordo com os conceitos de demanda de mercado, a procura de um bem qualquer é determinada, entre outros fatores, pelo preço deste bem, pela renda do consumidor e pelos preços de outros bens. Existindo uma relação direta entre o preço de um bem X e a quantidade de outro bem Y, mantendo-se constantes as demais variáveis, os bens X e Y são classificados como:
- normais
 - inferiores
 - de Giffen
 - substitutos
 - complementares
46. De acordo com a teoria microeconômica da lei da oferta, uma redução no preço de um determinado bem, admitindo-se que as demais variáveis permaneçam constantes, acarretará a seguinte consequência para esse bem:
- aumento da quantidade ofertada
 - aumento dos preços de produção
 - redução da quantidade ofertada
 - deslocamento da curva de oferta para a direita
 - deslocamento da curva de oferta para a esquerda
47. Uma determinada empresa que atua no mercado de concorrência perfeita possui um custo total igual a $6q^2 + 12q + 6$, onde "q" representa a quantidade vendida do seu produto. Sabendo que o preço de venda equivale a 72, o lucro máximo que esta empresa poderá obter é igual a:
- 144
 - 120
 - 112
 - 98
 - 78
48. No Balanço de Pagamentos, a conta na qual são contabilizados os créditos comerciais, empréstimos e financiamentos, além das disponibilidades em moedas e depósitos, é denominada:
- serviços e rendas
 - capital e financeira
 - outros investimentos
 - participação no capital
 - transferências unilaterais correntes
49. O processo de abertura comercial intensificou-se durante o governo Fernando Henrique Cardoso. A falta de competitividade da indústria nacional tornou-se evidente durante esse período, causando retração do emprego em diversos setores e o fechamento de um grande número de empresas. Por outro lado, este processo apresentou com destaque o seguinte efeito:
- reingresso do fluxo de recursos externos
 - estabilização do nível de preços
 - indexação completa da economia
 - criação de uma nova moeda
 - reforma monetária
50. O processo de privatização no Brasil foi iniciado no final dos anos 80 e intensificado na década de 90. Um dos motivos alegados pelo governo para legitimar a privatização das empresas estatais foi a necessidade de:
- fomentar o acesso ao crédito público e privado
 - transferir divisas para investimentos estrangeiros
 - obter recursos para financiamento de obras públicas
 - gerar receitas para redução da elevada dívida estatal
 - recuperar os custos de manutenção das empresas públicas

51. Considere uma economia aberta ao exterior, operando em um regime de câmbio flexível. Uma redução na tarifa de importações, mantendo-se inalteradas as demais variáveis, provocaria o seguinte efeito:
- redução da taxa de câmbio
 - aumento da taxa de câmbio
 - fixação da taxa de câmbio
 - deslocamento da curva de oferta de divisas para a direita
 - deslocamento da curva de demanda de divisas para a esquerda
52. Suponha uma redução na poupança nacional, causada, por exemplo, pelo aumento das despesas governamentais. As consequências dessa alteração nos níveis de investimento de equilíbrio e na taxa de juros são, respectivamente:
- aumento e manutenção
 - manutenção e redução
 - aumento e aumento
 - redução e aumento
 - redução e redução
53. Uma determinada empresa, que opera em um monopólio, tem a seguinte curva de demanda de produto: $q = 500 - 2p$, onde "p" é o preço do produto e "q" é a quantidade. Nessa situação, para que a referida empresa maximize sua receita total, "p" e "q" devem ser, respectivamente, iguais a:
- 75 e 125
 - 100 e 200
 - 125 e 250
 - 200 e 75
 - 250 e 100
54. De acordo com a teoria de finanças públicas, constituem exemplos de circunstâncias denominadas na literatura econômica como falhas de mercado:
- déficits públicos e tributações
 - dívidas internas e bens públicos
 - monopólios naturais e externalidades
 - mercados incompletos e impostos indiretos
 - riscos de informação e mercados atomizados
55. Os bens públicos distinguem-se dos demais fundamentalmente pela indivisibilidade do consumo. De acordo com a teoria de finanças públicas, o dever do governo de determinar o tipo e a quantidade de bens públicos a serem ofertados está associado à seguinte função:
- equitativa
 - alocativa
 - tributativa
 - distributiva
 - estabilizadora
56. Durante o primeiro mandato do governo Lula, as exportações cresceram continuamente, atingindo US\$ 137.807 milhões no ano de 2006. O bom desempenho do setor externo colaborou para a melhora do ambiente macroeconômico brasileiro no mesmo período. Entre os fatores que explicam o crescimento das exportações, incluem-se:
- controle da inflação e elevação das taxas de juros
 - elevação do superávit primário e valorização cambial
 - ampliação da oferta de crédito e contenção da demanda interna
 - elevação do preço das *commodities* e desvalorização do câmbio
 - estabilização dos preços domésticos e redução das importações
57. Observe os seguintes dados, em bilhões de reais, de uma economia hipotética, aberta ao exterior e com governo.
- ♦ renda interna bruta, a custo de fatores = 456
 - ♦ subsídios do governo às empresas privadas = 6
 - ♦ transferências do governo às famílias = 8
 - ♦ depreciação dos ativos fixos = 24
 - ♦ renda enviada ao exterior = 8
 - ♦ renda recebida do exterior = 3
 - ♦ impostos diretos = 64
 - ♦ impostos indiretos = 50
- Com base nessas informações, o índice da carga tributária líquida corresponde a:
- 24,40%
 - 23,82%
 - 22,09%
 - 21,87%
 - 20,00%
58. A empresa Beta possui a seguinte função custo: $C(q) = 12q^2 + 1200$. O custo médio dessa empresa é minimizado no nível de produção equivalente a:
- 10
 - 12
 - 20
 - 50
 - 100
59. Suponha que uma pessoa deva a um banco dois títulos com valores de resgate de R\$ 1.200,00 e R\$ 5.000,00 e que irão vencer, respectivamente, em 3 e 2 anos. Considerando uma taxa de juros de 20% ao ano para os dois títulos, o valor presente necessário para antecipar a liquidação de toda a dívida corresponde a:
- 5.388,88
 - 5.200,44
 - 4.700,99
 - 4.222,22
 - 4.166,66
60. Um determinado país possui relação poupança/produto igual a 4 e relação capital/produto igual a 2. De acordo com o modelo simplificado de crescimento de Harrod-Domar, a taxa de crescimento do produto deste país equivale a:
- 2
 - 4
 - 6
 - 8
 - 12

PÁGINA EM BRANCO

PÁGINA EM BRANCO

PÁGINA EM BRANCO

ATENÇÃO

O **caderno de questões** contém 60(sessenta) questões de múltipla escolha, cada uma com 5 (cinco) alternativas (A,B,C,D e E), organizadas da seguinte forma:

de **01 a 20** - *Língua Portuguesa*; de **21 a 30** - *Informática Básica*; de **31 a 40** - *Legislação*; de **41 a 60** - *Conhecimentos Específicos*

A duração da prova é de 4 (quatro) horas, considerando, inclusive, o tempo para a marcação da folha de respostas. Faça-a com tranquilidade, mas controle o seu tempo.

INSTRUÇÕES

1. Ao receber o caderno de questões, verifique, de imediato, na capa, se a prova corresponde ao cargo para o qual concorre. Qualquer discordância, comunique ao fiscal de sala.
2. Ao ser dado o sinal de início da prova confira se a numeração das questões e a paginação estão corretas. Qualquer irregularidade, comunique ao fiscal de sala.
3. Verifique, na **folha de respostas**, se seu nome, número de inscrição, identidade e data de nascimento estão corretos. Caso contrário, comunique ao fiscal de sala.
4. O **caderno de questões** poderá ser utilizado para anotações, mas somente as respostas assinaladas na **folha de respostas** serão objeto de correção.
5. Leia atentamente cada questão e assinale na **folha de respostas** a alternativa que responde corretamente a cada uma delas.
6. Observe as seguintes recomendações relativas a **folha de respostas**:
 - não haverá substituição;
 - não deixar de assinar no campo próprio;
 - não pode ser dobrado, amassado, rasurado, manchado ou conter qualquer registro fora dos locais destinados às respostas;
 - a maneira correta de marcação das respostas é cobrir, fortemente, com esferográfica de tinta azul ou preta, o espaço correspondente à letra a ser assinalada;
 - outras formas de marcação diferentes da que foi determinada acima implicarão a rejeição da **folha de respostas**;
 - não serão consideradas questões:
 - não assinaladas;
 - com falta de nitidez;
 - com mais de uma alternativa assinalada.
7. O fiscal não está autorizado a alterar quaisquer dessas instruções.
8. Você só poderá retirar-se da sala após 60 minutos do início da prova.
9. Quaisquer anotações só serão permitidas se feitas no caderno de questões.
10. Os três últimos candidatos deverão permanecer na sala até que o último candidato entregue a **folha de respostas**.
11. Ao terminar a prova, entregue a **folha de respostas**.

BOA PROVA!