



UNIVERSIDADE FEDERAL DO CEARÁ  
COORDENADORIA DE CONCURSOS – CCV

**CONCURSO PÚBLICO PARA PROVIMENTO DE CARGOS DA  
ÁREA TÉCNICO-ADMINISTRATIVA**

**EDITAL Nº 60/2008**

**CARGO**

***Assistente em Administração***

**CADERNO DE PROVAS**

- PROVA I - Língua Portuguesa e Redação Oficial - Questões de 01 a 20
- PROVA II - Conhecimentos Gerais - Questões de 21 a 40
- PROVA III - Raciocínio Lógico - Questões de 41 a 50

**Data: 25 de maio de 2008**

**Duração: 04 horas**

Coloque, de imediato, o seu número de inscrição e o número de sua sala nos retângulos abaixo.

**Inscrição**

**Sala**

**Concurso Público/UFC 2008**

**Texto 1**

**Executivos desatam o nó**

**A gravata, símbolo do mundo corporativo, começa a perder espaço nas empresas**

Priscilla Portugal

01 Nickolas Suzuki, de 28 anos, se sentiu como um peixe fora d'água no dia em que  
02 começou a trabalhar no *site* Apontador, em abril de 2007. Vindo de uma tradicional editora,  
03 chegou à empresa que fornece mapas e rotas na *Internet* com os trajes com os quais estava  
04 acostumado a trabalhar: terno bem cortado, camisa lisa e um nó de gravata impecável. Bastou  
05 pisar na recepção para ser avaliado da cabeça aos pés. “Eu, particularmente, gosto de usar terno e  
06 gravata, mas, quando resolvo vir assim ao trabalho, o pessoal estranha”, diz Suzuki. O terno  
07 pode até ser tolerado, mas a gravata não tem espaço na empresa. E isso não é uma  
08 particularidade do setor de tecnologia. Cada vez mais, a peça do vestuário que é considerada um  
09 dos maiores símbolos do mundo corporativo perde espaço nas empresas. “Gostaria que todos nos  
10 libertássemos da escravidão de usar terno e gravata”, conta Edson Rodriguez, vice-presidente da  
11 consultoria Thomas International do Brasil. “Mas sei que isso não é um privilégio de todas as  
12 áreas profissionais”.


<http://www.terra.com.br/istoedinheiro>

01. A respeito do título e do subtítulo do texto, é correto afirmar que:
- A) a expressão “símbolo do mundo corporativo” repete uma informação dada.
  - B) o substantivo “nó” e o verbo “desatar” pertencem a campos semânticos distintos.
  - C) o subtítulo é determinante para a compreensão do sentido polissêmico de “nó”.
  - D) o artigo definido determinante da palavra “nó” identifica um referente já conhecido do leitor.
  - E) a relação de sentido entre “executivos” e “empresas” é acessória para determinar o teor da reportagem.
02. Releia os períodos e assinale a alternativa que apresenta a análise correta acerca deles.
- I. “Nickolas Suzuki, de 28 anos, se sentiu como um peixe fora d'água no dia em que começou a trabalhar no *site* Apontador, em abril de 2007” (linhas 01-02).
  - II. “Vindo de uma tradicional editora, chegou à empresa que fornece mapas e rotas na *Internet* com os trajes com os quais estava acostumado a trabalhar: terno bem cortado, camisa lisa e um nó de gravata impecável” (linhas 02-04).
- A) Há, entre as expressões “*site* Apontador” (I) e “tradicional editora” (II), uma relação semântica de hiperonímia.
  - B) O período II apresenta o fator por que Nickolas Suzuki “se sentiu como um peixe fora d'água” (I).
  - C) O pronome relativo “que”, em (I), exerce a mesma função sintática do pronome relativo “que”, em (II).
  - D) A elipse do sujeito em II gera ambigüidade, diferente do que acontece em I.
  - E) As idéias do período II são redundantes em relação ao que se afirma em I.
03. A forma verbal destacada em “A gravata, símbolo do mundo corporativo, começa a perder espaço nas empresas” indica que a ação:
- A) repete-se sistematicamente.
  - B) conclui-se logo após a fala.
  - C) desenvolve-se gradualmente.
  - D) concretiza-se no ato da fala.
  - E) realiza-se por um tempo determinado.
04. Assinale a alternativa em que a posição espacial ocupada pelo enunciador é depreendida das palavras por ele enunciadas.
- A) “começou a trabalhar no *site* Apontador, em abril de 2007” (linha 02).
  - B) “chegou à empresa [...] com os trajes com os quais estava acostumado a trabalhar” (linhas 03-04).
  - C) “Bastou pisar na recepção para ser avaliado da cabeça aos pés” (linhas 04-05).
  - D) “quando resolvo vir assim ao trabalho, o pessoal estranha” (linha 06).
  - E) “Gostaria que todos nos libertássemos da escravidão” (linhas 09-10).

05. O período “Bastou pisar na recepção para ser avaliado da cabeça aos pés” (linhas 04-05) pode ser reescrito, sem alteração do sentido que assume no texto, da seguinte forma:
- A) “Bastou eu pisar na recepção para que eu seja avaliado da cabeça aos pés”.
  - B) “Para que fosse avaliado da cabeça aos pés, bastava que pisasse na recepção”.
  - C) “Bastou ter pisado na recepção para que eu fosse avaliado da cabeça aos pés”.
  - D) “Bastou que pisasse na recepção para que fosse avaliado da cabeça aos pés”.
  - E) “Tendo em vista ser avaliado da cabeça aos pés, bastaria que pisasse na recepção”.
06. Na frase “O terno pode até ser tolerado” (linhas 06-07), a palavra em destaque:
- A) enfatiza a idéia de inclusão do terno como algo aceitável.
  - B) explicita a idéia de proximidade do terno como algo detestável.
  - C) ressalta a idéia de inclusão do terno como algo rejeitável.
  - D) denota a possibilidade de o terno ser algo abominável.
  - E) suaviza a idéia de exclusão do terno como algo tolerável.
07. Assinale a alternativa em que o termo destacado está analisado sintaticamente de forma correta.
- A) “sentiu [...] no dia em que começou” (linhas 01-02) – objeto indireto.
  - B) “começou a trabalhar no site Apontador” (linha 02) – adjunto adverbial.
  - C) “chegou à empresa que fornece mapas” (linha 03) – objeto direto.
  - D) “Bastou pisar na recepção” (linhas 04-05) – núcleo do sujeito.
  - E) “a peça do vestuário [...] perde espaço” (linhas 08-09) – complemento nominal.
08. Acerca dos encontros vocálicos presentes em *sei* e *escravidão*, assinale a única alternativa correta.
- A) O encontro *ei* classifica-se quer como ditongo quer como hiato.
  - B) O ditongo *ei* é interverbal, ou seja, ocorre no interior da palavra.
  - C) Ambos são ditongos crescentes fechados; o primeiro é oral, e o segundo é nasal.
  - D) O ditongo /ãw/, em *escravidão*, é fechado, mas há ditongos nasais de timbre aberto.
  - E) Ditongos nasais, como /ãw/ em *escravidão*, apresentam vogal e semivogal nasais.
09. Assinale a única alternativa correta no tocante à análise dos fonemas consonantais.
- A) Há dígrafos em *pessoal* e *abril*.
  - B) Em *trabalho*, há cinco fonemas consonantais.
  - C) Em *tecnologia* e *recepção*, há um encontro consonantal.
  - D) Em *profissionais*, há dois encontros de fonemas consonantais.
  - E) Tanto em *pessoal* quanto em *empresa* há quatro fonemas consonantais.
10. Assinale a alternativa que contém apenas palavras formadas pelo processo de derivação parassintética.
- A) *submeter*; *conjurar*; *abster*.
  - B) *carteiro*; *unzinho*; *amorosa*.
  - C) *planalto*; *fidalgos*; *lobisomem*.
  - D) *vaivém*; *bisneto*; *passatempo*.
  - E) *anoitecer*; *empastelar*; *engordar*.
11. Acerca dos elementos estruturais do verbo em língua portuguesa, assinale a única alternativa correta.
- A) O tema é a parte do verbo composto pelo radical e pela desinência número-pessoal.
  - B) A desinência modo-temporal, por acumulação, também serve à caracterização da voz passiva.
  - C) Todas as formas verbais possuem a vogal temática, cuja função é a de classificadora da conjugação.
  - D) Quando a sílaba tônica do verbo acha-se em uma das sílabas do radical, a forma verbal é chamada de arrizotônica.
  - E) Particípio, infinitivo e gerúndio são formas nominais do verbo, resultantes do tema acrescido de desinências.
12. Assinale a única alternativa correta quanto à regência verbal, de acordo com a norma padrão.
- A) Ele aludiu aquele incidente de ontem.
  - B) Ela desobedeceu as regras da empresa.
  - C) Habituar-se com essa rotina foi difícil.
  - D) Radicar-se no exterior não foi bom.

E) João se conformou de viver sozinho.

## Texto 2



<http://clubedamafalda.blogspot.com>

13. Quanto à situação de interação na tirinha acima, é correto afirmar que:
- A) o sentido do termo “direitos”, no último quadro, opõe-se ao de “torcidos”, empregado no primeiro quadro.
  - B) Mafalda e seu interlocutor direto detêm o conhecimento acerca do tema de sua conversa.
  - C) o segundo e o terceiro quadros são dispensáveis para o entendimento da tirinha.
  - D) Mafalda, por seu caráter politizado, conhece e manipula o conteúdo da conversa.
  - E) os interlocutores interagem sem que haja ruídos na comunicação.
14. A forma de tratamento na frase “Você não acha que estão cada vez mais torcidos?” está adequada à situação comunicativa. Se a pergunta fosse dirigida a um deputado, seria assim enunciada:
- A) Vossa Excelência não acha que estão cada vez mais torcidos?
  - B) Vossa Excelência não acheis que estão cada vez mais torcidos?
  - C) Vossa Excelência não achas que estão cada vez mais torcidos?
  - D) Sua Excelência não achais que estão cada vez mais torcidos?
  - E) Sua Excelência não acha que estão cada vez mais torcidos?
15. O correio eletrônico (*e-mail*), por seu baixo custo e celeridade, transformou-se em importante forma de comunicação para transmissão de documentos. Um dos atrativos desse tipo de comunicação é sua flexibilidade. Quanto a esse uso em meio oficial, deve-se:
- A) enviar qualquer tipo de mensagem, imprimindo formalidade ao texto.
  - B) informar sucintamente, considerando a subjetividade dos interlocutores.
  - C) manter o padrão oficial do documento, respeitando forma e conteúdo.
  - D) garantir a comunicabilidade, adequando a variedade linguística ao interlocutor.
  - E) prescindir do caráter oficial da comunicação, mantendo a peculiaridade dos documentos.
16. Considere que o chefe de gabinete de uma prefeitura resolve, após inúmeras discussões com seus subordinados diretos, facultar o uso da gravata no ambiente de trabalho e, para transmitir essa decisão, envia-lhes um Comunicado. O texto adequado à situação acima, considerando a correção, a clareza e a concisão, é:
- A) Senhores funcionários, tendo em vista o que nos foi solicitado e a exposição de motivos já considerada, deliberamos em favor do uso da gravata em gabinete.
  - B) Senhores funcionários, hajam vista as solicitações encaminhadas, decidimos a favor do uso facultativo da gravata em gabinete.
  - C) Caríssimos funcionários, em vista das solicitações dos senhores, decidimos pelo uso facultado da gravata no nosso ambiente de trabalho.
  - D) Caríssimos funcionários, com vista a atender-lhes prontamente, deliberei a favor do uso facultativo da gravata em gabinete.
  - E) Caros funcionários, com vistas a atender aos pedidos dos senhores funcionários, deliberei em favor do uso facultativo da gravata em ambiente de trabalho.

17. Assinale a alternativa em que o termo destacado é abreviatura de uma expressão latina.

- A) A despeito do que rege a Carta, direitos e deveres do cidadão, v. g., os homens não podem decidir quanto ao seu vestuário.
- B) Apoiados na Constituição, funcionários públicos barrem (var. pop.) a gravata do seu ambiente de trabalho.
- C) O entrelaçamento, termo p. us. para nó de gravata, deve ser mantido no ambiente em que se exigir o terno.
- D) Dar (f. v. comumente usada) nó em gravata significa, em ambientes formais, dar nó nos negócios.
- E) Dar nó em gravata, i. é., vestir-se formalmente, é necessário em todas as situações de trabalho.

18. Analise os dois casos a seguir.

CASO 1: Uma professora da UFC deseja ministrar aulas aos sábados. Desta feita, ela necessita de autorização para adentrar o *campus*, que se encontra fechado nos finais de semana.

CASO 2: Um grupo de funcionários da UFC deseja registrar satisfação ao encaminhamento dado ao assunto em pauta em uma assembléia da categoria.

Assinale a alternativa que apresenta os documentos oficiais a serem produzidos, respectivamente, em cada um dos casos.

CASO 1	CASO 2
A) Portaria	– Moção
B) Consulta	– Certidão
C) Consulta	– Ofício
D) Requerimento	– Ofício
E) Requerimento	– Moção

19. Um bolsista de trabalho, lotado no departamento em que você exerce a função de assistente administrativo, solicita Atestado que confirme o horário de trabalho dele na instituição. Acerca deste gênero, assinale a alternativa correta.

- A) O Atestado, para ser expedido, necessita de solicitação escrita de órgão público pelo qual está sendo requerido.
- B) O Atestado será redigido em papel que tenha o carimbo da entidade expedidora, ou o timbre institucional, ou ambos.
- C) A assinatura no Atestado vincula aquele que assina à instituição que expediu o documento, não à verdade ou falsidade do que é asseverado.
- D) A posição hierarquicamente superior na instituição, em relação ao que solicita o Atestado, é imprescindível à concessão do documento, sob pena de invalidade.
- E) A redação do documento faculta o título “Atestado”, pois o texto inicia-se com os dizeres: “Atesto, para os devidos fins, que...”, o que torna o título redundante.

20. Assinale a alternativa que apresenta a correta associação entre o documento oficial e o fim ao qual se destina.

- A) PORTARIA – documento por meio do qual se nomeiam funcionários.
- B) DECRETO – documento usado para convocar funcionários ou fazer comunicações.
- C) REQUERIMENTO – documento mediante o qual um relator afirma ou refuta uma matéria.
- D) ATA – documento que encerra normas de caráter geral e permanente para a execução das leis.
- E) DESPACHO – documento usado para expor e fundamentar a solução para determinado assunto.

21. No Brasil colônia, a produção açucareira pode ser caracterizada como:
- A) um trabalho ao qual se dedicavam os pequenos proprietários, que promoviam uma economia de subsistência para atender às demandas do mercado externo.
  - B) uma ação que combinou a catequese jesuítica e o controle da economia pela metrópole, visando a transformar os negros em homens livres e convertidos.
  - C) uma ocupação destinada aos escravos, que aqui desembarcavam com a finalidade de ocupar o litoral da colônia a partir da organização de quilombos.
  - D) uma produção complementar à da pecuária, esta desenvolvida para suprir o Nordeste de alimentos e produtos oriundos do couro.
  - E) uma atividade que combinava terra, técnicas, trabalho compulsório e equipamentos.
22. John Luccock, que viveu no Rio de Janeiro entre 1808 e 1818, registrou a seguinte impressão da cidade, em seu livro *Notas sobre o Rio de Janeiro e partes meridionais do Brasil*: “a um estrangeiro que acontecesse atravessar a cidade [do Rio de Janeiro] pelo meio dia quase que poderia supor-se transplantado para o coração da África”.
- John Luccock *apud* NAVES, Rodrigo. *A forma difícil*. Ática: São Paulo, 2001, p. 69.
- Identifique entre as opções abaixo aquela que traduz e justifica corretamente a configuração da cidade apreendida pela percepção desse estrangeiro.
- A) A forte presença de negros desde a origem da colônia impediu a configuração de um espaço urbano nos moldes portugueses.
  - B) Os negros executavam a maior parte dos serviços urbanos e grande parte dos homens livres eram proprietários de escravos.
  - C) A cidade mantinha uma feição rural, pois inexisteriam equipamentos urbanos e prédios públicos, o que a aproximava de uma vila africana.
  - D) As famílias de origem européia concentravam-se na zona rural, sendo a cidade apenas um centro de comércio ocupado por trabalhadores negros.
  - E) A ausência de um poder metropolitano implicava a existência de um baixo número de europeus e grande presença de escravos negros na colônia.
23. A Confederação do Equador (1824) mobilizou diversos segmentos da sociedade com base nos princípios:
- A) da maçonaria, que defendia o retorno à monarquia portuguesa.
  - B) do movimento abolicionista, que surgira após a Independência.
  - C) da Revolução Francesa, que defendia a adoção do parlamentarismo.
  - D) do catolicismo, que pregava a autonomia da Igreja em relação ao Estado.
  - E) do liberalismo norte-americano, que propunha a adoção de uma república.
24. A abolição da escravatura ocupou boa parte das discussões do cenário político do Brasil na segunda metade do século XIX, inserindo-se num contexto internacional mais amplo. Podemos identificar corretamente a seguinte correlação entre o fim da escravidão e os ideais políticos internacionais:
- A) os imigrantes vindos para o Brasil se organizaram em ligas operárias, que antecederam os sindicatos, para reivindicar a implantação de leis trabalhistas, o que implicava a supressão da mão-de-obra escrava.
  - B) a transição do trabalho escravo para o trabalho livre atendia às necessidades do capitalismo em expansão, que buscava ampliar os mercados consumidores e consolidar uma mão-de-obra mais qualificada.
  - C) a monarquia brasileira seguiu os parâmetros democráticos que pregavam a liberdade do indivíduo, o que explica a luta política que opôs brasileiros e portugueses e que culminou na assinatura da abolição pela Princesa Isabel.
  - D) os movimentos pela independência nas Américas adotaram um programa político e econômico comum, cujas origens encontram-se na resistência dos povos indígenas à escravidão e sua busca por autonomia frente aos europeus.
  - E) o movimento abolicionista teve suas origens na Igreja católica, que, desde o início da colonização, colocou-se contra todo e qualquer tipo de escravidão, pois procurava ampliar o número de devotos frente ao crescimento do protestantismo.

25. O emprego da expressão *política do café-com-leite*, para definir a República Velha, relaciona-se:
- A) ao domínio político das oligarquias cafeeiras de São Paulo e às alianças estabelecidas com os mineiros.
  - B) às negociações firmadas entre os cafeicultores e a presidência para retirar o café da pauta de exportação do País.
  - C) à supressão da política dos governadores e sua substituição pelo poder dos partidos republicanos de São Paulo e Minas Gerais.
  - D) à ascensão ao poder dos militares e o conseqüente distanciamento da política federal da influência dos grupos econômicos hegemônicos.
  - E) ao deslocamento do poder político e econômico das mãos dos industriais de São Paulo para as dos produtores de leite e café de Minas Gerais e Rio de Janeiro.
26. Comparando a Ação Integralista Brasileira e o Governo de Getúlio Vargas (1930-1945), podemos afirmar corretamente que, do ponto de vista ideológico:
- A) o combate à liberal-democracia e ao comunismo era um discurso comum a ambos.
  - B) a supressão de todos os partidos políticos, promovida pelo governo, foi apoiada pelos integralistas.
  - C) a oposição ao nacionalismo fortaleceu a aliança entre integralistas e varguistas a partir do Estado Novo.
  - D) a defesa de um Estado centralizador, como apregoava Vargas, era contrária aos ideais dos integralistas.
  - E) a oposição à Igreja era feita tanto por integralistas como por varguistas, por entenderem que a doutrina católica era contrária aos seus preceitos.
27. Analisando a economia brasileira nas décadas de 60 e 70, durante o regime militar, compreende-se que a presença de capital internacional no País:
- A) diminuiu em relação ao período anterior (década de 50), pois a estatização de setores de base fez com que empresas de capital nacional substituíssem as de capital estrangeiro.
  - B) modificou o mercado financeiro ao promover o fechamento dos bancos estatais e sua substituição por bancos estrangeiros, que garantiam a expansão de crédito às classes trabalhadoras.
  - C) acarretou o declínio da indústria de bens de consumo produzidos no Brasil, pois o mercado foi ocupado por produtos importados dos Estados Unidos, Europa Ocidental e países asiáticos.
  - D) estimulou a entrada do país no MERCOSUL, pois os governos ditatoriais da América Latina buscaram estabelecer alianças econômicas entre si a fim de fortalecer suas diretrizes políticas.
  - E) permitiu a expansão de indústrias de ponta e da agroindústria, atividades cujo mercado foi dominado por empresas multinacionais atraídas para o Brasil pela facilidade de remessa de lucros.
28. Analisando os diferentes grupos sociais do Brasil no período da abertura política, a partir de 1978, podemos afirmar corretamente, sobre sua atuação nesse momento, que:
- A) as universidades constituíram importante foco de resistência, pois estavam livres da repressão e controle do Estado.
  - B) os meios de comunicação, protegidos pela Lei de Imprensa, puderam opor-se sistematicamente aos governos militares.
  - C) a Igreja esteve ausente, pois foi proibida de atuar no País durante duas décadas, já que suas doutrinas eram consideradas subversivas pelos militares.
  - D) os trabalhadores das indústrias organizaram-se de forma democrática em sindicatos e reivindicaram o direito à livre organização e à greve.
  - E) os movimentos de bairro mantiveram-se neutros, pois as classes mais baixas foram beneficiados pelo chamado *milagre econômico* promovido pelo governo.

29. A obra do poeta Patativa do Assaré (1909-2002) está registrada em livros e cordéis, conquistando leitores no Ceará e em outros estados do Brasil. Sobre os temas de sua produção poética, é correto afirmar que:
- A) começam a ganhar popularidade quando o cantor Luiz Gonzaga grava a música *Asa Branca*.
  - B) enfocam os aspectos positivos da vida nas grandes cidades nordestinas no decorrer do século XIX.
  - C) são inspirados nos livros *Vidas Secas*, escrito por Graciliano Ramos, e *O Quinze*, da escritora cearense Rachel de Queiroz.
  - D) abordam a seca no século XIX, destacando que a solução para resolver o problema da falta de chuva é a construção de grandes açudes.
  - E) tratam de assuntos ligados à vida no campo, descrevendo as belezas da natureza e da cultura camponesa e ressaltando as dificuldades dos agricultores pobres.
30. Analisando a Literatura de Cordel nas manifestações culturais do Ceará, podemos afirmar corretamente que:
- A) exclui a biografia de criminosos, como é o caso da vida de Lampião, Corisco e Antônio Silvino.
  - B) começa a ser produzida a partir do início do século XIX, enfocando o problema da reforma agrária.
  - C) deixa de circular no início dos anos de 1980, por causa da popularização dos programas de televisão.
  - D) continua viva na atualidade e traz, além dos temas tradicionais, narrativas de acontecimentos recentes que geram interesse popular.
  - E) origina-se na Idade Média, ganha grande popularidade no século XVIII e deixa de ser produzida no Brasil em 1908, com a chegada de D. João VI.
31. Escrita por Ariano Suassuna, a peça de teatro *O Auto da Compadecida* continua sendo apresentada em palcos brasileiros. A respeito desse texto, assinale a afirmativa correta.
- A) É baseado no livro *Os Sertões*, de Euclides da Cunha.
  - B) Reflete a grande pobreza do Nordeste na seca de 1915.
  - C) É inspirado em narrativas orais e na Literatura de Cordel.
  - D) Enfoca a vida dos índios no decorrer da colonização do Nordeste.
  - E) Retrata a situação dos nordestinos que migraram para o norte do País.
32. Sobre a atuação de Nogueira Acioly na história política do Ceará, é correto afirmar que:
- A) apoiou a eleição de Setembrino de Carvalho, em 1914.
  - B) iniciou-se com o apoio do governo de Getúlio Vargas.
  - C) implementou o voto feminino, idealizado por Franco Rabelo.
  - D) recebeu forte oposição do escritor e farmacêutico Rodolfo Teófilo.
  - E) recebeu apoio de Carneiro de Mendonça, depois da Sedição de Juazeiro.
33. Entre os anos de 1926 e 1936, existiu no sul do Ceará o movimento do Caldeirão. Sobre a organização dessa comunidade, é correto afirmar que:
- A) foi combatida pelo Padre Cícero na Sedição de Juazeiro, gerando um conflito que durou três anos.
  - B) era liderada pelo beato José Lourenço, que pregava a igualdade e a fraternidade entre todos.
  - C) foi apoiada por Getúlio Vargas, quando criou um conjunto de leis de proteção para os trabalhadores rurais.
  - D) era liderada por Antônio Conselheiro, que pregava a volta da monarquia e propagava ensinamentos da maçonaria.
  - E) era formada por seguidores do Padre Ibiapina, que, em 1930, formaram um grupo armado para combater Lampião.




34. Sobre a presença das culturas indígenas na formação histórica do Ceará, é correto afirmar que:
- A) os historiadores atuais comprovam em suas pesquisas que os índios existiam apenas no sul do Ceará.
  - B) os arqueólogos comprovam que havia um único grupo indígena antes da chegada dos europeus, no séc. XVI.
  - C) o catolicismo dos missionários, no decorrer da colonização do Ceará, preservou as crenças dos povos indígenas.
  - D) os movimentos sociais na atualidade afirmam, com base em pesquisas, que existem vários povos indígenas do Ceará.
  - E) os geógrafos declaram que, hoje, todas as terras reivindicadas por grupos indígenas no Ceará estão oficialmente demarcadas como reservas indígenas.
35. Sobre os acontecimentos políticos gerados em 1964, depois do golpe de 31 de março, é correto afirmar:
- A) o congresso nacional elegeu Castelo Branco para a presidência da República.
  - B) a criação do Serviço Nacional de Informação proibiu a existência de censura.
  - C) João Goulart articulou aliança de colaboração com os militares.
  - D) a União Nacional dos Estudantes recebeu o apoio dos militares.
  - E) as relações diplomáticas com Cuba foram incentivadas.
36. A divisão do Brasil pelo IBGE em grandes regiões geográficas – Norte, Nordeste, Sudeste, Centro-Oeste e Sul – é a mais utilizada para fins de identificação cultural e de planejamento. Assinale a alternativa que associa de modo correto as regiões brasileiras a algumas de suas principais características naturais e econômicas.
- A) Região Sul – clima tropical, predomínio da lavoura de subsistência, agricultura familiar, industrialização incipiente.
  - B) Região Sudeste – clima temperado, agricultura voltada para o mercado local, grandes empreendimentos industriais.
  - C) Região Nordeste – clima subtropical, extrativismo vegetal, monocultura para exportação, industrialização recente.
  - D) Região Norte – clima equatorial, extrativismo mineral e vegetal, agropecuária intensiva, industrialização antiga.
  - E) Região Centro-Oeste – clima tropical, grandes empreendimentos agropecuários, predomínio de indústrias alimentícias.
37. Qualquer forma de representação do espaço terrestre contém deformações da superfície. Sobre as diversas representações do espaço terrestre, assinale a única alternativa correta.
- A) O mapa em pequena escala é a forma que reproduz o espaço com maior exatidão.
  - B) O globo terrestre deforma a Terra porque não pode ser feito em grande dimensão.
  - C) Os mapas de relevo são os que apresentam maior facilidade de execução.
  - D) O mapa construído em grande escala apresenta maior riqueza de detalhes.
  - E) As regiões de alta latitude são as de representação mais precisa.
38. Sobre a ocupação do Ceará, é correto afirmar que:
- A) foi maior no sertão, com a formação dos latifúndios e a ocupação pelo gado.
  - B) ocorreu de modo pacífico nas regiões úmidas, com a colaboração dos nativos.
  - C) foi mais densa no litoral e nas serras, com o desenvolvimento de lavoura diversificada.
  - D) teve início no século XV com o extermínio indígena nas chapadas.
  - E) ocorreu a partir do sul em direção ao norte e leste do Estado.

39. O Ceará apresenta espaços bem diferenciados. Marque a alternativa que associa de modo correto características naturais e atividades econômicas das diversas regiões cearenses.
- A) A região metropolitana de Fortaleza, que acompanha a orla marítima do Estado, destaca-se pela presença de culturas agrícolas extensivas.
  - B) O Cariri cearense, bordejado por chapadas, destaca-se entre outras regiões do Estado pela presença de clima mais úmido e atividade agrícola intensa.
  - C) As chapadas sedimentares acompanham as fronteiras do norte do Estado e destacam-se pela presença de grandes monoculturas.
  - D) O sertão cearense, pecuarista, cercado pelos *inselbergs* sedimentares, ocupa, em extensão, a menor área do Estado.
  - E) A região serrana, fruticultora, bordeja o litoral e destaca-se pela presença de clima temperado.

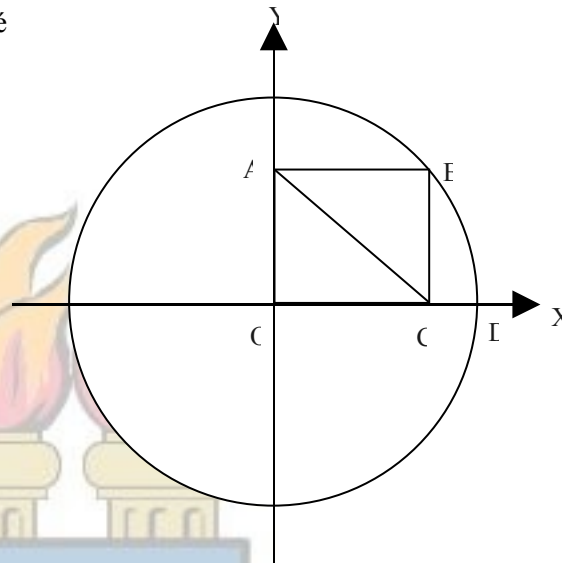
40. Sobre o litoral cearense, assinale a única alternativa correta.

- A) Tem vegetação complexa e alterada pela presença humana.
- B) Detém a maior extensão e ocupação na região Nordeste.
- C) Tem os dois maiores portos do Nordeste brasileiro.
- D) Oferece poucos atrativos à atividade turística.
- E) Apresenta grandes estuários.



41. Na figura a seguir OABC é um retângulo inscrito no primeiro quadrante do círculo. Se a medida de OC é 6, e a medida de CD é 2, então a medida de AC é:

- A) 5.
- B) 6.
- C) 7.
- D) 8.
- E) 9.

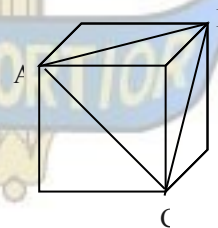


42. Uma pizza foi dividida em partes iguais. Uma pessoa comprou um terço das partes. Outra pessoa comprou um terço das partes restantes. Uma terceira pessoa comprou um terço das partes que sobraram. Se, finalmente, havia ainda oito partes, o número de partes iguais em que a pizza foi inicialmente dividida foi de:

- A) 45.
- B) 36.
- C) 27.
- D) 21.
- E) 18.

43. A aresta do cubo na figura ao lado mede 1 m. Sabendo que a área de um triângulo é o produto da multiplicação da metade de uma base pela altura correspondente, é correto afirmar que a área do triângulo ABC, em m<sup>2</sup>, é igual a:

- A)  $\frac{\sqrt{2}}{2}$ .
- B)  $\frac{\sqrt{3}}{2}$ .
- C)  $\frac{\sqrt{5}}{2}$ .
- D)  $\frac{\sqrt{6}}{2}$ .
- E)  $\frac{\sqrt{7}}{2}$ .



44. A negação lógica da proposição “O pai de Marcos é pernambucano, e a mãe de Marcos é gaúcha” é:
- A) “O pai de Marcos não é pernambucano, e a mãe de Marcos não é gaúcha”.
  - B) “O pai de Marcos não é pernambucano, ou a mãe de Marcos não é gaúcha”.
  - C) “O pai de Marcos não é pernambucano, ou a mãe de Marcos é gaúcha”.
  - D) “O pai de Marcos é pernambucano, e a mãe de Marcos não é gaúcha”.
  - E) “O pai de Marcos é pernambucano, ou a mãe de Marcos não é gaúcha”.
45. Em um jogo de apostas, se o apostador ganha, seu capital aumenta 50%; se perde, seu capital diminui 50%. Se um apostador começou com R\$ 40,00, jogou quatro vezes, ganhou duas e perdeu duas, pode-se afirmar corretamente que:
- A) fındou com R\$ 40,00 independentemente da ordem de vitórias e derrotas.
  - B) perdeu R\$ 12,50 independentemente da ordem de vitórias e derrotas.
  - C) perdeu R\$ 17,50 independentemente da ordem de vitórias e derrotas.
  - D) ganhou R\$ 12,50 se foram duas vitórias seguidas de duas derrotas.
  - E) ganhou R\$ 17,50 se foram duas derrotas seguidas de duas vitórias.
46. Um time de futebol jogou vinte partidas, tendo três derrotas a mais do que vitórias e um empate a menos do que derrotas. Se por cada vitória ele obteve três pontos, por cada empate um ponto e nenhum ponto por cada derrota, a quantidade de pontos por ele obtida foi de:
- A) 18.
  - B) 19.
  - C) 20.
  - D) 21.
  - E) 22.
47. Se um número inteiro positivo, com quatro algarismos ou mais, é tal que a soma do quádruplo do algarismo das centenas, com o dobro do algarismo das dezenas e com o algarismo das unidades é um múltiplo de 8, então ele é divisível por 8. Assinale a única alternativa na qual consta um número divisível por 8.
- A) 1543111984.
  - B) 3245751628.
  - C) 3466675770.
  - D) 4784263132.
  - E) 5834174436.
48. Sendo A e B conjuntos, pode ser provado que  $n(A \cup B) = n(A) + n(B) - n(A \cap B)$ . Se a quantidade de inteiros entre 1 e 1000 divisíveis por 3 é 333, a quantidade de inteiros entre 1 e 1000 divisíveis por 21 é 47 e a quantidade de inteiros entre 1 e 1000 divisíveis por 3 ou 7 é 428, então a quantidade de inteiros entre 1 e 1000 divisíveis por 7 é:
- A) 138.
  - B) 139.
  - C) 140.
  - D) 141.
  - E) 142.

49. O Princípio das Gavetas de Dirichlet afirma que: “se  $n$  objetos forem colocados em no máximo  $n - 1$  gavetas, então pelo menos uma das gavetas conterá pelo menos dois objetos”. Assinale a única alternativa na qual consta uma afirmação decorrente do Princípio das Gavetas de Dirichlet.
- A) Em um grupo com 51 pessoas nascidas em 2007 pelo menos 2 nasceram em uma mesma semana.
  - B) Em um grupo de 36 pessoas pelo menos 4 têm um mesmo signo zodiacal, dentre os 12 existentes.
  - C) Em um grupo com 31 pessoas nascidas em agosto pelos menos 2 nasceram em um mesmo dia.
  - D) Em um grupo com 8 pessoas pelo menos 2 nasceram em um mesmo dia da semana.
  - E) Em um grupo com 11 pessoas pelo menos 2 nasceram em um mesmo mês.

50. Para fazer uma viagem de ida e volta entre duas cidades, posso utilizar quatro companhias aéreas. Se não desejo usar na viagem de volta a mesma companhia usada na viagem de ida, o número de modos distintos em que posso fazer a viagem de ida e volta é:

- A) 12.
- B) 10.
- C) 9.
- D) 8.
- E) 7.

