



UNIVERSIDADE FEDERAL DO RIO DE JANEIRO  
CONCURSO PÚBLICO - 2008

# ASSISTENTE EM ADMINISTRAÇÃO

## INSTRUÇÕES GERAIS

- Você recebeu do fiscal:
  - Um *caderno de questões* contendo 50 (cinquenta) questões de múltipla escolha da Prova Objetiva;
  - Um *cartão de respostas* personalizado para a Prova Objetiva.
- É responsabilidade do candidato certificar-se de que o nome do cargo informado nesta capa de prova corresponde ao nome do cargo informado em seu *cartão de respostas*.
- Ao ser autorizado o início da prova, verifique, no *caderno de questões*, se a numeração das questões e a paginação estão corretas.
- Você dispõe de 4 (quatro) horas para fazer a Prova Objetiva. Faça-a com tranquilidade, mas **controle o seu tempo**. Este **tempo** inclui a marcação do *cartão de respostas*.
- Após o início da prova, será efetuada a coleta da impressão digital de cada candidato (Edital 28/2008 – Item 9.11 alínea a).
- Somente após decorrida uma hora do início da prova, o candidato poderá entregar o seu *caderno de questões*, o seu *cartão de respostas*, e retirar-se da sala de prova (Edital 28/2008 – Item 9.11 alínea c).
- Após o término de sua prova, entregue obrigatoriamente ao fiscal o *cartão de respostas* devidamente assinado e o *caderno de respostas* (Edital 28/2008 – Item 9.11 alínea f).
- Somente será permitido levar seu *caderno de questões* faltando uma hora para o término estabelecido para o fim da prova (Edital 28/2008 – Item 9.11 alínea d).
- Não será permitido ao candidato copiar seus assinalamentos feitos no *cartão de respostas* (Edital 28/2008 – Item 9.11 alínea e).
- Os 3 (três) últimos candidatos de cada sala só poderão ser liberados juntos (Edital 28/2008 – Item 9.11 alínea g).
- Se você precisar de algum esclarecimento, solicite a presença do **responsável pelo local**.

## INSTRUÇÕES - PROVA OBJETIVA

- Verifique se os seus dados estão corretos no *cartão de respostas*. Solicite ao fiscal para efetuar as correções na Ata de Aplicação de Prova.
- Leia atentamente cada questão e assinale no *cartão de respostas* a alternativa que mais adequadamente a responde.
- O *cartão de respostas* NÃO pode ser dobrado, amassado, rasurado, manchado ou conter qualquer registro fora dos locais destinados às respostas.
- A maneira correta de assinalar a alternativa no *cartão de respostas* é cobrindo, fortemente, com caneta esferográfica azul ou preta, o espaço a ela correspondente, conforme o exemplo a seguir:



## CRONOGRAMA PREVISTO

ATIVIDADE	DATA	LOCAL
Divulgação do gabarito - Prova Objetiva (PO)	02/06/2008	www.nce.ufrj.br/concursos
Interposição de recursos contra o gabarito (RG) da PO	03 e 04/06/2008	www.nce.ufrj.br/concursos
Divulgação do resultado do julgamento dos RG da PO e o resultado preliminar das PO	16/06/2008	www.nce.ufrj.br/concursos

Demais atividades, consultar no endereço eletrônico [www.nce.ufrj.br/concursos](http://www.nce.ufrj.br/concursos)



## LÍNGUA PORTUGUESA

**01-** Preenchendo as lacunas das frases abaixo com conectores adequados ao contexto, o único conector **INADEQUADO** é:

- (A) Pesquisas com a violência infantil mostraram que a agressão é aprendida em idades menores e, \_\_\_\_\_ a criança cresce, as mudanças se tornam mais difíceis. (quando);  
(B) A geração *net* vive cercada pela mídia digital, na qual os usuários não querem ser apenas espectadores ou ouvintes, \_\_\_\_\_ exigem interatividade. (mas);  
(C) \_\_\_\_\_ os jogos eletrônicos possam contribuir para o jovem extravasar seus sentimentos, os pais devem ficar atentos. (Embora);  
(D) Os horários para determinados tipos de publicidade deverão ser restritos \_\_\_\_\_ não trazerem prejuízo às crianças. (por);  
(E) Um homem bom é livre, \_\_\_\_\_ quando é escravo. Um homem mau é escravo, \_\_\_\_\_ quando é rei. Não serve a outros homens, mas a seus caprichos. Tem tantos senhores quanto vícios. (mesmo).

**02-** A colocação de um adjetivo na frase não é aleatória, já que depende da intenção de quem fala ou escreve. Observe as frases a seguir:

- 1 – O operário **APRESSADO** chegou ao trabalho às nove horas.  
2 – O operário chegou **APRESSADO** ao trabalho às nove horas.

Sobre o emprego dos adjetivos em maiúsculas desses dois segmentos, pode-se dizer que:

- (A) estar apressado é uma condição constante na vida do operário da frase 2;  
(B) o operário da frase 1 está mais sujeito a sofrer de estresse que o da frase 2;  
(C) as frases não apresentam modificação de sentido;  
(D) ao contrário do adjetivo da frase 2, o da frase 1 contém valor subjetivo;  
(E) os dois adjetivos mostram obrigatoriamente uma condição transitória do operário.

**03-** “A filosofia não é uma disciplina teórica, que coloca problemas à estrutura do universo físico ou à natureza dos deuses, mas uma indagação sobre a natureza humana à procura da beatitude (estado permanente da perfeita satisfação e plenitude, somente alcançado pelo homem de sabedoria)”. A palavra ou expressão grifada desse texto que **NÃO** tem valor adjetivo é:

- (A) “estrutura do universo físico”;  
(B) “natureza dos deuses”;  
(C) “procura da beatitude”;  
(D) “estado da perfeita satisfação”;  
(E) “homem de sabedoria”.

**04-** De acordo com o discurso gramatical tradicional, advérbio é palavra invariável que expressa circunstância e se refere a verbos, adjetivos e até mesmo advérbios. A frase abaixo em que o vocábulo sublinhado, normalmente visto como advérbio, se refere a toda uma oração e mostra uma opinião do enunciador sobre o que é veiculado pela frase, é:

- (A) Todos chegaram rapidamente ao trabalho;  
(B) O fiscal agiu legalmente;  
(C) Temporariamente, os benefícios estavam suspensos;  
(D) Infelizmente, o prêmio não foi dividido entre todos;  
(E) O livro foi impresso defeituosamente.

**05-** As frases abaixo que devem ser preenchidas pelo advérbio **AONDE** são:

- I - Não conheço o lugar \_\_\_\_\_ toda essa gente se dirige.  
II - \_\_\_\_\_ você deseja chegar com esses argumentos?  
III - Você sabe \_\_\_\_\_ fica a Rua Uruguaiana?  
IV - \_\_\_\_\_ será que se esconderam os cachorros?

- (A) I e II;  
(B) II e III;  
(C) III e IV;  
(D) I, II e IV;  
(E) II, III e IV.

**06-** Todas as frases abaixo foram construídas com ambigüidade; a única **EXCEÇÃO** é:

- (A) Vi o livro e a autora de que gosto;  
(B) Estou escrevendo um livro para meu filho, que me ocupa o dia todo;  
(C) Há um ano comprei uma casa com um vistoso portão, que venderei agora;  
(D) Trata-se de um estudo sobre Machado de Assis, cuja leitura recomendo;  
(E) Falo de Pedro, filho de nossa vizinha, a qual você conhece bem.

**07-** Assinale a opção em que a palavra *só* se classifica como em “O rapaz sentiu-se *só* no Dia dos Namorados.”

- (A) Só o homem tem vergonha do próprio cheiro;  
(B) Compraram só o estritamente necessário;  
(C) Queríamos só que os políticos fossem menos corruptos;  
(D) Estudou na Europa só por um mês e meio;  
(E) Sua namorada veio só, porque brigou com você.

**08-** Identifique a opção em que **NÃO** há intensificação de uma idéia:

- (A) Cada eleitor cria a imagem ideal do seu candidato;  
(B) O senador tinha a aparência algo estranha;  
(C) Que afirmativa absurda!;  
(D) O novo penteado a torna bastante atraente;  
(E) A situação estava seriíssima.



09- Assinale a opção em que há ERRO de concordância:

- (A) piso de mármore e pedras importados;
- (B) eram importados o mármore e as pedras;
- (C) foram importadas as pedras e o mármore;
- (D) pedras e mármore eram importadas;
- (E) piso de pedras e mármore importados.

10- Dos verbos arrolados abaixo, assinale o único que, em relação à norma culta, NÃO apresenta duplo particípio:

- (A) abrir;
- (B) matar;
- (C) imprimir;
- (D) enxugar;
- (E) pegar.

11- Assinale o par de vocábulos cujos sufixos possuem valor semântico idêntico ao dos sufixos de *espanhol* e *firmeza*, respectivamente:

- (A) brasileiro / retidão;
- (B) catolicismo / perigoso;
- (C) bananeira / viuvez;
- (D) inglês / leitura;
- (E) fluminense / artista.

12- Assinale a opção em que NEM TODAS as palavras são de um mesmo radical:

- (A) noturno, anoitecer, pernoitar;
- (B) cruz, cruzeiro, cruzado;
- (C) incrível, crente, crer;
- (D) festa, infestar, festejar;
- (E) riqueza, enriquecer, ricamente.

13- Assinale o par de vocábulos que NÃO guardam entre si a mesma relação semântica existente entre *normal*/*normalizar*:

- (A) contrário/contrariar;
- (B) caráter/caracterizar;
- (C) francês/afrancesar;
- (D) atual/atualizar;
- (E) fraco/enfraquecer.

14- “Ó Mestre, fazei com que eu procure mais consolar que ser consolado, compreender que ser compreendido, amar que ser amado...”; este trecho da *Canção de São Francisco* tem como função de linguagem predominante a:

- (A) emotiva;
- (B) metalingüística;
- (C) fática;
- (D) conativa;
- (E) referencial.

15- Assinale a opção que completa corretamente as lacunas da seguinte frase:

Quando \_\_\_\_ mais desenvolvido, o Brasil certamente \_\_\_\_ um local de mais justiça social.

- (A) estivesse / será;
- (B) estiver / seria;
- (C) esteja / era;
- (D) estivesse / era;
- (E) estiver / será.

16- Assinale a opção que NÃO completa corretamente as lacunas da frase abaixo:

Quando os passageiros do navio \_\_\_\_\_, o comandante \_\_\_\_\_ para se alojarem.

- (A) chegarem / teve de chamá-los;
- (B) tivessem chegado / iria chamá-los;
- (C) chegaram / foi chamá-los;
- (D) chegassem / haveria de chamá-los;
- (E) tiverem chegado / deverá chamá-los.

17- “Deixai vir a mim as criancinhas”; se esta frase de Cristo fosse transposta para o imperativo negativo, sua forma adequada seria:

- (A) Não deixem vir a mim as criancinhas;
- (B) Não deixai vir a mim as criancinhas;
- (C) Não deixei vir a mim as criancinhas;
- (D) Não deixais vir a mim as criancinhas;
- (E) Não deixeis vir a mim as criancinhas.

18- Um nadador que havia acabado de transpor o Canal da Mancha a nado, declarou que pretendia fazer o mesmo nos outros continentes. Essa declaração apresenta uma incoerência, que é a de:

- (A) uma pessoa não poder prever o futuro;
- (B) um mesmo canal não poder ser cruzado duas vezes;
- (C) o nadador não poder afirmar algo que desconhece;
- (D) um atleta não poder antecipar suas condições físicas;
- (E) o Canal da Mancha só existir na Europa.

19- “Não jogarei no próximo final de semana!”; esta frase, dita por um jogador de futebol, quando passada para o discurso indireto um mês depois, iniciando-se por “O jogador declarou que não...”, teria como forma adequada:

- (A) jogará no próximo final de semana;
- (B) jogaria no próximo final de semana;
- (C) jogará no final de semana seguinte;
- (D) jogaria no final de semana seguinte;
- (E) jogava no próximo final de semana.

20- Numa frase publicitária do desodorante *Avanço*, estava escrito o seguinte: “Use *avanço*, que as mulheres *avançam!*” O comentário INCORRETO sobre esse segmento publicitário é:

- (A) a tese defendida no texto é a de que todos os homens devem comprar *Avanço*;
- (B) o argumento que defende a tese do texto tem a sedução por base;
- (C) o emprego do imperativo é característica de textos publicitários como esse;
- (D) o jogo de palavras como *avanço-avançam* é freqüente na publicidade;
- (E) o apelo à beleza feminina faz parte da estratégia publicitária.



## MATEMÁTICA

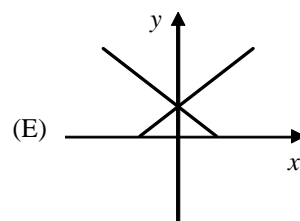
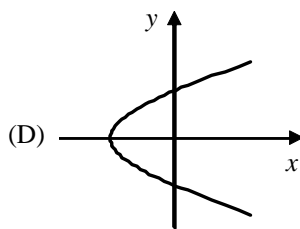
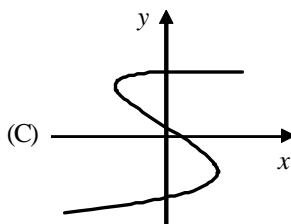
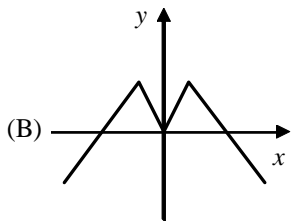
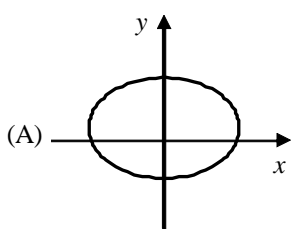
21 – O preparo da sopa de marca Bom Sabor para uma pessoa requer que se dissolva um pacote de pó de sopa em um copo de água, atingindo-se assim uma concentração do pó em água que será denominada  $C_0$ . Se, em vez de 1 copo, colocarmos 1 copo e meio de água para um pacote de pó, atinge-se uma concentração do pó em água que será denominada  $C_1$ . A razão  $\frac{C_1}{C_0}$  corresponde a:

- (A)  $\frac{1}{3}$ ;  
(B)  $\frac{2}{3}$ ;  
(C)  $\frac{3}{4}$ ;  
(D)  $\frac{3}{2}$ ;  
(E)  $\frac{4}{3}$ .

22 – Margarida encheu o tanque de seu automóvel bicombustível com R\$ 50,00 de gasolina e R\$ 45,00 de álcool, num total de 50 litros de combustível. Constatou que o preço do litro da gasolina era R\$ 1,00 a mais que o preço do litro do álcool. O preço do litro do álcool, quando Margarida encheu o tanque, correspondeu à seguinte porcentagem do preço do litro da gasolina:

- (A) 45%;  
(B) 50%;  
(C) 55%;  
(D) 60%;  
(E) 65%.

23 – Entre as relações entre  $x$  e  $y$  abaixo, aquela que representa uma função  $y = f(x)$  é:



24 – Ao redor de uma piscina retangular de 8 metros de comprimento por 4 metros de largura, será colocado piso não derrapante em um caminho de largura constante:



O espaço total a ser pavimentado é de  $64 \text{ m}^2$ , assim a largura desse caminho (em metros) é de:

- (A) 0,5m;  
(B) 1m;  
(C) 1,5m;  
(D) 2m;  
(E) 2,5m.

25 – Devido à inflação, o valor de compra de uma certa quantia em dinheiro se reduz em 5% a cada ano. Assim, por exemplo, R\$ 100,00 comprarão em um ano o equivalente a R\$ 95,00 de hoje. Supondo que a inflação será a mesma, o menor número de anos a partir do qual o valor de compra será reduzido a mais da metade com relação ao valor atual é:

Dados:  $\log(2) = 0,3$   $\log(5) = 0,7$   $\log(0,95) = -0,022$

- (A) 10;  
(B) 12;  
(C) 14;  
(D) 15;  
(E) 17.

26 – Dois triângulos A e B são equiláteros. Seja  $k$  a medida do lado de A e  $2,5k$  a medida do lado de B. Assim a razão entre as áreas de B e A é:

- (A) 2,5;  
(B) 5;  
(C) 6,25;  
(D) 7,5;  
(E) 8,25.

27 – Os pontos A, B, C e D são vértices de um quadrado de lados AB, BC, CD e DA. Considere dois triângulos ABN e ABM tal que M e N pertençam ao lado CD. Com relação a ABN e ABM, analise as seguintes afirmativas:

- I – possuem mesma área;  
II – possuem mesmo perímetro;  
III – são semelhantes.

É/São necessariamente verdadeira(s) somente a(s) afirmativa(s):

- (A) I;  
(B) II;  
(C) III;  
(D) I e II;  
(E) I e III.



28 – O valor de  $k$  para que se tenha  $\sum_{n=1}^k (4n - 2) = 5000$  é:

- (A) 70;
- (B) 65;
- (C) 60;
- (D) 55;
- (E) 50.

29 – Num estacionamento há 10 vagas independentes. O número de modos distintos pelos quais 6 automóveis podem ocupar as vagas desse estacionamento é:

- (A)  $\frac{10!}{6!}$ ;
- (B)  $\frac{10!}{4!}$ ;
- (C)  $\frac{10!}{4!6!}$ ;
- (D)  $10!$ ;
- (E)  $6!$ .

30 – Seja  $z$  um número complexo qualquer.

- I –  $z \cdot \bar{z}$  é um número real;
- II –  $z + \bar{z}$  não é um número real;
- III –  $z / \bar{z}$  é igual a 1 ou  $-1$ .

É/São necessariamente verdadeira(s) somente a(s) afirmativa(s):

- (A) I;
- (B) II;
- (C) III;
- (D) I e III;
- (E) II e III.

## INFORMÁTICA

Nas questões de número 31 até 50 considere as configurações padrões e/ou típicas de hardware e de instalação dos softwares citados. Considere os programas, aplicativos, sistemas operacionais e outros softwares nas suas versões em português, a menos quando não disponível ou especificado em contrário.

31- Em computadores do tipo PC (i386), a interface AGP está sendo substituída por:

- (A) Firewire;
- (B) HDMI;
- (C) PCI;
- (D) PCI Express;
- (E) USB.

32- O item que representa um dispositivo de armazenamento em massa em um computador é:

- (A) HD;
- (B) impressora;
- (C) modem;
- (D) monitor;
- (E) scanner.

33- Um usuário removeu uma pasta do Windows XP contendo um arquivo importante (clicou com o botão da direita do mouse na pasta e selecionou excluir), arrependendo-se em seguida. Nesse caso:

- (A) é possível restaurar o arquivo, a partir da lixeira, sem a necessidade de restaurar a pasta;
- (B) não é possível recuperar o arquivo, uma vez que a lixeira só armazena arquivos, pastas são removidas definitivamente;
- (C) não é possível restaurar o arquivo, uma vez que a pasta onde ele estava armazenado foi removida;
- (D) para recuperar o arquivo, primeiro se deve recuperar a pasta e depois recuperar o arquivo da lixeira;
- (E) para restaurar o arquivo, só é necessário restaurar a pasta a partir da lixeira.

34- Analise as seguintes afirmativas sobre o ato de arrastar um arquivo, através do seu ícone, utilizando-se UMA ÚNICA instância do Windows Explorer no MS Windows XP:

- i. se o ícone for arrastado com o botão direito do mouse para uma outra pasta do mesmo volume, o usuário terá as opções de copiar, mover ou criar atalho do arquivo na outra pasta;
- ii. se o ícone for arrastado com o botão direito do mouse para a sua própria pasta, o usuário terá as opções de copiar, mover ou criar atalho do arquivo nessa pasta;
- iii. se o ícone for arrastado com o botão esquerdo do mouse para uma outra pasta do mesmo volume, o arquivo será copiado para a outra pasta;
- iv. se o ícone for arrastado com o botão esquerdo do mouse para uma outra pasta de um outro volume, o arquivo será copiado para a outra pasta;
- v. se o ícone for arrastado com o botão esquerdo do mouse para a sua própria pasta, o arquivo será copiado com outro nome.

A quantidade de afirmativas corretas é:

- (A) 1;
- (B) 2;
- (C) 3;
- (D) 4;
- (E) 5.

35- Analise as seguintes afirmativas relativas à opção “Pacote para CD...” do menu Arquivo do MS PowerPoint 2000:

- i. É utilizado para instalar pacotes distribuídos em CD (ou DVD) com atualizações de modelos de apresentações do PowerPoint.
- ii. Foi desenvolvido para a gravação de CDs, visando substituir outros programas de gravação como o Nero, por exemplo.
- iii. Substitui o antigo “Assistente para viagem”.
- iv. Tem como finalidade básica preparar apresentações que podem ser visualizadas em computadores rodando Windows, mesmo sem o PowerPoint.

A quantidade de afirmativas corretas é:






- (A) 0;
- (B) 1;
- (C) 2;
- (D) 3;
- (E) 4.



**36-** “Move para o próximo espaço reservado ao próximo título ou corpo do texto ou, se for o último espaço reservado em um slide, será inserido um novo slide com o mesmo layout do slide original”. Essa definição no MS-PowerPoint 2000 refere-se à tecla de atalho:

- (A) Ctrl+Enter
- (B) Ctrl+Home
- (C) Ctrl+Seta para a direita
- (D) Ctrl+Tab
- (E) Seta para a direita

**37-** O ícone da barra de ferramentas do MS PowerPoint 2000 utilizado para modificar a cor do sombreamento é:

- (A) 
- (B) 
- (C) 
- (D) 
- (E) 

**38 -** Para apresentar o cadeado no MS Internet Explorer, o site visitado deve utilizar o protocolo:

- (A) dhcp
- (B) ftp
- (C) http
- (D) https
- (E) tftp

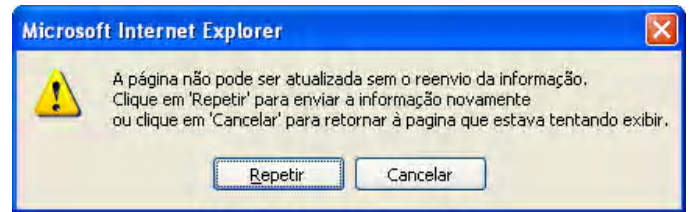
**39-** Considere a seguinte definição, extraída da Wikipédia:

“é uma forma de fraude eletrônica, caracterizada por tentativas de adquirir informações sensíveis, tais como senhas e números de cartão de crédito, ao se fazer passar por uma pessoa confiável ou uma empresa enviando uma comunicação eletrônica oficial, como um correio ou uma mensagem instantânea”.

Essa definição refere-se a:

- (A) anti-vírus;
- (B) firewall;
- (C) phishing;
- (D) spam;
- (E) vírus.

**40-** A caixa de diálogo a seguir foi obtida do MS Internet Explorer:



Essa caixa:

- (A) avisa que informações sigilosas estão sendo transmitidas para o site através da Internet;
- (B) foi aberta porque o Internet Explorer detectou insegurança na transmissão de dados;
- (C) foi aberta porque o usuário pediu para atualizar a página teclando F5, ou o botão de “Atualizar”, ou semelhante;
- (D) avisa que algum tipo de vírus está enviando informações do usuário;
- (E) informa que a página visitada está requisitando a confirmação de informações já enviadas.

**41-** Suponha que o endereço de e-mail de um de seus amigos, registrado no MS Outlook 2000, mudou. Para remover a sugestão dada no campo “Para...” do endereço antigo, você deve:

- (A) clicar com o botão direito do mouse na lista e selecionar “Não mostrar mais”;
- (B) aguardar em média 5 segundos e o endereço não utilizado não será mais mostrado;
- (C) selecionar o endereço antigo na lista de sugestões e teclar “Delete”;
- (D) selecionar o endereço novo e apertar a tecla “Tab”;
- (E) remover o endereço antigo do seu amigo da sua lista de contatos.

**42-** No MS Excel 2000 é possível importar um arquivo texto com campos separados por:

- i) espaço em branco;
- ii) letra A;
- iii) ponto-e-vírgula;
- iv) tabulação;
- v) vírgula.

A quantidade de itens corretos é:

- (A) 1;
- (B) 2;
- (C) 3;
- (D) 4;
- (E) 5.



43- Observe a seguir um fragmento de uma planilha MS Excel 2000:

	1	2	3	4
1				
2				
3				
4				
5				
6				
7				
8				
9				
10				
11				
12				

As linhas e as colunas têm referências numéricas porque:

- (A) o cálculo de subtotais está ativado;
- (B) o estilo de referência L1C1 está desligado;
- (C) o estilo de referência L1C1 está ligado;
- (D) o Excel está corrompido e terá que ser reinstalado;
- (E) o sistema foi infectado por um vírus.

44- O número de cores que podem ser exibidas simultaneamente em um sistema que utiliza uma profundidade de cores de 24 bits é:

- (A) 24;
- (B) 192;
- (C) 65536;
- (D) 4194304;
- (E) 16777216.

45- O tipo de fonte de alimentação mostrado na figura a seguir é:



- (A) ATX
- (B) KVA
- (C) SATA
- (D) AT
- (E) USB

46- O recurso “Mala direta” do MS Word 2000:

- (A) auxilia na criação de etiquetas para envio de correspondência;
- (B) envia documento do Word por e-mail;
- (C) faz uma cópia de segurança dos documentos para viagem;
- (D) fornece um modelo básico de carta comercial;
- (E) permite selecionar um modelo básico de carta entre diversos tipos diferentes.

47- O propósito da pasta “Rascunhos” no MS Outlook 2000 é:

- (A) armazenar as mensagens não concluídas, salvas automaticamente pelo Outlook;
- (B) armazenar as mensagens rejeitadas pelo filtro automático de lixo eletrônico;
- (C) manter a sincronização entre a “Caixa de Entrada” e a mesma pasta armazenada no servidor;
- (D) manter cópias de todas as mensagens, antes da verificação de ortografia e gramática;
- (E) reenviar mensagens que não chegaram aos seus destinatários.

48- O procedimento a seguir que resulta na exclusão de uma linha de uma tabela no MS PowerPoint 2000 é:

- (A) Clicar em uma das células da linha > botão direito do mouse > Excluir linhas;
- (B) Clicar em uma das células da linha > botão direito do mouse > Recortar;
- (C) Formatar > Tabela > Excluir linhas;
- (D) Selecionar todas as células na linha > Editar > Excluir linha inteira;
- (E) Selecionar uma das células da linha > Editar > Excluir linha inteira.

49- Entretenimento, Acessibilidade, Calculadora e Catálogo de endereços são alguns dos programas/grupo de programas do MS Windows XP encontrados na pasta:

- (A) Acessórios;
- (B) Catálogo do Windows;
- (C) Meu computador;
- (D) Meus locais de rede;
- (E) Painel de controle.

50- No MS Windows XP, para se estabelecerem permissões de acesso a arquivos e pastas, visando tornar seguros seus dados, deve-se usar o sistema de arquivos:

- (A) CDFS
- (B) FAT
- (C) FAT32
- (D) NTFS
- (E) OS2



## **INFORMAÇÕES ADICIONAIS**

**Núcleo de Computação Eletrônica  
Divisão de Concursos**

**Endereço:** Prédio do CCMN, Bloco C  
Ilha do Fundão - Cidade Universitária - Rio de Janeiro/RJ

**Caixa Postal:** 2324 - CEP 20010-974

**Central de Atendimento:** (21) 2598-3333

**Informações:** Dias úteis, de 8 h às 17 h (horário de Brasília)

**Site:** [www.nce.ufrj.br/concursos](http://www.nce.ufrj.br/concursos)

**Email:** [concursoufrj@nce.ufrj.br](mailto:concursoufrj@nce.ufrj.br)